

Section 1 - Part A-General Intelligence

-
- | | |
|---|--|
| <p>1) If MADRAS is written as NBESBT, then BOMBAY can be written as</p> <p>A) CPOCBZ</p> <p>B) CPNCBX</p> <p>C) CPNCBZ</p> <p>D) CQOCBZ</p> | <p>1) यदि MADRAS को NBESBT के रूप में लिखा गया है, तो BOMBAY को किस रूप में लिखा जा सकता है?</p> <p>A) CPOCBZ</p> <p>B) CPNCBX</p> <p>C) CPNCBZ</p> <p>D) CQOCBZ</p> |
|---|--|
-
- | | |
|---|--|
| <p>2) If $B=C$, $C>R$, $Q = N$, $L \geq R$, $N>B$, then which of the following relations will be true?</p> <p>A) $R=Q$</p> <p>B) $Q>R$</p> <p>C) $N=C$</p> <p>D) $N<R$</p> | <p>2) यदि $B=C$, $C>R$, $Q = N$, $L \geq R$, $N>B$, तो निम्नलिखित संबंधों में से कौनसा सच होगा?</p> <p>A) $R=Q$</p> <p>B) $Q>R$</p> <p>C) $N=C$</p> <p>D) $N<R$</p> |
|---|--|
-
- | | |
|--|---|
| <p>3) B's mother is the sister of A and daughter of F. D is the daughter of A and sister of E. How may F be related to E?</p> <p>A) Grand Son or Grand Daughter</p> <p>B) Grand Mother or Grand Father</p> <p>C) Mother</p> <p>D) Sister</p> | <p>3) B की माँ A की बहन और F की बेटी है। D A की बेटी और E की बहन है। तो F E से कैसे संबंधित है?</p> <p>A) पोता या पोती</p> <p>B) दादा या दादी</p> <p>C) माँ</p> <p>D) बहन</p> |
|--|---|
-
- | | |
|--|--|
| <p>4) Below four different numerical sequences are given. Three of them follow the same pattern as: 3571975175. Identify the one sequence that does NOT follow this pattern.</p> <p>A) 719317919</p> <p>B) 571973519</p> <p>C) 179537391</p> <p>D) 428478248</p> | <p>4) नीचे चार अलग-अलग संख्यात्मक क्रम दिए गए हैं। उनमें से तीन 3571975175 के जैसे समान पैटर्न का अनुसरण करते हैं। उस अनुक्रम की पहचान करें जो इस पैटर्न का पालन नहीं करता है?</p> <p>A) 719317919</p> <p>B) 571973519</p> <p>C) 179537391</p> <p>D) 428478248</p> |
|--|--|
-

5) Mahesh, John and Karan are males and have ages of 13, 14 and 17 years, respectively. Maya, Lata and Madhvi are females and have ages of 13, 11 and 12 years respectively. How many of them will qualify for Cricket if the age for playing should be between 12 and 15 years? (Excluding both)

- A) 5
- B) 6
- C) 2
- D) 3

5) महेश, जॉन और करण पुरुष हैं और उनकी उम्र क्रमशः 13, 14 और 17 वर्ष है। माया, लता और माधवी महिलाएं हैं और उनकी उम्र क्रमशः 13, 11 और 12 वर्ष है। उनमें से कितने क्रिकेट के लिए अर्हता प्राप्त करेंगे अगर खेलने के लिए उम्र 12 और 15 वर्ष के बीच होनी चाहिए ?(दोनों को छोड़कर)

- A) 5
- B) 6
- C) 2
- D) 3

6) You are given a pair of statements.

A) $P > Q$.

B) $Q < R$.

Which of the following questions can be answered by using the given statements?

- A) Is $P > R$?
- B) Is $P = Q$?
- C) Is $Q > S$?
- D) Is $P + R = 2Q$?

6) आपको कथनों की एक जोड़ी दी गई है।

A) $P > Q$

B) $Q < R$

दिए गए कथनों का उपयोग करके निम्न में से किस सवाल का उत्तर दिया जा सकता है?

- A) क्या $P > R$ है?
- B) क्या $P = Q$ है?
- C) क्या $Q > S$ है?
- D) क्या $P + R = 2Q$ है?

7) 2 dices are thrown on the floor. Numbers on the top of the faces have been added. What is the probability of getting the sum as either 4 or 12?

- A) $2/13$
- B) $1/12$
- C) $1/9$
- D) $7/11$

7) 2 पासे फर्श पर फेंक दिए गए हैं। फलकों के ऊपरी भाग पर आयी हुई संख्या को जोड़ दिया गया है। 4 या 12 का योग प्राप्त करने की संभावना क्या है?

- A) $2/13$
- B) $1/12$
- C) $1/9$
- D) $7/11$

8) What is the coded symbol for 971254 from the following figure?

Figure:

Digit	5	1	3	4	9	6	8	2	7
Symbol	P	A	K	%	R	@	d	©	M

- A) MMP©P%
- B) RMA©P%
- C) RMA©P@
- D) RMA©d%

8) निम्नलिखित चित्र से 971254 के लिए कूट बद्ध चिन्ह क्या है?

चित्र:

Digit	5	1	3	4	9	6	8	2	7
Symbol	P	A	K	%	R	@	d	©	M

- A) MMP©P%
- B) RMA©P%
- C) RMA©P@
- D) RMA©d%

9) The next term in the series 17496, 1458, ____, 27, 9 is

- A) 64
- B) 81
- C) 54
- D) 162

9) श्रृंखला 17496, 1458, ____, 27, 9 में अगली संख्या है

- A) 64
- B) 81
- C) 54
- D) 162

10) A trader sold an item with a loss of 20 percent. If the selling price had been increased by Rs.225, there could be a gain of 25 percent. What was the cost price of that item?

- A) Rs.400
- B) Rs.300
- C) Rs.600
- D) Rs.500

10) एक व्यापारी ने एक वस्तु को 20 प्रतिशत की हानि के साथ बेच दिया। अगर बिक्री की कीमत Rs.255 बढ़ती है, तो 25 प्रतिशत की बढ़ोतरी हो सकती है। उस वस्तु की लागत मूल्य क्या था?

- A) Rs.400
- B) Rs.300
- C) Rs.600
- D) Rs.500

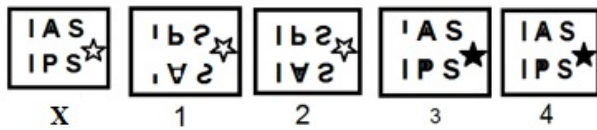
11) Which of these terms is NOT similar to others in respect to unique number of vowels in the given word?

- A) POISON
- B) UNICORN
- C) MATERIAL
- D) CONTINENT

11) दिए गए पदों में से कौन सा पद स्वरों (वाउअल) की अनूठी संख्या होने के वजह से दूसरे पदों से अलग है?

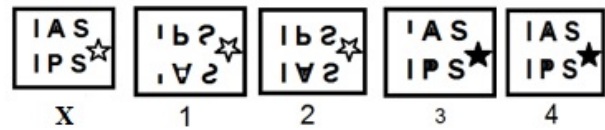
- A) POISON
- B) UNICORN
- C) MATERIAL
- D) CONTINENT

12) Which of the images amongst 1, 2, 3 and 4 is the correct water image of the figure X?



- A) Image 2
- B) Image 1
- C) Image 4
- D) Image 3

12) निम्न चित्र X के लिए दिये गये 1, 2, 3 और 4 प्रतिबिम्बों में से कौन सा सही जल प्रतिबिम्ब है?



- A) प्रतिबिम्ब 2
- B) प्रतिबिम्ब 1
- C) प्रतिबिम्ब 4
- D) प्रतिबिम्ब 3

13) Which of these terms is NOT similar to others in respect to positive difference between unique number of consonants and unique number of vowels in the given word?

- A) LIVER
- B) ARSON
- C) CORNEA
- D) GUEST

13) इनमें से कौन सी पद अपने व्यंजन (कान्सनन्ट) की अनूठी संख्या और स्वरों (वाउअल) की अनूठी संख्या के बीच सकारात्मक अंतर के संबंध में दूसरे पदों के समान नहीं है?

- A) LIVER
- B) ARSON
- C) CORNEA
- D) GUEST

14) A cube is painted on all the faces with different colours and cut into 27 smaller cubes of equal size. How many cubes are painted on 3 faces?

- A) 8
- B) 10
- C) 6
- D) 12

14) एक घन के सभी फलक पर अलग-अलग रंगों से पेंट किया जाता है और समान आकार के 27 छोटे घन में काटा जाता है। कितने घन के 3 फलक पर पेंट किया गया है?

- A) 8
- B) 10
- C) 6
- D) 12

15) A three digit number is a multiple of numbers from 1 to 6, but NOT 7. Also, it is a multiple of numbers from 8 to 10, but NOT 11. What is the smallest such number?

- A) 720
- B) 360
- C) Cannot be determined
- D) 120

15) एक तीन अंकों की संख्या 1 से 6 संख्याओं की गुणक है, लेकिन 7 के गुणक नहीं। इसके अलावा, यह 8 से 10 संख्याओं की गुणक है, लेकिन 11 के गुणक नहीं। इस संख्या में सबसे छोटी संख्या क्या है?

- A) 720
- B) 360
- C) निर्धारित नहीं किया जा सकता है
- D) 120

16) Six friends, P, Q, R, S, T and U, are going for a trip. The tallest among them is 13 cms taller than the shortest. The height of R is average of the height of P and T. The heights of T and R are 162.5 cms and 156 cms, respectively. Who is shortest among them?

- A) S
- B) Q
- C) R
- D) P

16) छह दोस्त, P, Q, R, S, T और U एक यात्रा के लिए जा रहे हैं। उनमें से सबसे लंबा व्यक्ति, सबसे नाटे व्यक्ति से 13 सेमी लंबा है। R की लम्बाई P और T की लम्बाई का औसत है। T और R की लम्बाई क्रमशः 162.5 सेमी और 156 सेमी है। उनके बीच सबसे नाटा कौन है?

- A) S
- B) Q
- C) R
- D) P

17) Ranjan is the brother of the man Sumit and Mohit is the father of Ranjan. Jagan is the brother of Piu while Piu is the daughter of Sumit. Who is the uncle of Jagan?

- A) Mohit
- B) Sumit
- C) Ranjan
- D) Mohit's father

17) रंजन सुमित नामक आदमी का भाई है और मोहित रंजन का पिता है। जगन पीयू का भाई है जबकि पीयू सुमित की बेटी है। जगन के चाचा कौन हैं?

- A) मोहित
- B) सुमित
- C) रंजन
- D) मोहित का पिता

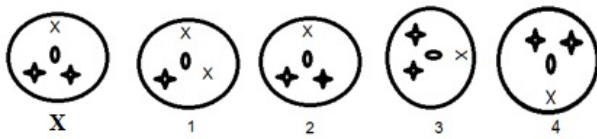
18) Among the given triad of terms, identify the terms in which triad are similar to each other?

- A) 3982, 2893 and 3829
- B) 456, 2891 and 3892
- C) 4674, 1189 and 3782
- D) 2305, 2402 and 2502

18) दिए गए तीन पदों में से, उन अंको की पहचान करें जिसमें तीनों एक दूसरे के समान हैं?

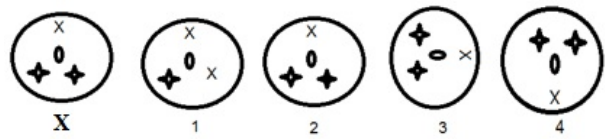
- A) 3982, 2893 और 3829
- B) 456, 2891 और 3892
- C) 4674, 1189 और 3782
- D) 2305, 2402 और 2502

19) Which of the images amongst 1, 2, 3 and 4 is the correct water image of the following figure X?



- A) Image 2
B) Image 4
C) Image 1
D) Image 3

19) निम्न चित्र X के लिए दिये गये 1, 2, 3 और 4 प्रतिबिम्बों में से कौन सा सही जल प्रतिबिम्ब है?



- A) प्रतिबिम्ब 2
B) प्रतिबिम्ब 4
C) प्रतिबिम्ब 1
D) प्रतिबिम्ब 3

20) The average marks of three sections of Class XI with 60, 48 and 52 students are 60, 75 and 80 respectively. What would be the average marks of all the students?

- A) 66
B) 71
C) 64.9
D) 52.83

20) कक्षा XI के तीन वर्गों के छात्रों की संख्या 60, 48 और 52 है, जिनके औसत अंक क्रमशः 60, 75 और 80 हैं। सभी छात्रों के औसत अंक क्या होंगे?

- A) 66
B) 71
C) 64.9
D) 52.83

21) The missing term in the series 2, 128, 5, 64, 8, ____, 11, 16, 14, 8 is

- A) 32
B) 31
C) 43
D) 54

21) श्रृंखला 2, 128, 5, 64, 8, ____, 11, 16, 14, 8 में अनुपस्थित संख्या है

- A) 32
B) 31
C) 43
D) 54

22) Out of a total of 67 animals in a zoo, more than half are ill. Out of the fit animals, one third roam in open. 20 fit animals do NOT roam in open. How many animals are ill?

- A) 37
B) 43
C) 34
D) 40

22) एक चिड़ियाघर के कुल 67 जानवरों में से आधे से ज्यादा बीमार हैं। स्वस्थ जानवरों में से, एक तिहाई खुले में घूमते हैं। 20 स्वस्थ जानवर खुले में घूमते नहीं हैं। कितने जानवर बीमार हैं?

- A) 37
B) 43
C) 34
D) 40

23) The next term in the series 69.4, 347, 1388, 4164, 8328, ____ is

- A) 4298
- B) 16782
- C) 8328
- D) 6432

23) श्रृंखला 69.4, 347, 1388, 4164, 8328, ____ में अगली संख्या है

- A) 4298
- B) 16782
- C) 8328
- D) 6432

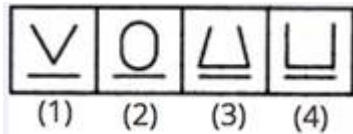
24) Find the odd one out.

- A) Pager
- B) Barcode reader
- C) Calculator
- D) Abacus

24) विषम पद को खोजें।

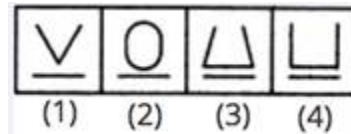
- A) पेजर
- B) बारकोड रीडर
- C) कैलकुलेटर
- D) एबेकस

25) Which picture is different from the other pictures?



- A) 4
- B) 1
- C) 2
- D) 3

25) चित्र में कौन सी आकृति अन्य आकृतियों से अलग है?



- A) 4
- B) 1
- C) 2
- D) 3

26) From the number 3826791, firstly the leftmost digit that is multiple of 2 is taken out and moved to front. Then, the rightmost digit that is multiple of 3 is taken out and moved to last. What will be the sum of middle five digits of number formed?

- A) 23
- B) 19
- C) 17
- D) 21

26) 3826791 की संख्या में पहले सबसे बाईं ओर वाला अंकीय जो 2 के गुणक है उसे बाहर निकाला जाता है और सामने लिया जाता है। फिर सबसे दायीं ओर वाला अंकीय जो 3 के गुणक है उसे बाहर निकाला जाता है और अंतिम लिया जाता है। संख्या के बीच पांच अंकों की योग क्या होगी?

- A) 23
- B) 19
- C) 17
- D) 21

27) Richa can speak a lie or the truth randomly. What will be her answer on a Tuesday, if she is asked, "Is today a Tuesday"?

- A) No
- B) Cannot be determined
- C) yes and no alternately
- D) Yes

27) रिचा झूठ या सच्चाई को बेतरतीब ढंग से बता सकती है। मंगलवार को उसका जवाब क्या होगा, अगर उसे पूछा जाए, "क्या आज मंगलवार है"?

- A) नहीं
- B) निर्धारित नहीं किया जा सकता है
- C) हाँ और नहीं वैकल्पिक रूप से
- D) हाँ

28) Which is the missing number in the given series? (Hint:- The number series is related to the alphabetical series)

26 22 18 12 ?

- A) 10
- B) 8
- C) 6
- D) 5

28) दी गई अनुक्रम में कौन-सी संख्या अनुपस्थित है? (संकेत: - यह अनुक्रम अंग्रेजी वर्णमाला (alphabetical series) से संबंधित है)

26 22 18 12 ?

- A) 10
- B) 8
- C) 6
- D) 5

29) The average salary of all the employees of a shop is Rs.8,000 and that of the 7 supervisors is Rs.12,000 while that of the rest who are fitters is Rs.6000. How many persons are working there?

- A) 21
- B) 20
- C) 23
- D) 22

29) एक दुकान के सभी कर्मचारियों का औसत वेतन Rs.8,000 और 7 पर्यवेक्षकों का Rs.12,000 है, जबकि बाकी जो फिटर हैं उनका वेतन Rs.6000 है। वहां कितने व्यक्ति काम करते हैं?

- A) 21
- B) 20
- C) 23
- D) 22

30) If 'mango' is called 'orange', 'orange' is called 'Flower', 'Flower' is called 'JellyFish', 'JellyFish' is called 'Tail' and 'Tail' is called 'Penting', 'Rose' should be called as

- A) Penting
- B) orange
- C) JellyFish
- D) mango

30) यदि 'mango' को 'orange', 'orange' को 'flower', 'flower' को 'JellyFish', 'JellyFish' को 'Tail' और 'Tail' को 'Penting' कहा जाता है तो 'Rose' को क्या कहा जायेगा?

- A) Penting
- B) orange
- C) JellyFish
- D) mango

31) Which of the following statements can be used to take a decision on this problem: In which direction is Garima facing?

- A) If Garima moves to right, she will not be facing North
- B) If Garima rotates left by 90 degrees, she will face South East
- C) Problem cannot be solved
- D) Garima is not facing South

31) निम्न में से कौन सा कथन इस समस्या पर निर्णय लेने के लिए इस्तेमाल किया जा सकता है: गरिमा किस दिशा में देख रही है?

- A) यदि गरिमा दाएँ मूड़ जाती है तो वह उत्तर की तरफ नहीं देख रही होगी
- B) अगर गरिमा बाएँ की ओर 90 डिग्री तक घूमती है, तो दक्षिण पूर्व के तरफ देखेगी
- C) समस्या हल नहीं की जा सकती है
- D) गरिमा दक्षिण की ओर नहीं देख रही है

32) If TRIANGLE is written as SQHZMFKD, then the decoded word for DWZLOKD is

- A) FIGMENT
- B) DISMISS
- C) DISJOIN
- D) EXAMPLE

32) यदि TRIANGLE को SQHZMFKD के रूप में लिखा जाता है, तो DWZLOKD के लिए कूटानुवादित शब्द क्या होगा?

- A) FIGMENT
- B) DISMISS
- C) DISJOIN
- D) EXAMPLE

33) Indicating the photograph of Gautam, Swati said, "His mother's only daughter is my mother." How is Swati related to Gautam?

- A) Sister
- B) Nephew
- C) Wife
- D) Niece

33) गौतम की तस्वीर की ओर इशारा करते हुए, स्वाति ने कहा, "उनकी माँ की एकमात्र बेटी मेरी माँ है।" स्वाति, गौतम की क्या लगती है?

- A) बहन
- B) भांजा या भतीजा
- C) पत्नी
- D) भांजी

34) There are two towns, A and B. In A, population decreases by 10,000 every year. In B, population increases by 15,000 every year. What should be the difference between initial populations of B and A if their population becomes equal after 30 years?

- A) 450000
- B) 750000
- C) 600000
- D) 108000

34) दो शहर हैं, A और B. A में, हर वर्ष 10,000 की आबादी घट जाती है। B में, हर वर्ष 15,000 की आबादी बढ़ जाती है। B और A की प्रारंभिक आबादी के बीच अंतर क्या होना चाहिए यदि उनकी आबादी 30 वर्ष बाद समान हो जाती है?

- A) 450000
- B) 750000
- C) 600000
- D) 108000

-
- | | |
|--|--|
| <p>35) How much sugar should be added to 30 kgs of 4 percent solution to make it a 12 percent solution?</p> <p>A) 2.73 kgs
B) 3.33 kgs
C) 3.67 kgs
D) 1.25 kgs</p> | <p>35) 30 kg कि 4 प्रतिशत घोल को 12 प्रतिशत घोल बनाने के लिए कितनी अधिक चीनी मिलानी होगी?</p> <p>A) 2.73 kgs
B) 3.33 kgs
C) 3.67 kgs
D) 1.25 kgs</p> |
|--|--|
-
- | | |
|---|---|
| <p>36) Select one of the following four options that will make the second pair analogous to the first pair given as:
Wish : Desire :: Quarrel : _____ .</p> <p>A) Argument
B) Fight
C) Peace
D) War</p> | <p>36) निम्न चार विकल्पों में से एक का चयन करें जो कि द्वितीय जोड़ी को पहली जोड़ी के समान दिया जाएगा:
अभिलाषा: इच्छा :: झगड़ा: _____</p> <p>A) बहस
B) लड़ाई
C) शांति
D) युद्ध</p> |
|---|---|
-
- | | |
|--|--|
| <p>37) Select one of the following four options that will make the second pair analogous to the first pair given as:
Lend : Borrow :: Advance : _____ .</p> <p>A) Decline
B) Retreat
C) Delay
D) Closure</p> | <p>37) निम्न चार विकल्पों में से एक का चयन करें जो कि द्वितीय जोड़ी को पहली जोड़ी के समान दिया जाएगा:
उधार देना: उधार लेना :: अग्रगति : _____</p> <p>A) अवनति
B) वापसी
C) विलंब
D) समापन</p> |
|--|--|
-
- | | |
|---|--|
| <p>38) Below four different alphanumerical sequences are given. Three of them follow the same pattern as: J1000J. Identify the one sequence that does NOT follow this pattern.</p> <p>A) K1331K
B) M2197M
C) N2744N
D) P4048P</p> | <p>38) नीचे चार अलग-अलग अक्षरांकीय क्रम दिए गए हैं। उनमें से तीन J1000J के जैसे समान पैटर्न का अनुसरण करते हैं। उस अनुक्रम की पहचान करें जो इस पैटर्न का पालन नहीं करता है?</p> <p>A) K1331K
B) M2197M
C) N2744N
D) P4048P</p> |
|---|--|
-

39) A set of statements is given.

- A) Seeta is mother of Kush,
- B) Kush is grandson of Latika.

Which of the given set of statements should be used to decide the solution to the problem: What is the relation of Seeta with Latika?

- A) Both A and B together
- B) Only B
- C) Only A
- D) Not possible to decide even with both A and B

39) कथनों का एक समूह दिया गया है।

- A) सीता कुश की मां है,
- B) कुश लतिका का पोता है।

लतिका के साथ सीता का क्या संबंध है: इस समस्या का समाधान करने के लिए निर्धारित बयानों में से किसका उपयोग किया जाना चाहिए?

- A) A और B दोनों एक साथ
- B) केवल B
- C) केवल A
- D) A और B दोनों के साथ भी तय करना संभव नहीं है

40) Given are some sentences that look similar and provide some information.

- A. P is a natural number.
- B. P is a positive whole number.
- C. P is an integer.

Identify and answer which of them provide equivalent information?

- A) C and A
- B) All provide different information
- C) B and C
- D) A and B

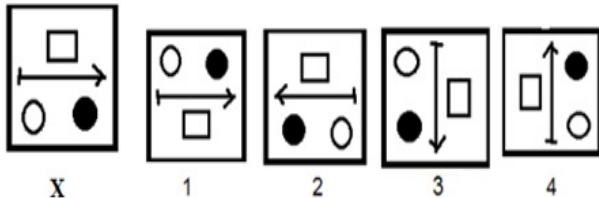
40) समान दिखने वाले कुछ वाक्य दिए गए हैं जो कुछ जानकारी प्रदान करते हैं।

- A. P एक प्राकृतिक संख्या है।
- B. P एक सकारात्मक पूर्ण संख्या है।
- C. P एक पूर्णांक है।

पहचानें और बताएं कि उनमें से कौन सा समकक्ष जानकारी प्रदान करता है।

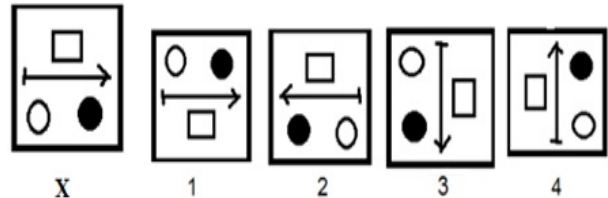
- A) C और A
- B) सभी अलग-अलग जानकारी प्रदान करते हैं
- C) B और C
- D) A और B

41) Which of the images amongst 1, 2, 3 and 4 is the correct water image of the following figure X?



- A) Image 4
- B) Image 3
- C) Image 2
- D) Image 1

41) निम्न चित्र X के लिए दिये गये 1, 2, 3 और 4 प्रतिबिम्बों में से कौन सा सही जल प्रतिबिम्ब है?



- A) प्रतिबिम्ब 4
- B) प्रतिबिम्ब 3
- C) प्रतिबिम्ब 2
- D) प्रतिबिम्ब 1

42) Which of these options can be judged from one of the remaining three options, where P and Q are natural numbers?

- A) P is a multiple of 12
- B) P is 156 times Q
- C) Q is a factor of 60
- D) P is a factor of Q

42) इनमें से कौन सा विकल्प शेष तीन विकल्पों में से एक से आंका जा सकता है, जहाँ P और Q प्राकृतिक संख्याएं हैं?

- A) P, 12 का एक गुणक है
- B) Q का 156 गुना P है
- C) Q, 60 का एक गुणक है
- D) P, Q का एक गुणक है

43) Select one of the following four options that will make the second pair analogous to the first pair given as:

Canada : North America :: Ghana : _____ .

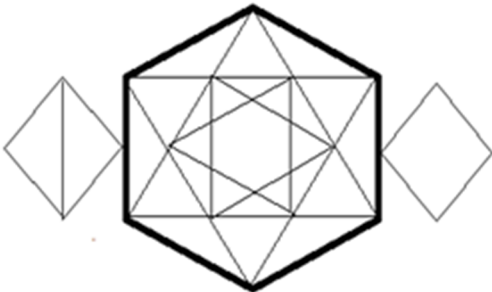
- A) North America
- B) Central America
- C) Africa
- D) South Africa

43) निम्नलिखित चार विकल्पों में से एक का चयन करें जो दूसरी जोड़ी के रूप में दी गई पहली जोड़ी के अनुरूप होगा:

कनाडा: उत्तरी अमरीका :: घाना: _____

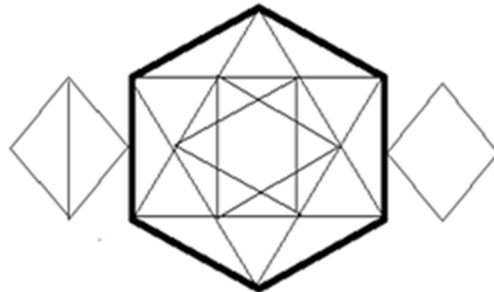
- A) उत्तरी अमरीका
- B) सेन्ट्रल अमेरिका
- C) अफ्रीका
- D) दक्षिण अफ्रीका

44) How many triangles are there in the following figure?



- A) 78
- B) 74
- C) 76
- D) 72

44) निम्नलिखित चित्र में कितने त्रिकोण हैं?



- A) 78
- B) 74
- C) 76
- D) 72

45) How many triangles are there in the given figure?



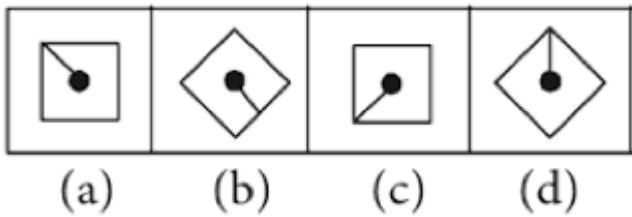
- A) 14
- B) 10
- C) 20
- D) 12

45) दिए गए चित्र में कितने त्रिकोण हैं?



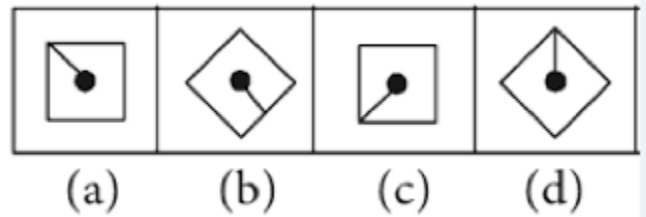
- A) 14
- B) 10
- C) 20
- D) 12

46) Which picture is different from the other pictures in the following figure ?



- A) b
- B) c
- C) d
- D) a

46) चित्र में कौन सी आकृति अन्य आकृतियों से भिन्न है?



- A) b
- B) c
- C) d
- D) a

47) Find the odd one out.

- A) Rowing
- B) River rafting
- C) Drone racing
- D) Surfing

47) विषम पद को खोजें।

- A) रोइंग
- B) रिवर राफ्टिंग
- C) ड्रोन रेसिंग
- D) सर्फिंग

48) A triangle is formed by letters of the alphabetical series. First row has 1st alphabet, 2nd row has next two alphabets and so on. Which are few of the alphabets in the 6th row?

- A) IJKL
- B) KLMN
- C) PQRS
- D) UVWX

48) एक त्रिकोण वर्णानुक्रमिक श्रृंखला के अक्षर से बनते हैं। पहली पंक्ति में पहला अक्षर है, दूसरी पंक्ति में अगले दो अक्षर हैं और इसी तरह क्रमशः आगे है। 6वीं पंक्ति के कुछ वर्ण कौनसे हैं?

- A) IJKL
- B) KLMN
- C) PQRS
- D) UVWX

49) Choose the number which is different from the rest others

- A) 6352
- B) 3456
- C) 6354
- D) 4536

49) उस संख्या का चुनाव करें जो अन्य से अलग है

- A) 6352
- B) 3456
- C) 6354
- D) 4536

50) Select one of the following four options that will make the second pair analogous to the first pair given as:

Goldsmith : Ornaments :: Butcher : _____ .

- A) Shoes
- B) Ornaments
- C) Meat
- D) Leather

50) निम्नलिखित चार विकल्पों में से एक का चयन करें जो दूसरी जोड़ी को पहली जोड़ी के अनुरूप बना देगा:

सुनार: गहने :: कसाई: _____

- A) जूते
- B) आभूषण
- C) माँस
- D) चमड़ा

Section 2 - Part B-General Awareness

-
- | | |
|--|---|
| <p>51) State shall protect and improve the environment, besides safeguarding forests and wild life'. Which article of the Indian Constitution has provisions for the given statement?</p> <p>A) 48A
B) 43A
C) 479A
D) 469A</p> | <p>51) राज्य वनों और वन्य जीवों की सुरक्षा के अलावा, पर्यावरण की रक्षा करेगा और सुधार करेगा। भारतीय संविधान के किस अनुच्छेद में दिए गए बयान के प्रावधान हैं?</p> <p>A) 48A
B) 43A
C) 479A
D) 469A</p> |
|--|---|
-
- | | |
|---|--|
| <p>52) After USA, which country has the most number of companies listed on NASDAQ and is known as the start-up Nation for the highest concentration of start-ups?</p> <p>A) Israel
B) Japan
C) South Korea
D) Netherlands</p> | <p>52) USA के बाद कौन से देश की सबसे ज्यादा कंपनियां NASDAQ पर सूचीबद्ध हैं और स्टार्ट-अप के सर्वोच्च एकाग्रता के लिए स्टार्ट-अप राष्ट्र के रूप में जानी जाती है?</p> <p>A) इज़राइल
B) जापान
C) दक्षिण कोरिया
D) नीदरलैण्ड</p> |
|---|--|
-
- | | |
|---|---|
| <p>53) Which authority conducts the presidential elections in India?</p> <p>A) Election Commission of India
B) Supreme Court of India
C) Parliament of India
D) Reserve Bank of India</p> | <p>53) कौन सा प्राधिकरण भारत में राष्ट्रपति चुनाव आयोजित करता है?</p> <p>A) भारत का चुनाव आयोग
B) सुप्रीम कोर्ट ऑफ इंडिया
C) भारत की संसद
D) भारतीय रिजर्व बैंक</p> |
|---|---|
-
- | | |
|--|---|
| <p>54) If a ship crosses the International Date Line from East to West it</p> <p>A) gains one day
B) loses 12 hours
C) loses one day
D) gains 12 hours</p> | <p>54) यदि कोई जहाज पूर्व से पश्चिम दिशा में अन्तर्राष्ट्रीय तिथि रेखा को पार करता है तो</p> <p>A) उसे एक दिन का मुनाफ़ा होता है
B) वह 12 घंटे खो देता है
C) वह एक दिन खो देता है
D) उसे 12 घंटे का मुनाफ़ा होता है</p> |
|--|---|
-

55) Which among the following Muslim Movement was supported by Gandhiji to win over the heart of Muslims and to get their cooperation?

- A) Wahabi Movement
- B) Khilafat Movement
- C) Ahmadiyya Movement
- D) Non Cooperation Movement

55) मुसलमानों का दिल जीतने के लिए और उनका सहयोग पाने के लिए निम्नलिखित में से कौन सा मुस्लिम आंदोलन गांधीजी द्वारा समर्थित था?

- A) वहाबी आंदोलन
- B) खिलाफत आंदोलन
- C) अहमदीय आंदोलन
- D) असहयोग आन्दोलन

56) Who among the following first gave the idea of a separate state of Pakistan for Muslims?

- A) Shaikh Ahmad
- B) Muhammad Iqbal
- C) Muhammad Ali Jinnah
- D) Sir Syed Ahmad Khan

56) निम्नलिखित में से किसने पहले मुसलमानों के लिए एक अलग राज्य पाकिस्तान बनाने का सुझाव दिया?

- A) शेख अहमद
- B) मुहम्मद इकबाल
- C) मुहम्मद अली जिन्ना
- D) सर सैयद अहमद खान

57) Which is the longest bone in human body?

- A) Cranial bone
- B) Shoulder blade
- C) Thigh bone
- D) Breast bone

57) मानव शरीर में सबसे लंबी हड्डी कौन सी है?

- A) कपाल हड्डी
- B) कंधे की हड्डी
- C) जांघ की हड्डी
- D) छाती की हड्डी

58) Which of the following refers to the 'God of Death' as per Hindu mythology?

- A) Kuber
- B) Manu
- C) Digpal
- D) Yama

58) निम्नलिखित में से किसे हिंदू पौराणिक कथाओं के अनुसार 'मृत्यु का देवता' संदर्भित किया जाता है?

- A) कुबेर
- B) मनु
- C) दिग्पाल
- D) यम

-
- 59) ISRO has decided to set up a satellite tracking and imaging centre for ASEAN nations in which of the following countries?
- A) Indonesia
B) Vietnam
C) Malaysia
D) Thailand
-
- 59) निम्नलिखित देशों में से किसमें ISRO ने ASEAN देशों के लिए उपग्रह ट्रैकिंग और इमेजिंग सेंटर स्थापित करने का फैसला किया है?
- A) इंडोनेशिया
B) वियतनाम
C) मलेशिया
D) थाईलैंड
-
- 60) Who became the first batsman to score four successive centuries in a single ICC Cricket World Cup tournament?
- A) Chris Gayle
B) Kumar Sangakkara
C) Brendon McCullam
D) AB de Villiers
-
- 60) एक ही ICC क्रिकेट विश्वकप टूर्नामेंट में लगातार चार शतक लगाने वाले पहले बल्लेबाज कौन बने?
- A) क्रिस गेल
B) कुमार संगकारा
C) ब्रेंडन मैकुलम
D) एबी डी विलियर्स
-
- 61) Who among the following is a part of the political executive?
- A) District Collector
B) Additional Secretaries
C) Joint Secretaries
D) Cabinet Ministers
-
- 61) निम्नलिखित में से कौन राजनीतिक कार्यकारी का भागीदार है?
- A) जिला कलेक्टर
B) अतिरिक्त सचिव
C) संयुक्त सचिव
D) कैबिनेट मंत्री
-
- 62) Hasmukh Adhia holds which of the following positions in the Govt. of India (July 2017)?
- A) Chairman, NABARD
B) President, AGMARK
C) Deputy Governor, Reserve Bank of India
D) Revenue Secretary, Govt. of India
-
- 62) भारत सरकार में हसमुख अधिया यह निम्न में से कौन सा पद संभालते हैं (जुलाई 2017)?
- A) अध्यक्ष, NABARD
B) अध्यक्ष, AGMARK
C) डेप्यूटी गवर्नर, रिजर्व बैंक ऑफ इंडिया
D) भारत सरकार के राजस्व सचिव
-

63) Which of the following states of India has a separate capital for summer and winter?

- A) Uttarakhand
- B) Punjab
- C) Jammu and Kashmir
- D) Sikkim

63) निम्नलिखित में से भारत के किस राज्य के लिए गर्मि और शीत कालीन राजधानी अलग हैं?

- A) उत्तराखंड
- B) पंजाब
- C) जम्मू और कश्मीर
- D) सिक्किम

64) Which of the following technologies do most photocopiers use to print copies of documents and images on paper?

- A) Risography
- B) Reprography
- C) Xerography
- D) Scanography

64) कागज पर दस्तावेजों और छवियों की प्रतियां प्रिंट करने के लिए उपयोग की जाने वाला प्रौद्योगिकी निम्नलिखित में से कौन सा है?

- A) रिसोग्राफी
- B) रेप्रोग्राफी
- C) जैरोग्राफी
- D) स्केनोग्राफी

65) Which among the following is the oldest oil field in India?

- A) Bay of Bengal
- B) Digboi in Assam
- C) Mangala Area
- D) Bombay High

65) निम्नलिखित में से कौन भारत का सबसे पुराना तेल खदान है?

- A) बंगाल की खाड़ी
- B) असम में दिग्बोय
- C) मंगला क्षेत्र
- D) बॉम्बे हाई

66) Which among the following type of energy is NOT stored in tides?

- A) Gravitational Potential Energy
- B) Electric Energy
- C) Hydraulic Energy
- D) Kinetic Energy

66) निम्न प्रकार की ऊर्जा में से कौन ज्वार में संग्रहीत नहीं होता है?

- A) गुरुत्व विभव ऊर्जा
- B) विद्युत ऊर्जा
- C) द्रवचालित ऊर्जा
- D) गतिक ऊर्जा

67) Identify the constitution from which India borrowed the concept of Fundamental Duties.

- A) French
- B) Canadian
- C) Soviet Union
- D) British

67) संविधान की पहचान करें, जिसमें से भारत ने मौलिक कर्तव्यों की अवधारणा को लिया है।

- A) फ्रेंच
- B) कैंनेडियन
- C) सोवियत संघ
- D) ब्रिटिश

68) The tenure of Jammu and Kashmir Vidhan Sabha is

- A) 4 years
- B) 10 years
- C) 5 years
- D) 6 years

68) जम्मू और कश्मीर विधानसभा का कार्यकाल है:

- A) 4 वर्ष
- B) 10 वर्ष
- C) 5 वर्ष
- D) 6 वर्ष

69) RERA Act 2017 passed by Parliament of India is related to which of the following sectors?

- A) Real Estate
- B) Cement
- C) Manufacturing
- D) Steel

69) भारत की संसद द्वारा पारित RERA अधिनियम 2017 निम्नलिखित क्षेत्रों में से किसे संबंधित है?

- A) रियल एस्टेट
- B) सीमेंट
- C) मैन्युफैक्चरिंग
- D) स्टील

70) Who lost his final qualifying round to American Ernesto Escobedo and failed to qualify for the singles main draw of the Australian Open 2017?

- A) Sumit Nagal
- B) Saketh Myneni
- C) Rohan Bopanna
- D) Yuki Bhambri

70) किसने अमेरिकी अर्नेस्टो एस्कोबेदो के लिए अपना अंतिम क्वालीफाइंग राउंड गंवाया और ऑस्ट्रेलियाई ओपन 2017 के एकल ड्रॉ के लिए क्वालीफाई करने में विफल रहे?

- A) सुमित नागल
- B) साकेत मायनेनी
- C) रोहन बोपन्ना
- D) युकी भांबरी

71) Which among the following is the most abundantly found element on the earth's crust?

- A) Sulphur
- B) Carbon
- C) Oxygen
- D) Silicon

71) निम्नलिखित में से कौन धरती की पर्पटी पर सबसे प्रचुर मात्रा में पाया जाने वाला तत्व है?

- A) सल्फर
- B) कार्बन
- C) ऑक्सीजन
- D) सिलिकॉन

-
- | | |
|--|--|
| <p>72) Magma that is forced out onto the Earth's surface, onto either the ocean bottom or the land, as in volcanic action is known as</p> <p>A) Vent
B) Lava
C) Cone
D) Gabbro</p> | <p>72) वह मैग्मा क्या कहलाता है जिसे जबरन पृथ्वी की सतह पर, सागर के तह या जमीन पर, ज्वालामुखीय प्रक्रिया की वजह से निकाला जाता है?</p> <p>A) वेंट
B) लावा
C) कोन
D) गैब्रो</p> |
|--|--|
-
- | | |
|--|--|
| <p>73) Where is Guindy National Park located?</p> <p>A) Hyderabad
B) Ahmedabad
C) Chennai
D) Bengaluru</p> | <p>73) गुइंडी राष्ट्रीय उद्यान कहां स्थित है?</p> <p>A) हैदराबाद
B) अहमदाबाद
C) चेन्नई
D) बेंगलुरु</p> |
|--|--|
-
- | | |
|--|---|
| <p>74) What is the name of a 10-kg satellite developed by students from Indian Institute of Technology (IIT), Bombay and launched by ISRO?</p> <p>A) SCATSAT-1
B) Pathfinder-9
C) Pratham
D) PISAT</p> | <p>74) ISRO द्वारा प्रक्षेपित एवं भारतीय प्रौद्योगिकी संस्थान मुम्बई के छात्रों द्वारा विकसित 10 किलोग्राम के उपग्रह का नाम क्या है?</p> <p>A) SCATSAT-1
B) पाथफाइंडर - 9
C) प्रथम
D) PISAT</p> |
|--|---|
-
- | | |
|--|--|
| <p>75) Who laid the foundation stone at India's first-ever para athlete training centre in 2017?</p> <p>A) Rajeev Shukla
B) Parattu Raveendran Sreejesh
C) Vijay Goel
D) Vinod Rai</p> | <p>75) 2017 में भारत के पहले पैरा एथलीट ट्रेनिंग सेंटर में किसने नींव रखी थी?</p> <p>A) राजीव शुक्ला
B) परत्तु रविन्द्रन श्रीजेश
C) विजय गोयल
D) विनोद राय</p> |
|--|--|
-

76) Which of the following mobile manufacturing companies has its headquarters in South Korea?

- A) Vivo
- B) Micromax
- C) Motorola
- D) Samsung

76) निम्न में से कौन सी मोबाइल उत्पादन कंपनी का मुख्यालय दक्षिण कोरिया में है?

- A) विवो
- B) माइक्रोमैक्स
- C) मोटोरोला
- D) सैमसंग

77) The first "village of books" has been set up in which of the following states in India?

- A) Karnataka
- B) Maharashtra
- C) Tripura
- D) Manipur

77) भारत के निम्नलिखित राज्यों में से किसमें पहला 'विलेज ऑफ बुक्स' स्थापित किया गया है?

- A) कर्नाटक
- B) महाराष्ट्र
- C) त्रिपुरा
- D) मणिपुर

78) Which of the following companies has signed MoU with ISRO to use remote sensing for better agriculture methods?

- A) Monsanto
- B) AMUL
- C) ITC India
- D) BASF

78) बेहतर कृषि पद्धतियों के लिए रिमोट सेंसिंग का उपयोग करने के लिए निम्न में से किस कंपनी ने ISRO के साथ समझौता ज्ञापन पर हस्ताक्षर किए हैं?

- A) मोनसैंटो
- B) अमूल
- C) ITC, भारत
- D) BASF

79) Who among the following won the Syed Modi International Badminton Championships title in the women's singles category in 2017?

- A) Jwala Gutta
- B) Pusarla Venkata Sindhu
- C) Arundhati Pantawane
- D) Saina Nehwal

79) निम्नलिखित में से किसने 2017 में महिला एकल वर्ग में सैयद मोदी इंटरनेशनल बैडमिंटन चैम्पियनशिप खिताब जीता था?

- A) ज्वाला गुट्टा
- B) पुसर्ला वेंकटा सिंधु
- C) अरुंधति पांतावने
- D) साइना नेहवाल

-
- | | |
|---|---|
| <p>80) Abolition of titles and Abolition of untouchability' are a part of which right among the following Fundamental Rights?</p> <p>A) Right to Equality
B) Right to Freedom of Religion
C) Right to Freedom
D) Right against Exploitation</p> | <p>80) उपाधियों का उन्मूलन और अस्पृश्यता का उन्मूलन' निम्नलिखित में से किस मौलिक अधिकारों में से एक का हिस्सा हैं?</p> <p>A) समानता का अधिकार
B) धर्म की स्वतंत्रता का अधिकार
C) स्वतंत्रता का अधिकार
D) शोषण के विरुद्ध अधिकार</p> |
|---|---|
-
- | | |
|--|--|
| <p>81) Identify the authority of the Indian Constitution among the following who is entitled to adjudge on a parliament member qualification.</p> <p>A) Lok Sabha Speaker
B) President
C) Judge of the Supreme Court
D) Prime Minister</p> | <p>81) भारतीय संविधान के उस अधिकार को पहचानें, जो संसद के सदस्य योग्यता में निर्णय लेने के हकदार है।</p> <p>A) लोकसभा अध्यक्ष
B) राष्ट्रपति
C) सुप्रीम कोर्ट के न्यायाधीश
D) प्रधान मंत्री</p> |
|--|--|
-
- | | |
|---|--|
| <p>82) Which of the following vessels is recommended for cooking in an Ayurvedic kitchen setup?</p> <p>A) Ceramic
B) Aluminium
C) Plastic
D) Iron</p> | <p>82) एक आयुर्वेदिक रसोईघर रूपरचना में खाना पकाने के लिए निम्न में से कौनसी बरतन की सिफारिश की गई है?</p> <p>A) सिरेमिक
B) अल्युमीनियम
C) प्लास्टिक
D) लोहा</p> |
|---|--|
-
- | | |
|--|--|
| <p>83) Some of the features of the 'Directive Principles of the State Policy' of the Indian Constitution are borrowed from the Constitution of</p> <p>A) Britain
B) Canada
C) Ireland
D) America</p> | <p>83) भारतीय संविधान के 'राज्य नीति के निर्देशक सिद्धांतों' की कुछ विशेषताएँ किस संविधान से लिये गए हैं?</p> <p>A) ब्रिटेन
B) कनाडा
C) आयरलैंड
D) अमेरिका</p> |
|--|--|
-

-
- | | |
|--|---|
| <p>84) Who was elected as the Permanent Chairman of the Constituent Assembly?</p> <p>A) Jayaprakash Narayan</p> <p>B) Louis Mountbatten</p> <p>C) Dr. Bhimrao Ambedkar</p> <p>D) Dr. Rajendra Prasad</p> | <p>84) संविधान सभा के स्थायी अध्यक्ष के रूप में कौन चुने गए थे?</p> <p>A) जयप्रकाश नारायण</p> <p>B) लुई माउंटबेटन</p> <p>C) डॉ. भीमराव अम्बेडकर</p> <p>D) डॉ. राजेंद्र प्रसाद</p> |
|--|---|
-
- | | |
|--|---|
| <p>85) When did the Indian men's hockey team captain Parattu Raveendran Sreejesh become a member of FIH Athletes' Committee?</p> <p>A) 2015</p> <p>B) 2017</p> <p>C) 1998</p> <p>D) 2013</p> | <p>85) भारतीय पुरुष हॉकी टीम के कप्तान परत्तु रविन्द्रन श्रीजेश कब FIH की एथलीट्स कमेटी के सदस्य बने?</p> <p>A) 2015</p> <p>B) 2017</p> <p>C) 1998</p> <p>D) 2013</p> |
|--|---|
-
- | | |
|--|--|
| <p>86) Which of the following is the traditional theatre form of Kashmir?</p> <p>A) Therukoothu</p> <p>B) Bhand Pather</p> <p>C) Jatra</p> <p>D) Sopana Sangeetham</p> | <p>86) निम्नलिखित में से कौन सा कश्मीर का पारंपरिक नाटकशाला रूप है?</p> <p>A) थेरूकूथु</p> <p>B) भंद पाथेर</p> <p>C) जात्रा</p> <p>D) सोपान संगीतम</p> |
|--|--|
-
- | | |
|--|--|
| <p>87) What is the abbreviation of MSG, a chief flavor enhancer used in the food industry?</p> <p>A) Monosodium glutamate</p> <p>B) Monosodium glycinate</p> <p>C) Monosodium glutamine</p> <p>D) Monosulphur glycerol</p> | <p>87) MSG किसका संक्षिप्त नाम है जो मुख्य रूप से खाद्य उद्योग में स्वाद बढ़ाने के लिए इस्तेमाल किया जाता है?</p> <p>A) मोनोसोडियम ग्लूटामेट</p> <p>B) मोनोसोडियम ग्लिसिनेट</p> <p>C) मोनोसोडियम ग्लूटामाइन</p> <p>D) मोनोसलफूर ग्लिसरॉल</p> |
|--|--|
-

-
- | | |
|--|---|
| <p>88) Which of the following political coalitions belong to Kerala?</p> <p>A) United Socialist Front</p> <p>B) United Capitalist Front</p> <p>C) United Progressive Front</p> <p>D) United Democratic Front</p> | <p>88) निम्नलिखित में से कौन सी राजनीतिक गठबंधन केरल का है?</p> <p>A) यूनाइटेड सोशलिस्ट फ्रंट</p> <p>B) यूनाइटेड कैपिटलिस्ट फ्रंट</p> <p>C) यूनाइटेड प्रोग्रेसिव फ्रंट</p> <p>D) यूनाइटेड डेमोक्रेटिक फ्रंट</p> |
|--|---|
-
- | | |
|--|--|
| <p>89) Which among the following policies was the result of Lord Dalhousie's imperialism in India?</p> <p>A) Subsidiary Alliance</p> <p>B) Doctrine of Lapse</p> <p>C) Regulating Act</p> <p>D) Permanent Settlement</p> | <p>89) निम्नलिखित में से कौन सी नीति भारत में लॉर्ड डलहौज़ी के साम्राज्यवाद भाव का नतीजा था?</p> <p>A) सब्सिडियरी अलायन्स</p> <p>B) डॉक्ट्रिन ऑफ लैप्स</p> <p>C) रेगुलेटिंग एक्ट</p> <p>D) पर्मनेंट सेटलमेंट</p> |
|--|--|
-
- | | |
|--|---|
| <p>90) Which of the following reasons justifies the superiority of Lok Sabha over the Rajya Sabha?</p> <p>A) Lok Sabha controls the imposition and collection of taxes</p> <p>B) Lok Sabha is the upper house of the parliament</p> <p>C) Lok Sabha has a term of six years</p> <p>D) Lok Sabha can never be dissolved</p> | <p>90) निम्नलिखित में से कौन सा तर्क राज्यसभा के ऊपर लोकसभा की श्रेष्ठता को सही ठहरता है?</p> <p>A) लोकसभा करों के अधिरोपण और संचयन को नियंत्रित करता है</p> <p>B) लोकसभा संसद का ऊपरी सदन है</p> <p>C) लोकसभा का कार्यकाल छह का साल है</p> <p>D) लोकसभा कभी भी भंग नहीं किया जा सकता</p> |
|--|---|
-
- | | |
|---|--|
| <p>91) The type of unemployment in which workers are voluntarily between jobs and are searching for new and better jobs is called</p> <p>A) turnover</p> <p>B) cyclical</p> <p>C) frictional</p> <p>D) structural</p> | <p>91) बेरोजगारी का प्रकार जिसमें कार्यकर्ता स्वेच्छा से नौकरी के बीच होते हैं और नए और बेहतर नौकरियों के लिए खोज रहे हैं, यह है</p> <p>A) टर्नओवर</p> <p>B) चक्रीय</p> <p>C) संघर्ष-संबंधी</p> <p>D) स्ट्रक्चरल</p> |
|---|--|
-

-
- | | |
|---|---|
| <p>92) Who among the following was given the epithet 'The Grand Old Man of India'?</p> <p>A) Mahatma Gandhi</p> <p>B) Surendranath Banerjee</p> <p>C) Dadabhai Naoroji</p> <p>D) Jawaharlal Nehru</p> | <p>92) निम्नलिखित में से किसे 'द ग्रेंड ओल्ड मैन ऑफ़ इंडिया' उपाधि दिया गया था?</p> <p>A) महात्मा गांधी</p> <p>B) सुरेंद्रनाथ बनर्जी</p> <p>C) दादाभाई नौरोजी</p> <p>D) जवाहर लाल नेहरू</p> |
|---|---|
-
- | | |
|--|---|
| <p>93) Which of the following is an Iktara-like instrument made out of dried gourd with a thin rubber drum attached at the bottom, associated with Bengali folk music?</p> <p>A) Gogona</p> <p>B) Algoze</p> <p>C) Khomok</p> <p>D) Udukai</p> | <p>93) बंगाली लोक संगीत से जुड़ा हुआ इनमें से कौन सा एक इकतारा जैसे साधन है जो सूखे तुम्बा से बनी है जिसके नीचे एक पतली रबर ड्रम जुड़ी है?</p> <p>A) गोगोना</p> <p>B) अलगोज़े</p> <p>C) खोमोक</p> <p>D) उडुकै</p> |
|--|---|
-
- | | |
|--|---|
| <p>94) Which of the following statements is TRUE related to GDP of India?</p> <p>A) India ranks 21st in the 190 countries in GDP</p> <p>B) India's GDP has grown by 11 to 12 percent in last decade</p> <p>C) Only China, France and USA are ahead to India in term's of GDP</p> <p>D) GDP of India is more than 2 trillion US dollars</p> | <p>94) भारत के GDP से संबंधित निम्न में से कौन सा कथन सही है?</p> <p>A) भारत GDP में 190 देशों में 21 वें स्थान पर है</p> <p>B) पिछले दशक में भारत की GDP में 11 से 12 प्रतिशत की वृद्धि हुई है</p> <p>C) केवल चीन, फ्रांस और USA ही GDP के मामले में भारत से आगे हैं</p> <p>D) भारत का GDP 2 ट्रिलियन US डॉलर से अधिक है</p> |
|--|---|
-
- | | |
|---|--|
| <p>95) Which of the following Economists in India, has been appointed as the President of the International Economic Association (IEA) in June 2017?</p> <p>A) Kaushik Basu</p> <p>B) Jagdish Bhagwati</p> <p>C) Abhijit Banerjee</p> <p>D) C. Rangarajan</p> | <p>95) जून 2017 में भारत के निम्नलिखित किस अर्थशास्त्री को अंतर्राष्ट्रीय आर्थिक संघ (IEA) के अध्यक्ष के रूप में नियुक्त किया गया है?</p> <p>A) कौशिक बासु</p> <p>B) जगदीश भगवती</p> <p>C) अभिजीत बनर्जी</p> <p>D) C रंगराजन</p> |
|---|--|
-

-
- 96) Who among the following delivered the letter of investiture to Iltutmish that he was now free from his slavery?
- 96) निम्नलिखित में से किसने इल्तुतमिश को अधिष्ठापन का पत्र पहुँचाया था, कि वह अब अपनी गुलामी से मुक्त है?
- A) Muhammad Ghori
B) Muhammad bin Tughluq
C) Qutubuddin Aibak
D) Caliph of Baghdad
- A) मोहम्मद घोरी
B) मुहम्मद बिन तुगलक
C) कुतुबुद्दीन ऐबक
D) बगदाद के खलीफा
-
- 97) Which of the following telescopes will succeed Hubble Space Telescope and will be launched by NASA in 2018?
- 97) निम्नलिखित में से कौन सा टेलिस्कोप NASA द्वारा 2018 में हबल स्पेस टेलिस्कोप के स्थान पर प्रक्षेपित किया जायेगा?
- A) Werner Dahm Advanced Space Telescope
B) Wernher von Braun Space Telescope
C) Konrad Dannenberg Light Space Telescope
D) James Webb Space Telescope
- A) वर्नर दाहम एडवांस्ड स्पेस टेलिस्कोप
B) वर्नर वॉन ब्रौन स्पेस टेलिस्कोप
C) कोनराड डैनैबर्ग लाइट स्पेस टेलिस्कोप
D) जेम्स वेब स्पेस टेलिस्कोप
-
- 98) Which of the following drugs is administered during the Narco Analysis test in India?
- 98) भारत में नारको विश्लेषण परीक्षा के दौरान निम्न में से कौन सा औषधियां प्रशासन की जाती हैं?
- A) Tramadol hydrochloride, Acetaminophen
B) Docusate Sodium, Naproxen
C) Cyclobenzaprine hydrochloride
D) Sodium pentothal, Scopolamine, Sodium amytal
- A) ट्रमाडोल हाइड्रोक्लोराइड, एसिटामिनोफेन
B) डॉक्युसेट सोडियम, नेप्रोक्सन
C) साइक्लोबेन्ज़ाप्रिन हाइड्रोक्लोराइड
D) सोडियम पेन्टोथल, स्कोपोलेमाइन, सोडियम एमीटल
-
- 99) The Food and Agricultural Organization has called for an International collaboration on Wheat Rust, a fungal disease which was first discovered in which of the following countries?
- 99) खाद्य और कृषि संगठन ने 'व्हीट रस्ट' पर अंतर्राष्ट्रीय सहयोग का नियोजन किया है। यह एक कवक रोग है जो निम्नलिखित देशों में पहली बार खोजा गया था?
- A) South Africa
B) India
C) Philippines
D) Brazil
- A) दक्षिण अफ्रीका
B) इंडिया
C) फिलीपींस
D) ब्राज़िल
-

100) Which of the following is Sushir Vadya?

- A) Ottu
- B) Ektar
- C) Jal Tarang
- D) Tabla

100) इनमें से कौन सुशीर वाद्य है?

- A) ओट्टू
- B) एकतार
- C) जल तरंग
- D) तबला

Section 3 - Part C-English language

101) Identify the Compound sentence.

- A) Editorial decisions are generally made by senior editors.
 - B) The sound of footsteps echoed round the hall.
 - C) If you arrived earlier, you'd have more time.
 - D) I'll write it down now so I don't forget.
-

102) Fill in the blank with the correct option:

Ostriches are _____ flightless birds.

- A) an
 - B) the
 - C) No Article
 - D) a
-

103) Fill in the blanks with the correct option:

This room _____ overhead lighting.

- A) need
 - B) are needing
 - C) needs
 - D) have needed
-

104) Identify the synonym of the italicised word:

Many of the main highways will be closed until the *snowstorm* comes to its end.

- A) Hurricane
- B) Blizzard
- C) Thunder
- D) Whirlpool

105) Choose the correct spelling from the four options:

- A) occurred
 - B) occuorred
 - C) occured
 - D) ocurred
-

106) Choose the correct spelling from the four options:

- A) tomoro
 - B) tomorrow
 - C) tommorrow
 - D) tomorrow
-

107) Fill in the blanks with the correct option:

If I were to _____ in a gold mine, I would be very rich.

- A) working
 - B) work
 - C) have worked
 - D) be working
-

108) Fill in the blanks with the correct option:

He gave me a chair to sit _____.

- A) in
- B) on
- C) at
- D) to

109) Fill in the blanks with the correct option:

_____ old bridge spans _____ river just outside the town.

- A) No Article, a
 - B) An, the
 - C) No Article, the
 - D) The, an
-

110) Choose the antonym of the underlined word.

Redundancy is one of the pivotal HR issues these days.

- A) Reiteration
 - B) Terseness
 - C) Superfluity
 - D) Repetition
-

111) Identify the synonym of the italicised word:

The petals of the ivory flower are unhealthy if *eaten*.

- A) Fumed
 - B) Consumed
 - C) Smelled
 - D) Aroused
-

112) Identify the meaning of the underlined Idiom/Phrase:

Don't keep back anything from me.

- A) move
- B) share
- C) hide
- D) expect

113) Choose the antonym of the underlined word.

The Singhs run their family in a miserly manner.

- A) Hospitable
 - B) Tightfisted
 - C) Generous
 - D) Churlish
-

114) Fill in the blanks with the correct option:

He _____ to play the flute these days

- A) learn
 - B) learns
 - C) is learning
 - D) was learning
-

115) Identify the correct statement:

(A) Despite the threat of war, people went about their business as usual.

(B) That picture would go about well on the wall in the living room.

(C) The police went about him but he got away.

(D) I might go about to the party later.

- A) A
- B) C
- C) B
- D) D

116) Identify the correct statement:

- (A) The windows rattled through in their frames.
- (B) He rattled through the list of countries he had visited.
- (C) The wind rattled through the metal can across the roadway.
- (D) She rattled through the doorknob violently.

- A) A
 - B) B
 - C) C
 - D) D
-

117) Identify the Complex sentence.

- A) His interest in the project declined after his wife died.
 - B) There is a dearth of new homes in the region.
 - C) She has always shown great dedication to the cause.
 - D) He can't decide whether to buy it.
-

118) Choose the antonym of the underlined word.

Socio-economic environment is one of the main elements in any business environment.

- A) Minor
 - B) Cardinal
 - C) Essential
 - D) Vital
-

119) Identify the meaning of the underlined Idiom/Phrase :

One of my friends was a good Samaritan and helped me to set up a small industrial unit.

- A) a hardworking man
- B) a charitable man
- C) an enterprising man
- D) a stingy man

120) Choose the antonym of the underlined word.

After the scorching heat, the region has become sloppy.

- A) Adroit
 - B) Wet
 - C) Dry
 - D) Muddy
-

121) Identify the error in the following sentence. The error if any will be in one part of the sentence, the number of that part is your answer. If there is no error, mark your answer as D:

(A) I enjoyed /(B) the play, /(C) particular the second half. / (D) No error

- A) A
 - B) D
 - C) C
 - D) B
-

122) Identify the error in the following sentence. The error if any will be in one part of the sentence, the number of that part is your answer. If there is no error, mark your answer as D:

(A)She felt /(B) no compunction /(C) about leaving her job./ (D) No error

- A) A
- B) B
- C) D
- D) C

123) Fill in the blanks with the correct option:

It was _____ awkward ascent, but we reached _____ top eventually.

- A) a, an
 - B) No Article, the
 - C) an, the
 - D) the, the
-

124) Choose the option that best completes the sentence :

When hundreds of kites _____ in the sky, the people shouted with joy.

- A) sored
 - B) soured
 - C) saored
 - D) soared
-

125) Fill in the blanks with the correct option:

I have a lot of work so, don't disturb _____

- A) Me
 - B) He
 - C) She
 - D) They
-

126) Fill in the blanks with the correct option:

Eventually, someone in _____ audience spoke.

- A) a
- B) the
- C) an
- D) No Article

127) Fill in the blanks with the correct option:

He got his bag caught in _____ train doors as they were closing.

- A) an
 - B) a
 - C) No Article
 - D) the
-

128) Choose the option that best completes the sentence :

Promise that _____

- A) you will come on time
 - B) you will came on time
 - C) you would came in time
 - D) you will coming in time
-

129) Fill in the blanks with the correct option:

My friend blamed _____ for his miserable situation.

- A) Them
 - B) His
 - C) Their
 - D) Our
-

130) Identify the Compound sentence.

- A) Digging the garden is a good exercise.
- B) The teacher drew a neat diagram on the blackboard.
- C) She is a great devotee of the Prime Minister.
- D) He took the journalists' questions one by one and answered them with all the dexterity of a politician.

131) Fill in the blanks with the correct option:

They _____ surfing every weekend.

- A) going
 - B) go
 - C) was going
 - D) goes
-

132) Identify the Compound sentence.

- A) Libraries are finding it difficult to remain within their budget, so they are depending on government funds.
 - B) He was a man of remarkable buoyancy.
 - C) The river was threatening to burst its banks.
 - D) The firm has drawn up a budget for the coming financial year.
-

133) Fill in the blanks with the correct option:

She _____ a silver medal in the pole vault for Australia.

- A) win
 - B) have won
 - C) winning
 - D) won
-

134) Fill in the blanks with the correct option:

When I _____ a walk, she nodded enthusiastically.

- A) suggested
- B) suggests
- C) has suggested
- D) am suggesting

135) Fill in the blanks with the correct option:

_____ has confidence in planning and designing projects.

- A) They
 - B) People
 - C) She
 - D) I
-

136) Fill in the blanks with the correct option:

Gandhi was born _____ Porbander _____ 1869.

- A) at, on
 - B) in, in
 - C) at, in
 - D) in, on
-

137) Fill in the blanks with the correct option:

The foreign delegates _____ the venue in another two hours.

- A) reached
 - B) reach
 - C) reaching
 - D) will reach
-

138) Identify the synonym of the italicised word:

Don't *deprive* the poor children of their fundamental rights.

- A) Rob
- B) Annoy
- C) Rebuff
- D) Wrong

139) Choose the correct spelling from the four options:

- A) supercede
 - B) supersede
 - C) suppersede
 - D) superrside
-

140) Identify the synonym of the italicised word:

This person has a *ferocious* look.

- A) Pigeon-hearted
 - B) Kind-hearted
 - C) Savage
 - D) Grim
-

141) Fill in the blanks with the correct option:

I _____ in Paris for four years and I _____ living here.

- A) had lived, enjoy
 - B) lived, enjoyed
 - C) lived, enjoy
 - D) have lived, enjoy
-

142) Choose the correct spelling from the four options:

- A) jugement
 - B) judgment
 - C) judgement
 - D) jugdment
-

143) Fill in the blanks with the correct option:

The children helped the old lady to go _____ the road safely.

- A) below
 - B) across
 - C) in
 - D) at
-

144) Identify the meaning of the underlined Idiom/Phrase:

I sent him about his business as I could stand his insolence no longer.

- A) insulted him
 - B) transferred him
 - C) promoted him
 - D) dismissed him
-

145) Identify the meaning of the underlined Idiom/Phrase :

At the battle of Marengo, Napoleon was within an ace of defeat.

- A) surely defeated
 - B) nearly defeated
 - C) not likely to be defeated
 - D) abjectly defeated
-

146) Fill in the blanks with the correct option:

Most of _____ and _____ friends supported us in _____ endeavour.

- A) Them, their, our
- B) There, their, our
- C) Us, its, there
- D) Our, their, them

147) Choose the option that best completes the sentence :

The works of the Impressionist painters are _____ reproduced.

- A) afterwards
 - B) frequently
 - C) seldom
 - D) before
-

148) Fill in the blanks with the correct option:

Sheema _____ a baby! It's going to be a boy.

- A) had
 - B) has
 - C) is having
 - D) will have
-

149) Choose the option that best completes the sentence :

You are making a lot of progress _____ you haven't practised very much.

- A) in spite of
 - B) even though
 - C) except for
 - D) on condition that
-

150) Fill in the blanks with the correct option:

People gathered _____ the park to enjoy the air show.

- A) at
- B) to
- C) towards
- D) for

Section 4 - Part D-Hindi Language

151) निम्नलिखित शब्दों के क्रमशः सही पर्यायवाची होंगे-
मोक्ष, मीन, चंदन

- A) परमपद, मकर, मलय
- B) निर्वाण, मलय, पीतसार
- C) परमपद, मलय, मकर
- D) निर्वाण, पीतसार, मकर

152) वाक्य में रेखांकित शब्द के उचित विलोम से रिक्त स्थान की पूर्ति कीजिए-

हमें अपनी सोच उत्कृष्ट रखनी चाहिए _____ नहीं।

- A) निष्कपट
- B) आकृष्ट
- C) निम्न
- D) निकृष्ट

153) पय, क्षीर, दुग्ध निम्नलिखित में से किसके पर्यायवाची हैं?

- A) माखन
- B) दूध
- C) दही
- D) पानी

154) इनमें से कौन सा शब्द क्रिया नहीं है बल्कि धातु है?

- A) धोना
- B) मारना
- C) गिर
- D) रोना

155) इनमें से शुद्ध वर्तनी शब्द पहचानिए।

- A) दंपति
- B) दंपती
- C) दमंपति
- D) दमपति

156) सही वाक्य चुनें।

- A) सिंह बड़ा वीभत्स होता है।
- B) सिंह बड़ा भयानक होता है।
- C) बड़ा भयानक होता है सिंह।
- D) भयानक होता है बड़ा सिंह।

157) 'पीने की इच्छा' का सार्थक शब्द कौन सा है?

- A) स्वेदज
- B) पानी
- C) पिपासा
- D) संक्रमण

158) दिए गए वाक्य में कारक परसर्ग को छोटें- वह इलाज के लिए लंदन जा रहा है।

- A) के लिए
- B) के
- C) लिए
- D) वह

159) क्षणिक, अंतरंग, आवरण शब्दों के क्रमशः सही विलोम होंगे-

- A) शाश्वत, बहिरंग, अनवरण
- B) शाश्वत, बहिरंग, अनावरण
- C) अक्षणिक, अंतरंग, अवतरण
- D) शाश्वत, बहिरंग, अनावरण

160) रिक्त स्थान भरें-

बाहर _____ पुजारी खड़ा है।

- A) कोई
- B) सरकारी
- C) खतरनाक
- D) चोर

161) इनमें से उपसर्ग युक्त शब्द कौन सा है?

- A) चिंता
 - B) पठन
 - C) सूचना
 - D) उपदिशा
-

162) 'जो कुछ भी नहीं जानता हो' उसे क्या कहा जाता है?

- A) देहाती
 - B) सर्वज्ञ
 - C) अज्ञ
 - D) पंडित
-

163) इनमें से गलत सन्धि विच्छेद कौन सा है?

- A) पौ+अक
 - B) महा+ओज
 - C) नौ+इक
 - D) परो+उपकार
-

164) 'माँ की बहन' वाक्यांश के लिए एक सार्थक शब्द कौन सा है?

- A) नानी
 - B) दादी
 - C) चाची
 - D) मौसी
-

165) इनमें से शुद्ध शब्द अलग करें।

- A) गुंगा
 - B) गूंगा
 - C) गूंगा
 - D) गुँगा
-

166) Acquire का हिन्दी पारिभाषिक रूप चुनिए।

- A) अर्जन करना
 - B) वातानुकूलन
 - C) भत्ता
 - D) आंदोलन
-

167) निर्जर, विबुध, अमृत्य निम्नलिखित में से किसके पर्यायवाची हैं?

- A) देवता
 - B) झरना
 - C) नदी
 - D) शिव
-

168) रिक्त स्थान भरें-

यह कविता _____ लिखी है।

- A) किसने
 - B) उस
 - C) इन्होंने
 - D) मैंने
-

169) 'जो पहले कभी न हुआ हो' इसके लिए एक सार्थक शब्द चुनिए।

- A) लघुपाक
 - B) विचारगम्य
 - C) आदर्शपूर्ण
 - D) अभूतपूर्व
-

170) मुहावरे की सहायता से रिक्त स्थान भरें-

मुसीबत के समय धोखेबाज़ मित्र अंगूठा _____ हैं।

- A) काट लेते
 - B) हिला देते
 - C) छिपा देते
 - D) दिखा देते
-

171) शुद्ध शब्द कौन सा है?

- A) जलवाहिनी नदी
- B) जलवही नदी
- C) जलवाह नदी
- D) जलवाही नदी

172) शुद्ध शब्द कौन सा है?

- A) उमीद
- B) कंगा
- C) कत्म
- D) सहारा

173) अशुद्ध शब्द अलग करें।

- A) एकाक्ष
- B) दत्तक
- C) गोचर
- D) भिम

174) 'दुष्ट अपनी दुष्टता नहीं छोड़ता' अर्थ हेतु उचित लोकोक्ति होगी-

- A) कबहुँ निरामिष होय न कागा
- B) आपे से बाहर होना
- C) फूटी आँख न सुहाना
- D) सावन हरे न भादो सूखे

175) सही वाक्य चुनें।

- A) श्रीकृष्ण के अनेक नाम हैं।
- B) अनेकों श्रीकृष्ण के नाम हैं।
- C) नाम हैं अनेकों श्रीकृष्ण के।
- D) श्रीकृष्ण के अनेकों नाम हैं।

176) शब्दों को उनके विलोम से मिलाइए-

A	B
1. दोषी	a. निर्दोष
2. स्वर्ग	b. निर्दय
3. सदय	c. पुण्य
4. पाप	d. नरक

- A) 1-d,2-b,3-c,4-a
- B) 1-a,2-c,3b,4-d
- C) 1-a,2-b,3-c,4-d
- D) 1-a,2-d,3-b,4-c

177) शब्दों को उनके विलोम से मिलाइए-

A	B
1. क्रय	a. दुर्गम
2. कोमल	b. विक्रय
3. सरल	c. जटिल
4. सुगम	d. कठोर

- A) 1-a,2-b,3-c,4-d
- B) 1-b,2-d,3-c,4-a
- C) 1-c,2-d,3-b,4-a
- D) 1-b,2-a,3-d,,4-c

178) कोष्ठक में दिए गए अर्थ के आधार पर सही मुहावरे का चयन कर रिक्त स्थान की पूर्ति कीजिए-

सूरज ने कहा कि कुछ काम भी करो, _____ से कुछ नहीं होगा। (कपोल कल्पनाओं में डूबे रहना)

- A) गंगा नहाने
- B) चादर तानकर सोने
- C) ख्याली पुलाव पकाने
- D) खून पसीना एक करने

179) रिक्त स्थान भरें-

जीजा जी हरिद्वार जाने वाले थे परन्तु _____।

- A) घबरा गए
- B) चले गए
- C) हार गए
- D) गए नहीं

180) निम्नलिखित में से कौन सा 'द्रौपदी' शब्द का पर्यायवाची नहीं है?

- A) कृष्णा
- B) नित्ययौवना
- C) भार्या
- D) पांचाली

181) अशुद्ध वर्तनी शब्द अलग कीजिए।

- A) पृथक
- B) उक्तृण
- C) विस्तृत
- D) प्रथक

182) दिए गए वाक्य के रिक्त स्थान में उचित परसर्ग लगाएँ-
कक्षा _____ भूचाल आ गया।

- A) पर
- B) को
- C) में
- D) का

183) 'यति' शब्द निम्नलिखित में से किसका पर्यायवाची है?

- A) हाथ
- B) साधु
- C) सुंदर
- D) सिंह

184) निम्नलिखित में से कौन सा 'मदिरा' शब्द का पर्यायवाची नहीं है?

- A) कादम्बरी
- B) मधुकर
- C) शराब
- D) हाला

185) सही वाक्य चुनें।

- A) सभी ने अपना काम कर लिया।
- B) काम कर लिया सभी ने अपना।
- C) अपना काम सभी ने कर लिया।
- D) सभी ने सबका काम कर लिया।

186) कौन सी क्रिया मुख्य क्रिया के साथ जुड़कर अर्थ में विशेषता लाती है?

- A) रंजक
- B) संयुक्त
- C) अकर्मक
- D) सकर्मक

187) रा, री, रे सम्बन्ध कारक किन शब्दों के साथ लगते हैं?

- A) संज्ञा
- B) सर्वनाम
- C) क्रिया
- D) विशेषण

188) इनमें क्रिया शब्द कौन सा नहीं है?

- A) कविता
- B) बनना
- C) ठहरना
- D) मारना

189) शुद्ध वर्तनी रूप कौन सा है?

- A) पवित्तर
- B) सूत्र
- C) नमर्ता
- D) परेम

190) 'Central or State leader should be a servant of the people'. इसका हिन्दी रूपांतरण इनमें से कौन सा है?

- A) केंद्र अथवा राज्य के नेताओं को जनता का सेवक होना चाहिए
- B) राज्य के मंत्री को जन सेवक तथा नायक होना है
- C) केंद्र के मंत्री गण जनता का नायक बनना चाहिए
- D) जनता को राज्य तथा केंद्र के मंत्री बनाना चाहिए

191) शब्द-युग्म (उत्पत्ति की दृष्टि से) इनमें से देशज शब्द कौन सा नहीं है?

- A) कटोरी
- B) डायरी
- C) पगड़ी
- D) लोटा

192) शुद्ध वर्तनी शब्द चुनिए।

- A) पषू
- B) पसु
- C) पशु
- D) पशू

193) नौकरानी झाड़ू लगा रही है।- यह कौन सी क्रिया है?

- A) नामधातु
- B) द्विकर्मक
- C) एककर्मक
- D) अकर्मक

194) 'चैन की बंसी बजाना' मुहावरे का सही अर्थ होगा।

- A) धीरे-धीरे काम करना
- B) सुख से रहना
- C) बात पर अड़े रहना
- D) प्रतीक्षा करना

195) उचित शब्द से मुहावरे को पूरा कीजिए- खुशामद करने वाले व्यक्ति अपना _____ सीधा करने के लिए मीठी-मीठी बातें करते हैं।

- A) उल्लू
- B) धंधा
- C) काम
- D) डंडा

196) सही वाक्य चुनें।

- A) मुझे बहुत आनन्द आता है।
- B) मुझे बहुत आनन्द आती हैं।
- C) आनन्द बहुत आता है मुझे।
- D) मुझे आनन्द बहुत आता है।

197) कोष्ठक में दिए गए अर्थ के आधार पर सही मुहावरे का चयन कर रिक्त स्थान की पूर्ति कीजिए-

जब से कमल ने बुरा व्यवहार किया है, करण उससे _____ लगा है। (बचना)

- A) कान कतरने
- B) जेब काटने
- C) कन्नी काटने
- D) काम तमाम करने

198) कार्यालीन पत्र में इनमें से कौन सा अंश शामिल नहीं है?

- A) भवदीय
 - B) दिनांक
 - C) विषय
 - D) आपका प्यारा
-

199) पिता ने मेहनत से धन कमाया किंतु बेटे को देखो, वह धन बरबाद कर रहा है। सच ही है कमाए कोई और उपयोग कोई और करे। वाक्य के रेखांकित अंश के लिए उचित लोकोक्ति होगी-

- A) हाथ कंगन को आरसी क्या
 - B) न रहेगा बाँस न बजेगा बाँसुरी
 - C) अंधी पीसे कुत्ता खाए
 - D) अंधों में काना राजा
-

200) उसने खेलकर दूध पिया- इस वाक्य में खेलकर कौन सी क्रिया है?

- A) संयुक्त
- B) प्रेरणार्थक
- C) पूर्वकालिक
- D) नामधातु

Answer Keys

1	C	51	A	101	D	151	A
2	B	52	A	102	C	152	D
3	B	53	A	103	C	153	B
4	D	54	A	104	B	154	C
5	D	55	B	105	A	155	A
6	B	56	B	106	D	156	B
7	C	57	C	107	B	157	C
8	B	58	D	108	B	158	A
9	D	59	B	109	B	159	B
10	D	60	B	110	B	160	A
11	A	61	D	111	B	161	D
12	A	62	D	112	C	162	C
13	C	63	C	113	C	163	D
14	A	64	C	114	C	164	D
15	B	65	B	115	A	165	B
16	D	66	B	116	B	166	A
17	C	67	C	117	A	167	A
18	A	68	D	118	A	168	D
19	B	69	A	119	B	169	D
20	B	70	D	120	A	170	D
21	A	71	C	121	C	171	A
22	A	72	B	122	C	172	D
23	C	73	C	123	C	173	D
24	D	74	C	124	D	174	A
25	C	75	C	125	A	175	A
26	B	76	D	126	B	176	D
27	B	77	B	127	D	177	B
28	C	78	B	128	A	178	C
29	A	79	B	129	A	179	D
30	C	80	A	130	D	180	C
31	B	81	B	131	B	181	D
32	D	82	D	132	A	182	C
33	D	83	C	133	D	183	B
34	B	84	D	134	A	184	B
35	A	85	B	135	C	185	A
36	D	86	B	136	C	186	A
37	B	87	A	137	D	187	B
38	D	88	D	138	A	188	A
39	D	89	B	139	B	189	B
40	D	90	A	140	C	190	A
41	D	91	C	141	D	191	B
42	A	92	C	142	C	192	C
43	C	93	C	143	B	193	C
44	A	94	D	144	D	194	B
45	B	95	A	145	B	195	A
46	A	96	D	146	A	196	A
47	C	97	D	147	B	197	C
48	C	98	D	148	D	198	D
49	A	99	D	149	B	199	C
50	C	100	A	150	A	200	C