

Section 1 - Part A-General Intelligence

1) What can be the coded form of the string BASIT from figure 1 and figure 2?

Figure 1:

MATRIX 1

	0	1	2	3	4
0	F	A	N	O	I
1	I	O	F	A	N
2	A	N	O	I	F
3	O	F	I	N	A
4	N	I	A	F	O

Figure 2:

MATRIX 2

	5	6	7	8	9
5	S	E	H	B	T
6	H	S	E	T	B
7	B	T	S	E	H
8	E	H	T	B	S
9	T	S	E	H	B

- A) 88, 45, 66, 56, 68
 B) 58, 23, 44, 12, 87
 C) 99, 23, 45, 78, 76
 D) 75, 34, 89, 23, 59

1) चित्र 1 और चित्र 2 से श्रृंखला BASIT का कूट बद्ध किया हुआ रूप क्या हो सकता है?

चित्र 1:

MATRIX 1

	0	1	2	3	4
0	F	A	N	O	I
1	I	O	F	A	N
2	A	N	O	I	F
3	O	F	I	N	A
4	N	I	A	F	O

चित्र 2:

MATRIX 2

	5	6	7	8	9
5	S	E	H	B	T
6	H	S	E	T	B
7	B	T	S	E	H
8	E	H	T	B	S
9	T	S	E	H	B

- A) 88, 45, 66, 56, 68
 B) 58, 23, 44, 12, 87
 C) 99, 23, 45, 78, 76
 D) 75, 34, 89, 23, 59

2) A set of statements is given.

- A) P is a two-digit number,
 B) P is greater than 80.

Which of the given set of statements should be used to decide the solution to the problem: Is $P > 90$?

- A) Not possible to decide even with both A and B
 B) Only B
 C) Both A and B together
 D) Only A

2) कथनों का एक समूह दिया गया है।

- A) P दो अंकीय संख्या है,
 B) P 80 से अधिक है.

क्या $P > 90$ हैं? इस समस्या का समाधान करने के लिए दिए गए कथनों के समूह में से किसका उपयोग किया जाना चाहिए?

- A) A और B दोनों के साथ भी तय करना संभव नहीं है
 B) केवल B
 C) A और B दोनों एक साथ
 D) केवल A

3) Out of 52 playing cards king, queen and jack of clubs are taken out. What is the probability of getting a heart from the playing cards?

- A) 25/62
- B) 13/49
- C) 23/52
- D) 81/42

3) 52 ताश के पत्तों में से चिड़ी के राजा, रानी और गुलाम को बाहर निकाल दिया जाता है। ताश के पत्तों में से दिल (Heart) आने की संभावना क्या है?

- A) 25/62
- B) 13/49
- C) 23/52
- D) 81/42

4) Select one of the following four options that will make the second pair analogous to the first pair given as:

Cordial : Hostile :: Affirm : _____ .

- A) Assert
- B) Object
- C) Confirm
- D) Deny

4) निम्न चार विकल्पों में से एक का चयन करें जो कि द्वितीय जोड़ी को पहली जोड़ी के समान दिया जाएगा:

स्नेहपूर्ण : शत्रुतापूर्ण :: पुष्टि करना : _____।

- A) दावा करना
- B) विरोध करना
- C) निश्चित करना
- D) इनकार करना

5) How many triangles are there in the given figure?



- A) 7
- B) 11
- C) 5
- D) 9

5) दिए गए चित्र में कितने त्रिकोण हैं?



- A) 7
- B) 11
- C) 5
- D) 9

6) Out of the total income of Rs. 12000, Ravi saves one fifth. Out of the remaining, he spends half on food and one third on transport. Remaining money he spends on entertainment. How much money does Ravi spend on entertainment (in rupees)?

- A) 1640
- B) 1440
- C) 1600
- D) 1500

6) रवि की कुल आय 12000 रुपये है। वह एक पांचवें बचाता है। शेष में से, वह भोजन पर आधा और एक तिहाई परिवहन पर खर्च करता है। शेष पैसे वह मनोरंजन पर खर्च करता है। रवि कितना पैसा मनोरंजन पर खर्च करता है (रुपए में)?

- A) 1640
- B) 1440
- C) 1600
- D) 1500

7) There are 160 children in a class comprising of two sections – A (with 100 students) and B (with 60 students). The average score of the students of section A is 75 while the average marks for the entire class is 76. What is the average marks for the students of Section B?

- A) 77.67
- B) 78.33
- C) 78.67
- D) 77.33

7) एक कक्षा के दो वर्ग - A (100 छात्रों के साथ) और B (60 छात्रों के साथ) में 160 बच्चे हैं। वर्ग A के छात्रों का औसत स्कोर 75 है, जबकि पूरे वर्ग के औसत अंक 76 हैं। वर्ग B के छात्रों का औसत अंक क्या है?

- A) 77.67
- B) 78.33
- C) 78.67
- D) 77.33

8) Which of these terms is NOT similar to others in respect to unique number of consonants in the given word?

- A) FINALIZE
- B) WRITTEN
- C) STYLE
- D) OTHER

8) दिए गए पदों में से कौन सा पद व्यंजन (कान्सनन्ट) की अनूठी संख्या होने के वजह से दूसरे पदों से अलग है?

- A) FINALIZE
- B) WRITTEN
- C) STYLE
- D) OTHER

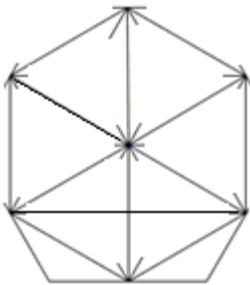
9) A gold medal carries 5 points, while silver and bronze medals carry 3 and 2 points, respectively. Both P and Q have won 3 golds, while R and S have won 1 and 2 golds, respectively. Each of the four has won 2 silver medals. P, Q, R and S won 5, 3, 0 and 7 bronze medals, respectively. Who has won maximum medals?

- A) R
- B) P
- C) S
- D) Q

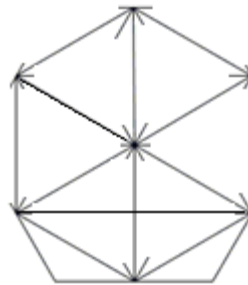
9) एक स्वर्ण पदक 5 अंकों का है, जबकि रजत और कांस्य पदक क्रमशः 3 और 2 अंक के हैं। P और Q दोनों ने 3 स्वर्ण पदक जीते हैं, जबकि R और S ने क्रमशः 1 और 2 स्वर्ण जीते हैं। चारों ने प्रत्येक 2 रजत पदक जीते हैं। P, Q, R और S ने क्रमशः 5, 3, 0 और 7 कांस्य पदक जीते हैं। किसने अधिकतम पदक जीता है?

- A) R
- B) P
- C) S
- D) Q

10) How many triangles are there in the given figure? 10) दिए गए चित्र में कितने त्रिकोण हैं?



- A) 12
- B) 16
- C) 14
- D) 10



- A) 12
- B) 16
- C) 14
- D) 10

11) A cube of side length 6 cms is painted green on all its faces. It is cut into small identical cubes of side length 2 cms. How many of the small cubes will have none of its faces painted?

- A) 1
- B) 27
- C) 16
- D) 0

11) एक घन जिसकी किनारे की लंबाई 6 cm है अपने सभी मुख पर हरे रंग की पेंट की गई है। इसे छोटे समान घन में काटा गया है जिसकी किनारे की लंबाई 2 cm है। कितने छोटे घन है जिसके कोई भी किनारे पेंट नहीं की गई है?

- A) 1
- B) 27
- C) 16
- D) 0

12) If Hyderabad is written as Ixedszcze then Chennai can be written as

- A) Dgfmzj
- B) Cdgkty
- C) Abnorqs
- D) Dkmnfg

12) यदि Hyderabad को Ixedszcze के रूप में लिखा गया है तो Chennai को किस रूप में लिखा जा सकता है?

- A) Dgfmzj
- B) Cdgkty
- C) Abnorqs
- D) Dkmnfg

13) The next term in the series 6, 23, 58, 117, ____ is

- A) 197
- B) 206
- C) 119
- D) 311

13) श्रृंखला 6, 23, 58, 117, ____ में अगली संख्या है

- A) 197
- B) 206
- C) 119
- D) 311

14) What is the coded number for WNCSZV from the following figure?

Figure:

LETTER: C Z N V R S W F D
CODE DIGIT: 8 6 4 7 2 9 3 5 1

- A) 318267
- B) 348957
- C) 348267
- D) 348967

14) निम्न चित्र से WNCSZV की कूट की गई संख्या क्या होगी? चित्र:

LETTER: C Z N V R S W F D
CODE DIGIT: 8 6 4 7 2 9 3 5 1

- A) 318267
- B) 348957
- C) 348267
- D) 348967

15) What is the code for the string FRCSNW from the following figure?

Figure:

LETTER: C Z N V R S W F D
CODE DIGIT: 8 6 4 7 2 9 3 5 1

- A) 5269435
- B) 528243
- C) 528963
- D) 528943

15) निम्नलिखित चित्र से श्रृंखला FRCSNW के लिए कूट क्या है? चित्र:

LETTER: C Z N V R S W F D
CODE DIGIT: 8 6 4 7 2 9 3 5 1

- A) 5269435
- B) 528243
- C) 528963
- D) 528943

16) If $Z=Y=W>R$ and $R\leq K$, then which of the following relations will be false?

- A) $Y>R$
- B) $Z>R$
- C) $Z=W$
- D) $K<R$

16) यदि $Z=Y=W>R$ और $R\leq K$, तो निम्नलिखित में से कौन सा संबंध गलत है?

- A) $Y>R$
- B) $Z>R$
- C) $Z=W$
- D) $K<R$

17) The next term in the series 246, 124, 64, 35, 21.5, ____ is

- A) 21.34
- B) 18.95
- C) 15.75
- D) 16.78

17) श्रृंखला 246, 124, 64, 35, 21.5, ____ में अगली संख्या है

- A) 21.34
- B) 18.95
- C) 15.75
- D) 16.78

18) In a mobile circus party, there were 100 hens, 90 goats and 16 camels supervised by certain number of shepherds. If the total number of feet is 448 more than the number of heads, then how many shepherds were employed?

- A) 28
- B) 32
- C) 34
- D) 30

18) एक मोबाइल सर्कस पार्टी में, 100 मुर्गियां, 90 बकरियां और 16 ऊँट एक निश्चित संख्या के चरवाहों द्वारा देखरेख किए जाते थे। यदि पैरों की कुल संख्या सिर की संख्या से 448 अधिक है, तो कितने चरवाहे कार्यरत थे?

- A) 28
- B) 32
- C) 34
- D) 30

19) You are given a statement.

A) P is a natural number having three digits.

Which of the following questions can be answered by using the given statement?

- A) Is $P>999$?
- B) Is $P<150$?
- C) Is $P<1000$?
- D) Is $P>150$?

19) आपको एक कथन दिया गया है।

A) P एक प्राकृतिक संख्या है जिसमें तीन अंक हैं।

दिए गए कथनों का उपयोग करके निम्न में से किस सवाल का उत्तर दिया जा सकता है?

- A) क्या $P>999$?
- B) क्या $P<150$?
- C) क्या $P<1000$?
- D) क्या $P>150$?

20) The next term in the series 154, 170, 202, 266, 394, ____ is
20) श्रृंखला 154, 170, 202, 266, 394, ____ में अगली संख्या है

- A) 436
- B) 586
- C) 650
- D) 476

- A) 436
- B) 586
- C) 650
- D) 476

21) Four pairs of related terms are given. One of them, does NOT have the relation between terms that others have. Which one is it?
21) संबंधित पदों के चार जोड़े दिए गए हैं। दूसरे पदों के बीच जो सम्बन्ध है वो इनमें से एक में नहीं है। वो पद कौनसा है?

- A) Pen-Table
- B) Car-Sky
- C) Brick-Wall
- D) Tile-Floor

- A) कलम-मेज़
- B) मोटर-गाड़ी-आकाश
- C) ईंट-दीवार
- D) टाइल-फर्श

22) Find the odd one out.

- A) Tenderness
- B) Endearment
- C) Callousness
- D) Love

22) विषम पद को खोजें।

- A) कोमलता
- B) लाड़ प्यार
- C) निष्ठुरता
- D) प्रेम

23) The next term in the series 1960, 784, 313.6, ____ is
23) श्रृंखला 1960, 784, 313.6, ____ में अगली संख्या है

- A) 132.66
- B) 125.44
- C) 178.11
- D) 112.22

- A) 132.66
- B) 125.44
- C) 178.11
- D) 112.22

24) To qualify for job P, maximum age can be 30 years, 10th marks should be more than 50% and work experience should be at least 3 years. To qualify for job Q, one should have a minimum age of 25 years, 10th marks should be more than 60% and work experience should be at least 1 year. Matt has 66% marks in 10th, he is of 23 years and has a work experience of 2 years. For which of these jobs does he qualify?

- A) Only P
- B) Both P and Q
- C) Only Q
- D) Neither P nor Q

24) नौकरी P के लिए अर्हता प्राप्त करने के लिए, अधिकतम उम्र 30 वर्ष हो सकती है, 10 वीं के अंक 50% से अधिक होने चाहिए और कार्यानुभव कम से कम 3 वर्ष का होना चाहिए। नौकरी Q के लिए अर्हता प्राप्त करने के लिए, न्यूनतम 25 वर्ष की आयु होनी चाहिए, 10 वीं के अंक 60% से अधिक होने चाहिए और कम से कम 1 वर्ष का कार्यानुभव होना चाहिए। मैट की 10 वीं में 66% अंक हैं, वह 23 वर्ष का है और उसके पास दो वर्ष का कार्यानुभव है। इनमें से कौन सी नौकरियों के लिए वह योग्य है?

- A) केवल P
- B) P और Q दोनों
- C) केवल Q
- D) न तो P और न ही Q

25) Radha and Joy are the kids of Mr. Ravi and Mrs. Sabita Verma. Ravi's age is three times Radha's age, while Sabita is twice as old as Joy. If Ravi is 9 years older than Sabita and Radha is 7 years younger than Joy, what is the present age of Sabita?

- A) 60 years
- B) 55 years
- C) 50 years
- D) 65 years

25) राधा और जोय श्री रवि और श्रीमती सबिता वर्मा के बच्चे हैं। रवि की आयु राधा की उम्र का तीन गुना है, जबकि सबिता जोय से दोगुनी बड़ी है। अगर रवि सबिता से 9 वर्ष बड़ा है और राधा की उम्र जोय से 7 वर्ष कम है, तो सबिता की वर्तमान उम्र क्या है?

- A) 60 वर्ष
- B) 55 वर्ष
- C) 50 वर्ष
- D) 65 वर्ष

26) To introduce Shalini, Sudhakar said, "She is the maternal grandmother of the son of my sister." How is Shalini related to Rupa, the sole sister of Sudhakar?

- A) Daughter
- B) Mother
- C) Aunty
- D) Sister

26) शालिनी का परिचय देते हुए, सुधाकर ने कहा, "वह मेरी बहन के बेटे की नानी है।" शालिनी, रूपा की क्या लगती है जो सुधाकर की इकलौती बहन है?

- A) बेटी
- B) माता
- C) मौसी
- D) बहन

27) Below four different alphabetical sequences are given. Three of them follow the same pattern as: HBP. Identify the one sequence that does NOT follow this pattern.

- A) GCU
- B) ECQ
- C) ANN
- D) CDL

27) नीचे चार अलग-अलग अक्षरात्मक क्रम दिए गए हैं। उनमें से तीन HBP के जैसे समान पैटर्न का अनुसरण करते हैं। उस अनुक्रम की पहचान करें जो इस पैटर्न का पालन नहीं करता है?

- A) GCU
- B) ECQ
- C) ANN
- D) CDL

28) What is the code for the string HRJKTP from the following figure?

Figure:

Letter	P	M	A	E	J	K	D	R	W	H	I	U	T	F
Coding	4	\$	1	2	3	#	5	@	6	%	&	7	!	0

- A) %@3#!4
- B) %4@3!4
- C) %423#5
- D) %73#\$5

28) निम्नलिखित चित्र से श्रृंखला HRJKTP के लिए कूट क्या है? चित्र:

Letter	P	M	A	E	J	K	D	R	W	H	I	U	T	F
Coding	4	\$	1	2	3	#	5	@	6	%	&	7	!	0

- A) %@3#!4
- B) %4@3!4
- C) %423#5
- D) %73#\$5

29) Letters of English alphabet are arranged in a circle. Starting from A, every 3rd letter is removed out of remaining letters. Which letter will be removed in the last?

- A) X
- B) O
- C) R
- D) E

29) अंग्रेजी वर्णमाला के अक्षर एक वृत्त में व्यवस्थित किए जाते हैं। A से शुरू, शेष अक्षर से हर तीसरे अक्षर को निकाल दिया जाता है। आखिर में कौन सा अक्षर हटा दिया जाएगा?

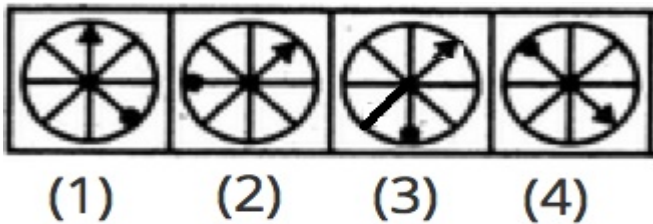
- A) X
- B) O
- C) R
- D) E

30) A six digit number has all different digits. Any digit of it is either odd or a perfect square. The sum of first and last digits is 8. How many different possible values can the number take?

- A) 96
B) 48
C) 120
D) 72

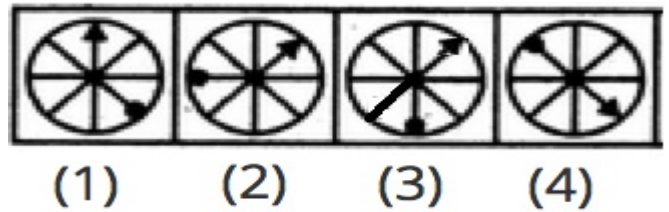
- A) 96
B) 48
C) 120
D) 72

31) Which figure is different from the others?



- A) 1
B) 4
C) 3
D) 2

31) चित्र में कौन सी आकृति दूसरों से अलग है?



- A) 1
B) 4
C) 3
D) 2

32) Which of these options can be judged from one of the remaining three options, where P and Q are natural numbers?

- A) Last digit of P^Q is 5
B) P and Q are relatively prime
C) Last digit of P is 5
D) Last digit of Q is 5

32) इनमें से कौन सा विकल्प शेष तीन विकल्पों में से एक से आंका जा सकता है, जहाँ P और Q प्राकृतिक संख्याएँ हैं?

- A) P^Q का अंतिम अंक 5 है
B) P और Q अपेक्षाकृत अभाज्य संख्या हैं
C) P का अंतिम अंक 5 है
D) Q का अंतिम अंक 5 है

33) The next term in the series 121, 169, 289, 361, 529, 841, ____ is

- A) 899
B) 1331
C) 961
D) 1024

33) श्रृंखला 121, 169, 289, 361, 529, 841, ____ में अगली संख्या है

- A) 899
B) 1331
C) 961
D) 1024

34) Cards numbered from 1 to 20 are mixed up and then a card is drawn at random. What is the probability of getting an even numbered card on picking?

- A) $1/4$
- B) $1/8$
- C) $1/2$
- D) $1/6$

34) 1 से 20 तक के गिने गए कार्ड मिश्रित हैं और फिर एक कार्ड को यादृच्छिक रूप से निकाला जाता है। श्रेणीबद्ध में से सम संख्या कार्ड पाने की संभावना क्या है?

- A) $1/4$
- B) $1/8$
- C) $1/2$
- D) $1/6$

35) In a business meeting, there were 8 persons who were shaking hands with each other. How many hand shakes will take place?

- A) 28
- B) 36
- C) Cannot be determined
- D) 21

35) एक व्यावसायिक बैठक में, 8 लोग हैं, जो एक-दूसरे के साथ हाथ मिलाते हैं। कितने हाथ आपस में मिलते हैं?

- A) 28
- B) 36
- C) निर्धारित नहीं किया जा सकता है
- D) 21

36) The next term in the series 729, $5/3$, 243, 5, 81, 15, 27, 45, 9, ____ is

- A) 105
- B) 75
- C) 90
- D) 135

36) श्रृंखला 729, $5/3$, 243, 5, 81, 15, 27, 45, 9, ____ में अगली संख्या है

- A) 105
- B) 75
- C) 90
- D) 135

37) Which option is similar to "x" after rotation?



- (X)
 - (a)
 - (b)
 - (c)
 - (d)
- A) d
 - B) c
 - C) a
 - D) b

37) कौन सा विकल्प आवर्तन (रोटेशन) के बाद "x" जैसा है?



- (X)
 - (a)
 - (b)
 - (c)
 - (d)
- A) d
 - B) c
 - C) a
 - D) b

38) You are given a statement.

A) P has 10 marbles more than Q.

Which of the following questions can be answered by using the given statement?

A) Who is having lesser marbles?

B) How many marbles P has?

C) How many marbles they have in total?

D) How many marbles Q has?

38) आपको एक कथन दिया गया है।

A) Q की तुलना में P के पास 10 मार्बल अधिक हैं।

दिए गए कथनों का उपयोग करके निम्न में से किस सवाल का उत्तर दिया जा सकता है?

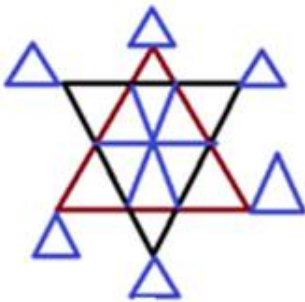
A) किसके पास कम मार्बल हैं?

B) P के पास कितने मार्बल हैं?

C) उनके पास कुल कितने मार्बल हैं?

D) Q के पास कितने मार्बल हैं?

39) How many triangles are there in the following figure?



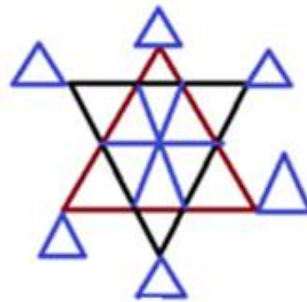
A) 20

B) 22

C) 16

D) 26

39) निम्नलिखित चित्र में कितने त्रिकोण हैं?



A) 20

B) 22

C) 16

D) 26

40) Sujata introduced Subir as the son of the brother of her mother. How is Subir related to Sujata?

A) Maternal Uncle

B) Nephew

C) Cousin

D) Son

40) सुजाता ने सुबिर को अपनी माँ के भाई के बेटे के रूप में परिचय कराया। सुबिर सुजाता का क्या लगता है?

A) मामा

B) भतीजा

C) ममेरा भाई

D) बेटा

41) Find the odd one out.

A) 157

B) 867

C) 51

D) 14739

41) विषम पद को खोजें।

A) 157

B) 867

C) 51

D) 14739

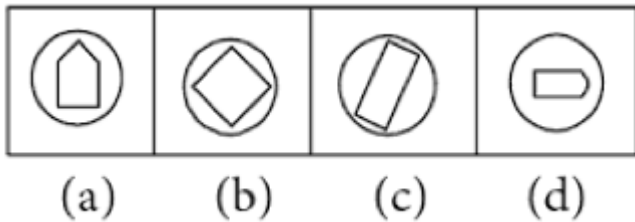
42) Among the given triad of terms, identify the terms in which triad is similar to each other?

- A) A1 - R20 - U21
- B) L12 - O15 - Y25
- C) N14 - L12 - T22
- D) G7 - H11 - J10

42) दिए गए तीन पदों में से, उन अंकों की पहचान करें जिसमें तीनों एक दूसरे के समान हैं?

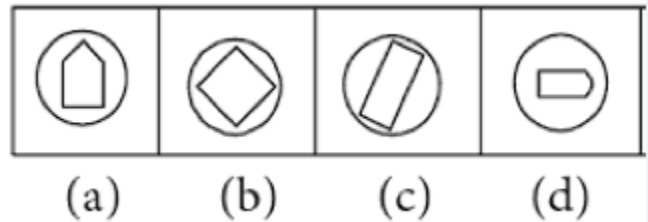
- A) A1 - R20 - U21
- B) L12 - O15 - Y25
- C) N14 - L12 - T22
- D) G7 - H11 - J10

43) Which picture is different from the other pictures in the following figure?



- A) d
- B) b
- C) a
- D) c

43) चित्र में कौन सी आकृति अन्य आकृतियों से भिन्न है?



- A) d
- B) b
- C) a
- D) c

44) Indicating Shilpa, Asima said, "She is the daughter-in-law of the grandmother of my father's only son." How is Shilpa related to Asima?

- A) Sister
- B) Daughter
- C) Mother
- D) Aunty

44) शिल्पा की ओर इशारा करते हुए, असीमा ने कहा, "वह मेरे पिता के एकमात्र बेटे की दादी की बहू है।" शिल्पा असीमा की क्या लगती है?

- A) बहन
- B) बेटी
- C) माता
- D) चाची

45) Given are some sentences that look similar and provide some information.

- A. Some oranges are apples.
- B. All apples are oranges.
- C. No apples are oranges.

Identify and answer which of them provide equivalent information?

- A) A and B
- B) C and A
- C) All provide different information
- D) B and C

45) समान दिखने वाले कुछ वाक्य दिए गए हैं जो कुछ जानकारी प्रदान करते हैं।

- A. कुछ संतरे सेब हैं।
- B. सभी सेब संतरे हैं।
- C. कोई भी सेब संतरे नहीं हैं।

पहचानें और बताएं कि उनमें से कौन सा समकक्ष जानकारी प्रदान करता है।

- A) A और B
- B) C और A
- C) सभी अलग-अलग जानकारी प्रदान करते हैं
- D) B और C

46) Select one of the following four options that will make the second pair analogous to the first pair given as:

Bidar : Karnataka :: Rajkot : _____ .

- A) Rajasthan
- B) Himachal Pradesh
- C) Gujarat
- D) Tamil Nadu

46) निम्नलिखित चार विकल्पों में से एक का चयन करें जो दूसरी जोड़ी को पहली जोड़ी के अनुरूप बना देगा:

बीदर : कर्नाटक :: राजकोट : _____।

- A) राजस्थान
- B) हिमाचल प्रदेश
- C) गुजरात
- D) तमिलनाडु

47) Which of the following statements can be used to take a decision on this problem: Is P a perfect square?

- A) Product of factors of P is 1280
- B) P has 7 factors
- C) Problem cannot be solved
- D) Sum of factors of P is 141

47) निम्न में से कौन सा कथन इस समस्या पर निर्णय लेने के लिए उपयोग किया जा सकता है: क्या P एक पूर्ण वर्ग है?

- A) P के कारकों का गुणन 1280 है
- B) P के 7 कारक हैं
- C) समस्या हल नहीं की जा सकती है
- D) P के कारकों का योग 141 है

48) Given are some sentences that look similar and provide some information.

- A. Every man is beautiful.
- B. No man is NOT beautiful.
- C. Some men are beautiful.

Identify and answer which of them provide equivalent information?

- A) A and B
- B) All three give different information
- C) A and C
- D) B and C

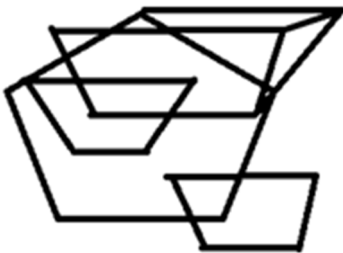
48) समान दिखने वाले कुछ वाक्य दिए गए हैं जो कुछ जानकारी प्रदान करते हैं।

- A. हर आदमी सुंदर है।
- B. कोई भी आदमी नहीं है जो सुन्दर नहीं है।
- C. कुछ आदमी सुंदर हैं।

पहचानें और बताएं कि उनमें से कौन सा समकक्ष जानकारी प्रदान करता है?

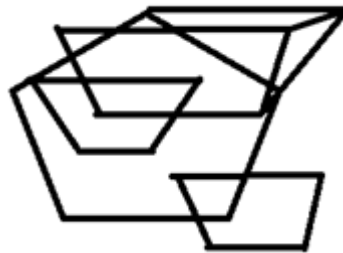
- A) A और B
- B) सभी अलग-अलग जानकारी प्रदान करते हैं
- C) A और C
- D) B और C

49) How many trapeziums are there in the following figure?



- A) 5
- B) 6
- C) 13
- D) 10

49) निम्नलिखित चित्र में कितने असमांतरभुज हैं?



- A) 5
- B) 6
- C) 13
- D) 10

50) What is the coded string for NOTICE from the following figure?

Figure:

code	m	e	c	o	h	l	Q	r	s	a	x	f	z	d	g	p	k
letter	O	R	L	D	W	Y	E	K	T	C	G	N	I	S	H	A	B

- A) acdeqs
- B) efhpqs
- C) fmszaQ
- D) afmqsz

50) निम्न चित्र से NOTICE का कूट बद्ध किया हुआ श्रृंखला क्या होगा? चित्र:

code	m	e	c	o	h	l	Q	r	s	a	x	f	z	d	g	p	k
letter	O	R	L	D	W	Y	E	K	T	C	G	N	I	S	H	A	B

- A) acdeqs
- B) efhpqs
- C) fmszaQ
- D) afmqsz

51) Below four different alphabetical sequences are given. Three of them follow the same pattern as: PRV. Identify the one sequence that does NOT follow this pattern.

- A) JLP
- B) OQT
- C) DFJ
- D) ACG

51) नीचे चार अलग-अलग अक्षरात्मक क्रम दिए गए हैं। उनमें से तीन PRV के जैसे समान पैटर्न का अनुसरण करते हैं। उस अनुक्रम की पहचान करें जो इस पैटर्न का पालन नहीं करता है?

- A) JLP
- B) OQT
- C) DFJ
- D) ACG

52) Select one of the following four options that will make the second pair analogous to the first pair given as:

Gujarat : Garbha :: Assam : _____ .

- A) Bihu
- B) Kuchi Pudi
- C) Kathak
- D) Bharatnatyam

52) निम्नलिखित चार विकल्पों में से एक का चयन करें जो दूसरी जोड़ी को पहली जोड़ी के अनुरूप बना देगा:

गुजरात: गर्भा :: असम: _____

- A) बिहु
- B) कुचिपुड़ी
- C) कथक
- D) भरतनाट्यम

53) Select one of the following four options that will make the second pair analogous to the first pair given as:

Trigonometry : India :: Algebra : _____ .

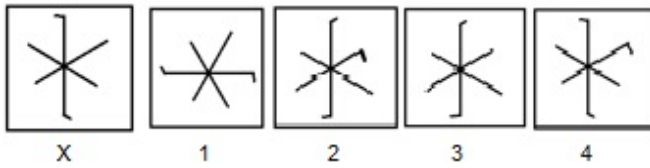
- A) Arabian
- B) European
- C) Asian
- D) American

53) निम्नलिखित चार विकल्पों में से एक का चयन करें जो दूसरी जोड़ी को पहली जोड़ी के अनुरूप बना देगा:

त्रिकोणमिति: भारत :: बीजगणित: _____।

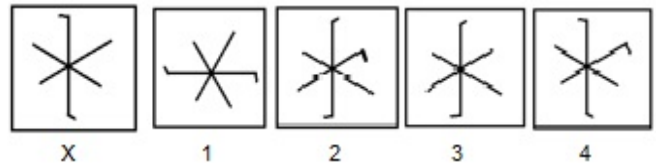
- A) अरबी
- B) यूरोपीय
- C) एशियाई
- D) अमरीकी

54) Which of the images amongst 1, 2, 3 and 4 is the correct water image of the following figure X?



- A) Image 1
B) Image 4
C) Image 2
D) Image 3

54) निम्न चित्र X के लिए दिये गये 1, 2, 3 और 4 प्रतिबिम्बों में से कौन सा सही जल प्रतिबिम्ब है?



- A) प्रतिबिम्ब 1
B) प्रतिबिम्ब 4
C) प्रतिबिम्ब 2
D) प्रतिबिम्ब 3

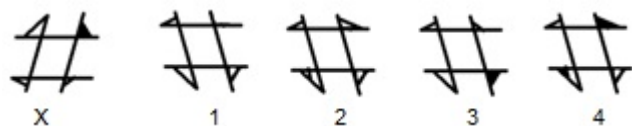
55) A is the son of B while B and C are the two sisters. E is the mother of C. If D is the son of E, which one of the following statements is CORRECT?

- A) D is the maternal uncle of A
B) D is the cousin of A
C) E is the brother of B
D) B and D are the sisters

55) A B का बेटा है जबकि B और C दोनों बहनें हैं। E C की माँ है। यदि D E का बेटा है, तो निम्न कथनों में से कौन सा एक सही है?

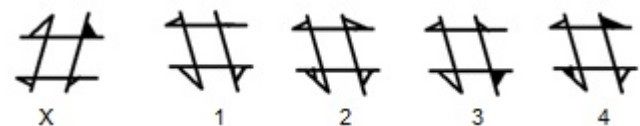
- A) D A के मामा हैं
B) D A का चचेरा भाई है
C) E B का भाई है
D) B और D बहनें हैं

56) Which of the images amongst 1, 2, 3 and 4 is the correct water image of the figure X?



- A) Image 1
B) Image 2
C) Image 3
D) Image 4

56) निम्न चित्र X के लिए दिये गये 1, 2, 3 और 4 प्रतिबिम्बों में से कौन सा सही जल प्रतिबिम्ब है?



- A) प्रतिबिम्ब 1
B) प्रतिबिम्ब 2
C) प्रतिबिम्ब 3
D) प्रतिबिम्ब 4

57) 26 letters of the alphabetical series are arranged in two rows, each containing 13 alphabets according to the alphabetical series. The letters in which of these options, on joining makes a trapezium?

- A) RIJAR
- B) NBCDN
- C) NQCBN
- D) TJKGT

57) वर्णमाला श्रृंखला के 26 अक्षरों को दो पंक्तियों में व्यवस्थित किया जाता है, प्रत्येक में वर्णमाला श्रृंखला के अनुसार 13 वर्ण हैं। इन विकल्पों में से कौन-से अक्षरों को मिलाने पर एक असमांतरभुज (ट्रैपेज़ियम) बनता है?

- A) RIJAR
- B) NBCDN
- C) NQCBN
- D) TJKGT


58) In a reunion party, each guest shook hands with all the other persons only once. The total number of handshakes is 1540. How many persons are there in the party?

- A) 28
- B) 56
- C) 42
- D) 70

58) एक पुनर्मिलन पार्टी में, हर एक अतिथि ने केवल एक बार दूसरे सभी व्यक्तियों के साथ हाथ मिलाया, हात मिलाने की कुल संख्या 1540 है। पार्टी में कितने व्यक्ति हैं?


- A) 28
- B) 56
- C) 42
- D) 70

59) Which from the following is the missing letter in the circle of the given figure?



- A) B
- B) Y
- C) M
- D) O

59) दिए गए चित्र के एक वृत्त में अनुपस्थित अक्षर कौन सा है?



- A) B
- B) Y
- C) M
- D) O

60) Find the odd one out.

- A) Bhagavad Gita
- B) Aranyakas
- C) Upanishads
- D) Dhammapada

60) विषम पद को खोजें।

- A) भगवद् गीता
- B) आरण्यक
- C) उपनिषद
- D) धम्मपद

Section 2 - Part B-General Awareness

61) Which of the following is a battle dance?

- A) Paiku nratya
- B) Kalbelia dance
- C) Bhangra
- D) Ramleela

61) इनमें से कौन सा युद्ध नृत्य है?

- A) पैकू नृत्य
- B) कालबेलिया नृत्य
- C) भांगड़ा
- D) रामलीला

62) Which among the following violent incidents forced Gandhiji to withdraw the Non Cooperation Movement in February 1922?

- A) Kakori Case
- B) Chauri Chaura Case
- C) Jallianwala Bagh Massacre
- D) Rowlatt Act

62) निम्नलिखित हिंसक घटनाओं में से किसने गांधीजी को फरवरी 1922 में असहयोग आंदोलन वापस लेने के लिए मजबूर किया?

- A) काकोरी घटना
- B) चौरी चौरा घटना
- C) जलियांवाला बाग नरसंहार
- D) रोवलेट एक्ट

63) Which of the following is an oxidizing agent present in a safety matchstick?

- A) Potassium chloride
- B) Potassium chlorate
- C) Potassium permanganate
- D) Potassium dichromate

63) निम्न में से कौन सा एक सुरक्षा माचिस में मौजूद एक ऑक्सीकरण एजेंट है?

- A) पोटेशियम क्लोराइड
- B) पोटेशियम क्लोरेट
- C) पोटेशियम परमैंगनेट
- D) पोटेशियम डाइक्रोमेट

64) What is the common name of the disease Amblyopia, which is characterized by reduced vision in one eye?

- A) Lazy eye
- B) Grey eye
- C) Dark eye
- D) Red eye

64) एम्ब्लियोपिया रोग का आम नाम क्या है, जिसमें एक आंख से कम दिखाई देने का लक्षण होता है?

- A) आलसी आँख
- B) भूरी आँख
- C) डार्क आंख
- D) लाल आँख

65) India's biggest aircraft carrier ship, INS Vikramaditya is the first to have an ATM onboard. This ATM belongs to which of the following Banks?

- A) HDFC Bank
- B) State Bank of India
- C) Axis Bank
- D) ICICI Bank

65) भारत का सबसे बड़ा विमान वाहक जहाज INS विक्रमादित्य पर सबसे पहले ATM ऑनबोर्ड बिठाया गया। यह ATM निम्नलिखित में से किस बैंक का है?

- A) HDFC बैंक
- B) भारतीय स्टेट बैंक
- C) ऐक्सिस बैंक
- D) ICICI बैंक

66) Which among the following was the first port that was developed in Gujarat State after independence?

- A) Kandla
- B) Mandavi
- C) Kutch
- D) Porbandar

66) निम्नलिखित में से कौन स्वतंत्रता के बाद गुजरात राज्य में विकसित किया जाने वाला पहला बंदरगाह था?

- A) कांडला
- B) मांडवी
- C) कच्छ
- D) पोरबंदर

67) In an exercise conducted by ESPN cricinfo's magazine Cricket Monthly, which of the following cricketers pipped Sachin Tendulkar as the greatest ODI player in the history of cricket?

- A) Mahendra Singh Dhoni
- B) Rahul Dravid
- C) Vivian Richards
- D) Rohit Sharma

67) ESPN क्रिकइन्फो मैगज़ीन क्रिकेट मन्थली द्वारा आयोजित एक अभ्यास में, निम्नलिखित क्रिकेटर्स में से कौन सचिन तेंदुलकर को नज़दीकी से हराकर क्रिकेट के इतिहास में सबसे बड़ा एकदिवसीय खिलाड़ी बन गया?

- A) महेंद्र सिंह धोनी
- B) राहुल द्रविड
- C) विवियन रिचर्ड्स
- D) रोहित शर्मा

68) Which of the following features of the Indian Constitution was borrowed from the Constitution of Ireland?

- A) Five Year Plan
- B) Fundamental Duties
- C) Directive Principles of State Policy
- D) Bicameral Parliament

68) निम्नलिखित में से भारतीय संविधान के किस विशेषता को आयरलैंड के संविधान से लिया गया था?

- A) पंचवर्षीय योजना
- B) मौलिक कर्तव्य
- C) राज्य के नीति निर्देशक सिद्धांत
- D) द्विसदनीय संसद

69) When was the Aligarh Muslim University formed?

- A) 1921
- B) 1922
- C) 1920
- D) 1923

69) अलीगढ़ मुस्लिम विश्वविद्यालय का गठन कब हुआ था?

- A) 1921
- B) 1922
- C) 1920
- D) 1923

70) Any money which is circulated in the country at the time of emergency or war by the order of the government is known as:

- A) Token money
- B) Fiat money
- C) Full-bodied money
- D) High powered money

70) सरकार के आदेश द्वारा, आपातकालीन या युद्ध के समय देश में प्रचलित कोई भी पैसा किस रूप में जाना जाता है?

- A) टोकन मनी
- B) फ़्लैट मनी
- C) फुल बॉडीड मनी
- D) हाई पॉवर्ड मनी

71) Who among the following was elected as the Chief Minister of Meghalaya after the assembly elections in February 2018?

- A) James Sangma
- B) Mukul Sangma
- C) Agatha Sangma
- D) Conrad Sangma

71) फरवरी 2018 में विधानसभा चुनावों के बाद मेघालय के मुख्यमंत्री के रूप में निम्नलिखित में से किसे निर्वाचित किया था?

- A) जेम्स संगमा
- B) मुकुल संगमा
- C) अगाथा संगमा
- D) कॉनराड संगमा

72) A version of hockey called Khong Kangjei, in which wrestling too forms a part of the game and where the ball can be carried to the goal by kicking it or carrying it in hand, but the goal can be scored only by hitting the ball with the stick, is played in which state of India?

- A) Tamil Nadu
- B) Manipur
- C) Jharkhand
- D) Nagaland

72) हॉकी का एक प्रारूप जिसे 'खांग कांगजी' कहते हैं, जिसमें कुश्ती भी खेल का एक हिस्सा है और जहां गेंद को गोल रेखा तक ठोकर मारकर या हाथ में रखकर लेजा सकते हैं, लेकिन गेंद को केवल छड़ी से मारकर ही गोल किया जा सकता है, भारत के कौनसी राज्य में खेला जाता है?

- A) तमिलनाडु
- B) मणिपुर
- C) झारखंड
- D) नागालैंड

-
- | | |
|--|--|
| <p>73) Which of the following is closest to the length of the Brahmaputra river?</p> <p>A) 4000 km
B) 3900 km
C) 2900 km
D) 5800 km</p> <hr/> | <p>73) निम्नलिखित में से कौन ब्रह्मपुत्र नदी की लंबाई के निकटतम है?</p> <p>A) 4000 km
B) 3900 km
C) 2900 km
D) 5800 km</p> <hr/> |
| <p>74) The Puanchei, a wrap-around skirt called Puan worn by the bride at her wedding, during celebrations and festivals, belongs to which of the following Indian states?</p> <p>A) Rajasthan
B) Mizoram
C) Gujarat
D) Punjab</p> <hr/> | <p>74) पुआनचेई, पुआन नामक एक लपेटो-स्कर्ट है जो दुल्हन द्वारा, उत्सव और त्यौहारों में पहना जाता है यह निम्नलिखित में से कौनसी भारतीय राज्य से सम्बंधित है?</p> <p>A) राजस्थान
B) मिजोरम
C) गुजरात
D) पंजाब</p> <hr/> |
| <p>75) How many languages were initially included in the Eighth Schedule of the Indian Constitution?</p> <p>A) 22
B) 18
C) 14
D) 10</p> <hr/> | <p>75) भारतीय संविधान की आठवीं अनुसूची में शुरूआत में कितनी भाषाएं शामिल थीं?</p> <p>A) 22
B) 18
C) 14
D) 10</p> <hr/> |
| <p>76) Which of the following companies founded by Sachin Bansal and Binny Bansal, was acquired by Walmart Inc. in May 2018?</p> <p>A) Goibibo
B) Snapdeal
C) Justdial
D) Flipkart</p> | <p>76) सचिन बंसल और बिन्नी बंसल द्वारा स्थापित निम्नलिखित में से कौन सी कंपनी मई 2018 में वॉलमार्ट इंक. द्वारा अधिग्रहित की गई थी?</p> <p>A) गोआईबीबो
B) स्नैपडील
C) जस्टडायल
D) फ्लिपकार्ट</p> |
-

77) Which among the following is a sacred place for Hindus and is one of the places of Kumbha Mela?

- A) Badrinath
- B) Bharatpur
- C) Ujjain
- D) Patna

77) निम्नलिखित में से कौन हिंदुओं के लिए एक पवित्र स्थान है और कुंभ मेले के स्थानों में से एक है?

- A) बद्रीनाथ
- B) भरतपुर
- C) उज्जैन
- D) पटना

78) Who broke the Spanish football hat-trick record for a single club with 32nd treble?

- A) Cristiano Ronaldo
- B) Luis Suarez
- C) Robert Lewandowski
- D) Lionel Messi

78) किसने 32 वें तिहरी के साथ एक एकल क्लब के लिए स्पैनिश फुटबॉल हैट्रिक का रिकॉर्ड तोड़ दिया?

- A) क्रिस्टियानो रोनाल्डो
- B) लुइस सुअरेज़
- C) रॉबर्ट लेवानडोव्स्की
- D) लॉयनल मैसी

79) Who among the following was the political Guru of Gandhiji?

- A) Gopal Krishna Gokhale
- B) Jayaprakash Narayan
- C) Rabindranath Tagore
- D) Babasaheb Bhimrao Ambedkar

79) निम्नलिखित में से कौन गांधीजी के राजनीतिक गुरु थे?

- A) गोपाल कृष्ण गोखले
- B) जयप्रकाश नारायण
- C) रवीन्द्रनाथ टैगोर
- D) बाबासाहेब भीमराव अम्बेडकर

80) Natural Gas is NOT found in which of the following states of India?

- A) Mizoram
- B) Odisha
- C) Gujarat
- D) Andhra Pradesh

80) भारत के निम्नलिखित में से किस राज्य में प्राकृतिक गैस नहीं पाया जाता है?

- A) मिज़ोरम
- B) ओडिशा
- C) गुजरात
- D) आंध्र प्रदेश

81) Which among the following is NOT a Himalayan lake?

- A) Pangong Tso Lake
- B) Tilicho Lake
- C) Tso Moriri Lake
- D) Cheongpyeong Lake

81) इनमें से कौन एक हिमालयी झील नहीं है?

- A) पांगोंग त्सो झील
- B) तिलिचो झील
- C) त्सो मोरीरी झील
- D) चेओंगपयोंग झील

82) Which of the following companies was first to launch 'Tap N Pay' contactless digital payment wallet MoboMoney?

- A) Cognizant Technology Solution
- B) Tech Mahindra
- C) Patni Computers
- D) Wipro Technologies

82) टैप एन पे' कॉन्टैक्टलेस डिजिटल पेमेंट वॉलेट मोबोमनी को प्रक्षेपित करने वाली निम्नलिखित में से पहली कंपनी कौन थी?

- A) कॉग्निजेंट टेक्नोलॉजी सोल्यूशन
- B) टेक महिंद्रा
- C) पटनी कम्प्यूटर्स
- D) विप्रो टेक्नोलॉजीस

83) Agumbe, one of the highest rainfall receiving places in India, is located in which of the following states?

- A) Meghalaya
- B) Kerala
- C) Maharashtra
- D) Karnataka

83) अगुंबे, भारत में सबसे ज्यादा बारिश होने वाली जगहों में से एक, निम्नलिखित राज्यों में से किसमें स्थित है?

- A) मेघालय
- B) केरल
- C) महाराष्ट्र
- D) कर्नाटक

84) Which of the following wars came to an end by the Treaty of Sagauli in 1816?

- A) Anglo-Afghan War
- B) Anglo-Nepal War
- C) Anglo-Maratha War
- D) Anglo-French War

84) निम्नलिखित युद्ध में से कौन सा 1816 में सागौली संधि द्वारा समाप्त हुआ था?

- A) एंग्लो-अफगान युद्ध
- B) एंग्लो-नेपाल युद्ध
- C) एंग्लो-मराठा युद्ध
- D) एंग्लो-फ्रेंच युद्ध

-
- | | |
|---|--|
| <p>85) Who won the 2016 SAFF Women's Championship?</p> <p>A) Sri Lanka
B) Bangladesh
C) Pakistan
D) India</p> | <p>85) 2016 के SAFF महिला चैम्पियनशिप किसने जीता?</p> <p>A) श्री लंका
B) बांग्लादेश
C) पाकिस्तान
D) भारत</p> |
|---|--|
-
- | | |
|--|---|
| <p>86) Which of the following ideas is borrowed from 'Canadian Constitution' in India?</p> <p>A) Single citizenship
B) Division of powers between Central and State Governments
C) Parliamentary form of government
D) Federal structure</p> | <p>86) निम्नलिखित में से कौन सा विचार भारत में 'कैनेडियन संविधान' से लिया गया है?</p> <p>A) एकल नागरिकता
B) केंद्र और राज्य सरकारों के बीच अधिकारों का विभाजन
C) सरकार का संसदीय स्वरूप
D) संघीय संरचना</p> |
|--|---|
-
- | | |
|---|---|
| <p>87) Who among the following has the power to interpret the Constitution of India?</p> <p>A) Supreme Court
B) President
C) District Court
D) Sessions Court</p> | <p>87) निम्नलिखित में से किसमें भारत के संविधान का विवेचन करने का अधिकार है?</p> <p>A) उच्चतम न्यायालय
B) राष्ट्रपति
C) जिला अदालत
D) सत्र न्यायालय</p> |
|---|---|
-
- | | |
|---|--|
| <p>88) Non-membranous percussion instrument is called</p> <p>A) Vitat Vadya
B) Tat Vadya
C) Ghana Vadya
D) Sushir Vadya</p> | <p>88) गैर-झिल्लीदार टक्यूसन उपकरण को क्या कहा जाता है?</p> <p>A) वितत वाद्य
B) तट वाद्य
C) घना वाद्य
D) सुशीर वाद्य</p> |
|---|--|
-
- | | |
|--|---|
| <p>89) Who is serving as the Air Chief Marshal of Indian Air Force, as of April 2018?</p> <p>A) Anil Kumar Browne
B) Pradeep Vasant Naik
C) Arup Raha
D) Birender Singh Dhanoa</p> | <p>89) अप्रैल 2018 तक, भारतीय वायुसेना के एयर चीफ मार्शल के रूप में सेवाएं किसने दी हैं?</p> <p>A) अनिल कुमार ब्राउन
B) प्रदीप वसंत नायक
C) अरुप राहा
D) बीरेंद्र सिंह धनोआ</p> |
|--|---|
-

90) The place directly above the focus of the earthquake on the Earth's surface is called:

- A) Epicentre
- B) Focus
- C) Comma
- D) Origin

90) धरती की सतह पर भूकंप के फोकस से प्रत्यक्षतः ऊपर वाला स्थान क्या कहलाता है?

- A) उपरिकेंद्र
- B) फोकस
- C) अल्पविराम
- D) ओरिजिन

91) Which team won IPL 2017?

- A) Gujarat Lions
- B) Sunrisers Hyderabad
- C) Mumbai Indians
- D) Rising Pune Supergiant

91) किस टीम ने IPL 2017 जीता?

- A) गुजरात लायंस
- B) सनराइजर्स हैदराबाद
- C) मुंबई इंडियंस
- D) राइजिंग पुणे सुपरजायंट

92) Who among the following started newspapers 'Kesari' and 'Maharatta' to promote his political views?

- A) Mahatma Gandhi
- B) Annie Besant
- C) Gopal Krishna Gokhale
- D) Bal Gangadhar Tilak

92) निम्नलिखित में से किसने अपने राजनीतिक विचारों को बढ़ावा देने के लिए समाचार पत्र 'केसरी' और 'महाराष्ट्र' का शुभारंभ किया?

- A) महात्मा गांधी
- B) एनी बेसेंट
- C) गोपाल कृष्ण गोखले
- D) बाल गंगाधर तिलक

93) In June 2017, the then Urban Development Minister M. Venkaiah Naidu launched which index for measuring the quality of life in 116 major cities of India?

- A) City Liveability Index
- B) Clean and Healthy City Index
- C) City Dwelling Index
- D) City Habitat Index

93) जून 2017 में, तत्कालीन शहरी विकास मंत्री एम. वेंकैया नायडू ने भारत के 116 प्रमुख शहरों में जीवन की गुणवत्ता को मापने के लिए कौन से इंडेक्स की शुरुआत की थी?

- A) सिटी लिवेबिलिटी इंडेक्स
- B) क्लीन एंड हेल्दी सिटी इंडेक्स
- C) सिटी ड्वेलिंग इंडेक्स
- D) सिटी हैबिटेट इंडेक्स

94) Which of the following polymers can be easily recycled and is commonly used to package carbonated soft drinks and water?

- A) Bakelite
- B) Polyethylene terephthalate
- C) Polychloroprene
- D) Polyvinyl Chloride

94) निम्न में से कौन सा पॉलिमर आसानी से पुनर्नवीनीकरण किया जा सकता है और आमतौर पर इसका उपयोग कार्बोनेटेड शीतल पेय और पानी को पैकिंग करने के लिए किया जाता है?

- A) बैकेलाइट
- B) पॉलीएथीलेन टेरिफ्थैलेट
- C) पॉलीक्लोरोप्रेन
- D) पॉलीविनाइल क्लोराइड

95) Who among the following was the most expensive player at the pro kabaddi auctions 2016?

- A) Jang Kun Lee
- B) Anup Kumar
- C) Sandeep Narwal
- D) Mohit Chillar

95) 2016 के प्रो कबड्डी की नीलामी में सबसे महंगे खिलाड़ी कौन थे?

- A) जंग कुन ली
- B) अनुप कुमार
- C) संदीप नरवाल
- D) मोहित चिल्लर

96) To promote start-ups in the defence sector, the Government has approved a Defence Innovation Fund (DIF) in March 2017, with initial funding from which of the following organizations?

- A) Oil and Natural Gas Corporation and National Thermal Power Corporation
- B) Bharat Aluminium and Tata Steel
- C) Tata Institute of Fundamental Research and Suzlon Energy
- D) Bharat Electronics Ltd and Hindustan Aeronautics Ltd

96) रक्षा क्षेत्र में स्टार्ट-अप को बढ़ावा देने के लिए, सरकार ने मार्च 2017 में एक डिफेंस इनोवेशन फंड (DIF) को निम्नलिखित संगठनों में से किससे प्रारंभिक निधिकरण के साथ मंजूरी दे दी है?

- A) तेल एवं प्राकृतिक गैस निगम लिमिटेड और राष्ट्रीय तापविद्युत निगम लिमिटेड
- B) भारत एल्युमिनियम और टाटा स्टील
- C) टाटा इंस्टीट्यूट ऑफ फंडामेंटल रिसर्च और सुजलॉन एनर्जी
- D) भारत इलेक्ट्रॉनिक्स लिमिटेड और हिन्दुस्तान एरोनॉटिक्स लिमिटेड

97) Which of the following treaties pertains towards protection of the Olympic Symbol?

- A) Washington Treaty
- B) Budapest Treaty
- C) Nairobi Treaty
- D) Olympia Protocol

97) निम्न में से कौन सा संधि ओलिंपिक प्रतीक की रक्षा के लिए है?

- A) वाशिंगटन संधि
- B) बुडापेस्ट संधि
- C) नैरोबी संधि
- D) ओलंपिया प्रोटोकॉल

98) Who was the British Governor- General of India in 1773 who introduced the Regulating Act?

- A) Lord Mayo
- B) Warren Hastings
- C) Lord Rippon
- D) Lord Cornwallis

98) 1773 में भारत के ब्रिटिश गवर्नर-जनरल कौन थे जिन्होंने विनियमन अधिनियम की शुरुआत की?

- A) लॉर्ड मेयो
- B) वॉरेन हेस्टिंग्स
- C) लॉर्ड रिप्पन
- D) लॉर्ड कॉर्नवॉलिस

99) In the economic sense, the goods which are in demand in increasing quantities, as consumers' income rises are called:

- A) Inferior Consumer Goods
- B) Giffen Goods
- C) Free Goods
- D) Normal Consumer Goods

99) आर्थिक अर्थ में, जिन वस्तुओं की माँग उपभोक्ताओं की आय में बढ़ोतरी से अधिक मात्रा में की जाती है, उन्हें यह कहा जाता है:

- A) निम्न उपभोक्ता वस्तुएँ
- B) जिफेन वस्तुएँ
- C) मुफ्त वस्तुएँ
- D) सामान्य उपभोक्ता वस्तुएँ

100) Who is considered as the head of the State in India?

- A) Prime Minister
- B) President
- C) Governor
- D) Council of Ministers

100) भारत में राज्य के प्रमुख के रूप में कौन माना जाता है?

- A) प्रधान मंत्री
- B) राष्ट्रपति
- C) राज्यपाल
- D) मंत्रिमंडल

101) Team Indus is related to which of the following scientific processes?

- A) Name of the second Mars mission to be conducted in 2020
- B) New innovative technology in online digital marketing
- C) India's first private moon mission
- D) High technology developed to detect clean catch in cricket

101) टीम इंडस निम्नलिखित में से किस वैज्ञानिक प्रक्रिया से संबंधित है?

- A) 2020 में आयोजित होने वाले दूसरे मार्स अभियान का नाम
- B) ऑनलाइन डिजिटल मार्केटिंग में नई प्रगतिशील प्रौद्योगिकी
- C) भारत का पहला निजी चाँद अभियान
- D) क्रिकेट में क्लीन कैच का पता लगाने के लिए विकसित की गई उच्च तकनीक

102) Who among the following is the Chairman of the GST Council?

- A) Union Finance Minister of India
- B) Home Minister of India
- C) Governor, Reserve Bank of India
- D) The Comptroller and Auditor General of India

102) निम्नलिखित में से GST परिषद के अध्यक्ष कौन हैं?

- A) भारतीय केंद्रीय वित्त मंत्री
- B) भारत के गृहमंत्री
- C) गवर्नर, भारतीय रिजर्व बैंक
- D) भारत के नियंत्रक और महालेखापरीक्षक

103) Who among the following established the Brahmo Samaj in the year 1828?

- A) Swami Vivekananda
- B) Raja Ram Mohan Roy
- C) Swami Dayananda
- D) Radhakrishnan

103) निम्नलिखित में से किसने 1828 में ब्रह्मो समाज की स्थापना की थी?

- A) स्वामी विवेकानंद
- B) राजा राम मोहन रॉय
- C) स्वामी दयानंद
- D) राधाकृष्णन

104) Who is known as the head of the Indian Republic?

- A) Election Commissioner
- B) President
- C) Prime Minister
- D) Supreme Court Judge

104) भारतीय गणराज्य के प्रमुख के रूप में कौन जाना जाता है?

- A) चुनाव आयुक्त
- B) राष्ट्रपति
- C) प्रधान मंत्री
- D) सुप्रीम कोर्ट जज

105) Who was the President of India when the 1975-77 Emergency was imposed?

- A) Varahagiri Venkata Giri
- B) Dr. Zakir Husain
- C) Dr. Rajendra Prasad
- D) Dr. Fakhruddin Ali Ahmed

105) 1975-77 में जब आपातकाल घोषित था तब भारत के राष्ट्रपति कौन थे?

- A) वरहगिरि वेंकट गिरि
- B) डॉ. ज़ाकिर हुसैन
- C) डॉ. राजेंद्र प्रसाद
- D) डॉ. फखरुद्दीन अली अहमद

106) Which enzyme is present in intestinal secretions?

- A) Thyroglobulin
- B) Oxytocin
- C) Pepsin
- D) Rennin

106) कौन सा एंजाइम आंत्र स्रावों में मौजूद है?

- A) थायरोग्लोब्युलिन
- B) ऑक्सीटोसिन
- C) पेप्सिन
- D) रेनिन

107) List II mentioned in the Seventh Schedule of the Indian Constitution, is also known as

- A) Union List
- B) State List
- C) Concurrent List
- D) Electoral List

107) भारतीय संविधान की सातवीं अनुसूची में उल्लिखित सूची II और किस नाम से भी जाना जाता है?

- A) संघ सूची
- B) राज्य सूची
- C) समवर्ती सूची
- D) चुनाव सूची

108) As per the 42nd Amendment, in the Preamble to the Constitution of India, the words, "SOVEREIGN DEMOCRATIC REPUBLIC" were substituted with

- A) "SOVEREIGN SOCIALIST AUTOCRATIC REPUBLIC"
- B) "SOVEREIGN SOCIALIST SECULAR DEMOCRATIC REPUBLIC"
- C) "SOVEREIGN SOCIALIST DEMOCRATIC REPUBLIC"
- D) "SOCIALIST INDEPENDENT REPUBLIC"

108) 42 वें संविधान के अनुसार, भारत के संविधान के उद्देशिका में, शब्द, "प्रभुत्वसंपन्न लोकतन्त्रात्मक रिपब्लिक" को किस से बदला गया था?

- A) "प्रभुत्वसंपन्न समाजवादी एकतांत्रिक गणराज्य"
- B) "प्रभुत्वसंपन्न समाजवादी धर्मनिरपेक्ष लोकतन्त्रात्मक गणराज्य"
- C) "प्रभुत्वसंपन्न समाजवादी लोकतन्त्रात्मक गणराज्य"
- D) "समाजवादी स्वतंत्र गणराज्य"

109) As of July 2017, which of the following Sensitive Index in Indian Capital Market crossed 10,000 mark for the first time in its history?

- A) Nifty
- B) CNX IT
- C) BSE Bankex
- D) BSE Sensex

109) जुलाई 2017 तक भारतीय पूंजी बाजार में निम्न सेंसिटिव इंडेक्स में से किसने अपने इतिहास में पहली बार 10,000 अंक को पार किया?

- A) निफ्टी
- B) CNX IT
- C) BSE बैंकेक्स
- D) BSE सेंसेक्स

110) It is NOT possible for the Parliament to override the Indian Constitution. Why?

- A) Because it is created by a special Constituent Assembly
- B) Because it is the shortest Constitution in the world
- C) Because Supreme Court is empowered to do so
- D) Because it is the lengthiest Constitution in the world

110) भारतीय संविधान को रद्द करना (ओवरराइड) करना संसद के लिए संभव नहीं है। क्यों?

- A) क्योंकि यह एक विशेष संविधान सभा द्वारा बनाई गई है
- B) क्योंकि यह दुनिया में सबसे छोटा विधान है
- C) क्योंकि सुप्रीम कोर्ट को ऐसा करने के लिए शक्ति दी गई है
- D) क्योंकि यह दुनिया में सबसे लंबा विधान है

111) As per Article 55(3) of the Constitution of India, the President of India is elected through which of the following processes?

- A) Functional representation
- B) Proportional representation
- C) Minority representation
- D) Territorial representation

111) भारत के संविधान के अनुच्छेद 55 (3) के अनुसार, भारत के राष्ट्रपति निम्न प्रक्रियाओं में से किसके द्वारा चुने जाते हैं?

- A) कार्यात्मक प्रतिनिधान
- B) आनुपातिक प्रतिनिधान
- C) अल्पसंख्यक प्रतिनिधान
- D) प्रादेशिक प्रतिनिधान

112) In both plants and animals, the term 'Eukaryote' refers to

- A) presence of glycocalyx
- B) presence of a true nucleus
- C) absence of mitochondria
- D) absence of nucleus

112) पौधों और जानवरों दोनों में शब्द 'यूकार्योट' का अर्थ है

- A) ग्लाइकोकैलिस की उपस्थिति
- B) एक सही केन्द्रक की उपस्थिति
- C) मिटोकॉन्ड्रिया की अनुपस्थिति
- D) केन्द्रक की अनुपस्थिति

113) Which of the following compounds used to kill algae and fungi, is blue in colour?

- A) Copper sulphate
- B) Cobalt chloride
- C) Manganese chloride
- D) Sodium nitrate

113) शैवाल और कवक को मारने के लिए इस्तेमाल किया जानेवाला निम्न में से कौन सा यौगिक का रंग नीला होता है?

- A) कॉपर सल्फेट
- B) कोबाल्ट क्लोराइड
- C) मैंगनीज क्लोराइड
- D) सोडियम नाइट्रेट

114) In Economics, if the demand for a good is elastic then the price elasticity will be

- A) between zero and one
- B) equal to one
- C) lesser than zero
- D) greater than one

114) अर्थशास्त्र में, यदि एक सामान की मांग लोचदार है तो मूल्य लोचन होगी

- A) शून्य और एक के बीच
- B) एक के बराबर
- C) शून्य से कम
- D) एक से अधिक

-
- | | |
|---|---|
| <p>115) Why was the Cabinet Mission sent to India by the British Government?</p> <p>A) To set up the Constituent Assembly only in the Northern part of India</p> <p>B) To approve the effective date for constitution in Britain</p> <p>C) Resolve the whole issue of, freedom from Britishers and settling a constitution in India</p> <p>D) To draft the constitution for the British government and adoption of an Indian Culture in Britain</p> | <p>115) ब्रिटिश सरकार ने कैबिनेट मिशन को भारत क्यों भेजा था?</p> <p>A) केवल भारत के उत्तरी भाग में संविधान सभा स्थापित करने के लिए</p> <p>B) ब्रिटेन में संविधान के प्रभावी तारीख को स्वीकृति देने के लिए</p> <p>C) अंग्रेजों से स्वतंत्रता, भारत में एक संविधान का निपटारा करने के पूरे मुद्दे को हल करने के लिए</p> <p>D) ब्रिटिश सरकार के लिए संविधान का मसौदा तैयार करने और ब्रिटेन में एक भारतीय संस्कृति को अपनाने के लिए</p> |
|---|---|
-
- | | |
|--|--|
| <p>116) In context to the institution NITI Aayog, NITI stands for</p> <p>A) National Initiative for Transforming India</p> <p>B) National Innovative and Technological Institute</p> <p>C) National Intellectual and Technological Institute</p> <p>D) National Institution for Transforming India</p> | <p>116) संस्था NITI आयोग के संदर्भ में, NITI का पूरा रूप है</p> <p>A) नैशनल इनिशिएटिव फॉर ट्रांसफॉर्मिंग इंडिया</p> <p>B) नैशनल इनोवेटिव एंड टेक्नोलॉजिकल इंस्टिट्यूट</p> <p>C) नैशनल इंटेलेक्चुअल एंड टेक्नोलॉजिकल इंस्टिट्यूट</p> <p>D) नैशनल इंस्टिट्यूशन फॉर ट्रांसफॉर्मिंग इंडिया</p> |
|--|--|
-
- | | |
|---|---|
| <p>117) Why is gypsum added to the Portland cement?</p> <p>A) To delay the process of hardening</p> <p>B) To regulate its setting time</p> <p>C) To increase the strength of the cement</p> <p>D) To act as a flux during manufacturing</p> | <p>117) पोर्टलैंड सीमेंट में जिप्सम क्यों मिलाया जाता है?</p> <p>A) सख्त की प्रक्रिया में विलंब करने के लिए</p> <p>B) इसकी सेटिंग समय को क्रम में रखने के लिए</p> <p>C) सीमेंट की ताकत बढ़ाने के लिए</p> <p>D) निर्माण के दौरान प्रवाह के रूप में कार्य करने के लिए</p> |
|---|---|
-
- | | |
|--|--|
| <p>118) On which of the following rivers is the Nagarjuna Sagar project constructed?</p> <p>A) Ganges</p> <p>B) Kaveri</p> <p>C) Krishna</p> <p>D) Brahmaputra</p> | <p>118) निम्नलिखित नदियों में से किस पर नागार्जुन सागर परियोजना का निर्माण किया गया है?</p> <p>A) गंगा</p> <p>B) कावेरी</p> <p>C) कृष्णा</p> <p>D) ब्रह्मपुत्र</p> |
|--|--|
-

119) India's first underwater rail tunnel is constructed in which of the following metropolitan cities?

- A) Kolkata
- B) Mumbai
- C) Chennai
- D) Bengaluru

119) निम्न में से किस मेट्रोपॉलिटन शहर में भारत के पहले अन्तर्जलीय रेल सुरंग का निर्माण किया गया है?

- A) कोलकाता
- B) मुंबई
- C) चेन्नई
- D) बेंगलुरु

120) Scientists at Indian Institute of Technology, Delhi developed which of the following cheapest device capable of restricting up to 95% of dust and air pollutants?

- A) Ultrafilto
- B) Pure-Inhale
- C) Nasovital
- D) Nasofilters

120) भारतीय प्रौद्योगिकी संस्थान, दिल्ली के वैज्ञानिकों ने निम्न में से कौन से सबसे सस्ते उपकरण का विकास किया, जो 95% धूल और वायु प्रदूषक को सीमित करने की क्षमता रखता है?

- A) अल्ट्राफिल्टो
- B) प्योर इन्हेल
- C) नैसोवाइटल
- D) नासोफिलटर्स

Section 3 - Part C-English Language

121) Identify the Compound sentence.

- A) He appears briefly towards the end of the film in a cameo role.
 - B) She's very hard working but not very imaginative.
 - C) There is some wonderful calligraphy in these old manuscripts.
 - D) The stadium has a seating capacity of 50,000.
-

122) Choose the correct spelling from the four options:

- A) acquaintance
 - B) acquaintansce
 - C) acquaintance
 - D) acquaintence
-

123) Fill in the blanks with the correct option:

On my next birthday I _____ invite a hundred guests.

- A) am
 - B) will
 - C) was
 - D) is
-

124) Fill in the blanks with the correct option:

Being a doctor, she is _____ call all the time.

- A) about
 - B) for
 - C) on
 - D) in
-

125) Identify the meaning of the underlined Idiom/Phrase:

It is sometimes wiser to rely on horse sense than on gut feeling.

- A) professional guidance
 - B) parent's expertise
 - C) peer advice
 - D) common sense
-

126) Identify the correct statement:

- (A) They're selling off last year's stock at half price.
- (B) The farmers feel they've been sold off by their government in the negotiations.
- (C) She's really sold off on the idea of buying a new car.
- (D) Here's an idea that'll sell off.

- A) D
 - B) A
 - C) B
 - D) C
-

127) Choose the antonym of the underlined word.

Bhagat Singh is a perfect epitome of courage and bravery.

- A) Imperfect
 - B) Great
 - C) Timorous
 - D) Meticulous
-

128) Identify the synonym of the italicised word:

Manisha became *furious* when she got the derogatory letter from her office.

- A) Obligated
 - B) Ghastly
 - C) Respectful
 - D) Irrate
-

129) Fill in the blanks with the correct option:

The final results _____ up on the notice board.

- A) goes
 - B) have gone
 - C) going
 - D) has gone
-

130) Identify the meaning of the underlined Idiom/Phrase:

His reputation is now on the wane.

- A) declining
 - B) rising
 - C) destroyed
 - D) ruined
-

131) Fill in the blanks with the correct option:

Could you strain _____ vegetables, please.

- A) an
 - B) No Article
 - C) a
 - D) the
-

132) Fill in the blanks with the correct option:

My house is small but it is comfortable to live_____ .

- A) on
 - B) at
 - C) in
 - D) to
-

133) Identify the correct statement:

(A) She finds it impossible to shut off the memory after the accident.

(B) The music room is shut off from the rest of the house by a soundproof partition.

(C) They shut that factory off.

(D) He was off work for a week after he shut off his hand in the car door.

- A) B
 - B) A
 - C) C
 - D) D
-

134) Fill in the blanks with the correct option:

The stone hit the thief _____ his shoulder.

- A) from
 - B) on
 - C) at
 - D) in
-

135) Identify the Compound sentence.

A) The child crawled across the floor.

B) I've run out of milk.

C) They sat in the back row of the cinema.

D) I took one look at her and cracked up.

136) Fill in the blanks with the correct option:

There was _____ light wind blowing.

- A) a
 - B) an
 - C) No Article
 - D) the
-

137) Identify the correct statement:

- (A) Management is looking back at ways of cutting costs.
- (B) I've looked back everywhere but I can't find my glasses anywhere.
- (C) When I look back on our school days, it seems as if they were a century ago.
- (D) The auditors looked back into the records to find the cause of the discrepancy.

- A) A
 - B) D
 - C) B
 - D) C
-

138) Fill in the blanks with the correct option:

I am leaving for Mumbai with _____ family.

- A) Us
 - B) I
 - C) My
 - D) They
-

139) Choose the correct spelling from the four options:

- A) persevarance
- B) perserverance
- C) persaverance
- D) perseverance

140) Identify the error in the following sentence. The error if any will be in one part of the sentence, the number of that part is your answer. If there is no error, mark your answer as D:

(A)She never / (B)complain, but/ (C) she's obviously exhausted./ (D) No error

- A) D
 - B) B
 - C) C
 - D) A
-

141) Identify the synonym of the italicised word:

Is it a *copy* of the main document?

- A) Duplicate
 - B) Brief
 - C) Revision
 - D) Rewrite
-

142) Choose the option that best completes the sentence:

He gave a long, _____ reply that didn't really answer the question.

- A) unambiguous
 - B) rambling
 - C) precise
 - D) explicit
-

143) Fill in the blanks with the correct option:

In Greek mythology, love is personified by _____ goddess, Aphrodite.

- A) an
- B) a
- C) the
- D) No Article

144) Fill in the blanks with the correct option:

The number of cars which are stolen every year _____.

- A) were rising
 - B) rise
 - C) has risen
 - D) rising
-

145) Choose the antonym of the underlined word.

The robber was granted clemency in the court.

- A) Pity
 - B) Mercy
 - C) Mercilessness
 - D) Forbearance
-

146) Fill in the blanks with the correct option:

He _____ his left hand so typed with one hand.

- A) injure
 - B) have injured
 - C) had injured
 - D) injures
-

147) Identify the synonym of the italicised word:

The political condition in Afganistan is *revamping* by the day.

- A) Carrying out
- B) Improving
- C) Deteriorating
- D) Lowering

148) Fill in the blanks with the correct option:

They were discussing _____ the next college event.

- A) for
 - B) about
 - C) on
 - D) at
-

149) Fill in the blanks with the correct option:

She kept me talking on _____ phone for half an hour.

- A) an
 - B) a
 - C) the
 - D) No Article
-

150) Identify the synonym of the italicised word:

The old employee's greatest *advantage* was his honesty.

- A) Asset
 - B) Scandle
 - C) Doubt
 - D) Shortcoming
-

151) Fill in the blanks with the correct option:

She expresses about woman in _____ prose.

- A) Them
- B) His
- C) It
- D) Her

152) Choose the correct spelling from the four options:

- A) neccesary
 - B) necesary
 - C) necessary
 - D) neccessary
-

153) Fill in the blanks with the correct option:

He was _____ tower of strength to me when I was ill.

- A) a
 - B) the
 - C) an
 - D) No Article
-

154) Fill in the blanks with the correct option:

I _____ working here for five years next October.

- A) shall
 - B) shall have be
 - C) will have
 - D) shall have been
-

155) Choose the antonym of the underlined word.

Liabilities will be cleared by the end of this month, the company official said.

- A) Duties
- B) Obligations
- C) Debts
- D) Assets

156) Fill in the blanks with the correct option:

I caught _____ plane with only _____ two minutes to spare.

- A) the, No Article
 - B) No Article required
 - C) a, an
 - D) No Article, a
-

157) Fill in the blanks with the correct option:

My father wanted to talk to _____ in the morning.

- A) His
 - B) Me
 - C) Their
 - D) He
-

158) Choose the correct spelling from the four options:

- A) managable
 - B) manegeable
 - C) manageable
 - D) menageable
-

159) Identify the meaning of the underlined Idiom/Phrase:

He turned me off with his lackadaisical attitude.

- A) irritated me
- B) bored me
- C) inspired me
- D) scolded me

160) Fill in the blanks with the correct option:

Their methods of assessment _____
accurate results.

- A) has produced
 - B) producing
 - C) produces
 - D) produce
-

161) Choose the option that best completes the sentence:

A _____ legislature is a blot on democracy.

- A) massive
 - B) supplant
 - C) supine
 - D) scurrilous
-

162) Choose the antonym of the underlined word.

The impending international pressure on Pakistan will give good results to India.

- A) Distant
 - B) Approaching
 - C) Hovering
 - D) Coming
-

163) Fill in the blanks with the correct option:

Neither of _____ was present in the conference hall on Tuesday.

- A) Them
- B) She
- C) It
- D) He

164) Fill in the blanks with the correct option:

If it _____, I won't go out.

- A) rains
 - B) rain
 - C) will rain
 - D) should be raining
-

165) Choose the antonym of the underlined word.

The immediate outcomes of GST in India are doubtful.

- A) Distant
 - B) Proximate
 - C) Next
 - D) Near
-

166) Fill in the blanks with the correct option:

With hardwork, Ria is capable _____ passing the exam.

- A) in
 - B) from
 - C) to
 - D) of
-

167) Fill in the blanks with the correct option:

It _____ an area of outstanding beauty.

- A) is
- B) have been
- C) being
- D) were

168) Choose the antonym of the underlined word.
The CEO has been a racy fellow in his school days.

- A) Spirited
 - B) Dull
 - C) Lively
 - D) Bright
-

169) Fill in the blanks with the correct option:
The man sailing with me in the boat was very nervous. He _____ never _____ before.

- A) has, sailed
 - B) had, sailed
 - C) has, sail
 - D) have, sailed
-

170) Identify the Complex sentence.
A) The logs crackled and popped in the fireplace.
B) An elderly couple lives next door.
C) When I was younger, I could stay up all night.
D) The radio started to crackle.

171) Identify the synonym of the italicised word:
The *dead* lying there, sacrificed their lives for the betterment of the country.

- A) Departed
- B) Immortal
- C) Everlasting
- D) Sleeping

172) Fill in the blanks with the correct option:
_____ my stay in Kerala, I saw many beaches.

- A) To
 - B) On
 - C) From
 - D) During
-

173) Fill in the blanks with the correct option:
Priya _____ karate class every Saturday.

- A) attending
 - B) attend
 - C) attends
 - D) attended
-

174) Identify the meaning of the underlined Idiom/Phrase:
My friend drops me at my office although it is out of his way.

- A) faraway
 - B) nearby
 - C) not in his route
 - D) in the opposite direction
-

175) Identify the Compound sentence.
A) After her death, he gave himself up to grief.
B) We had very little money left, so we ate frugally.
C) The archive is a goldmine for historians.
D) She has all kinds of grand ideas.

176) Fill in the blanks with the correct option:

I _____ to Canada thrice.

- A) has been
 - B) go
 - C) been
 - D) have been
-

177) Fill in the blanks with the correct option:

How long _____ living in Kolkata before moving here?

- A) had you been
 - B) had you
 - C) were
 - D) have you been
-

178) Identify the synonym of the italicised word:

The car driver changed direction *abruptly*, giving rise to great panic in the car.

- A) Unnecessarily
 - B) Shortly
 - C) Unexpectedly
 - D) Quickly
-

179) Choose the option that best completes the sentence :

Deciduous trees are trees_____.

- A) whom lose their leaves in winter
- B) when they lose their leaves in winter
- C) that lose their leaves in winter
- D) who lose their leaves in winter

180) Choose the option that best completes the sentence:

Does her expenditure _____ her income?

- A) exceed
- B) precede
- C) accede
- D) proceed

Answer Keys

1	D	46	C	91	C	136	A
2	A	47	B	92	D	137	D
3	B	48	A	93	A	138	C
4	D	49	B	94	B	139	D
5	D	50	C	95	D	140	B
6	C	51	B	96	D	141	A
7	A	52	A	97	C	142	B
8	D	53	A	98	B	143	C
9	C	54	D	99	D	144	C
10	B	55	A	100	B	145	C
11	A	56	C	101	C	146	C
12	A	57	C	102	A	147	B
13	B	58	B	103	B	148	B
14	D	59	D	104	B	149	C
15	D	60	D	105	D	150	A
16	D	61	A	106	C	151	D
17	C	62	B	107	B	152	C
18	D	63	B	108	B	153	A
19	C	64	A	109	A	154	D
20	C	65	B	110	A	155	D
21	B	66	A	111	B	156	A
22	C	67	C	112	B	157	B
23	B	68	C	113	A	158	C
24	D	69	C	114	D	159	B
25	A	70	B	115	C	160	D
26	B	71	D	116	D	161	C
27	B	72	B	117	B	162	A
28	A	73	C	118	C	163	A
29	B	74	B	119	A	164	A
30	A	75	C	120	D	165	A
31	B	76	D	121	B	166	D
32	A	77	C	122	C	167	A
33	C	78	D	123	B	168	B
34	C	79	A	124	C	169	B
35	A	80	A	125	D	170	C
36	D	81	D	126	B	171	A
37	C	82	B	127	A	172	D
38	A	83	D	128	D	173	C
39	D	84	B	129	B	174	C
40	C	85	D	130	A	175	B
41	A	86	D	131	D	176	D
42	B	87	A	132	C	177	A
43	A	88	C	133	A	178	C
44	C	89	D	134	B	179	C
45	C	90	A	135	D	180	A