

Section 1 - Part A-General Intelligence

1) Find the odd one out.

- A) Pear
- B) Apple
- C) Carrot
- D) Mango

1) विषम पद को खोजें।

- A) नाशपाती
- B) सेब
- C) गाजर
- D) आम

2) Select one of the following four options that will make the second pair analogous to the first pair given as:

Earth : Gravity :: Birds : \_\_\_\_\_ .

- A) Photosynthesis
- B) Terrestrial
- C) Aerial
- D) Amphibian

2) निम्नलिखित चार विकल्पों में से एक का चयन करें जो दूसरी जोड़ी को पहली जोड़ी के अनुरूप बना देगा:

पृथ्वी: गुरुत्वाकर्षण :: पक्षि: \_\_\_\_\_

- A) प्रकाश संश्लेषण
- B) पार्थिव
- C) आकाशीय
- D) जलथलचर

3) Among the six students M, N, O, P, Q and R in a tuition class, M and Q are the brothers, R is the sister of Q, O is the only son of M's uncle while N and P are the daughters of O's uncle, who is NOT father of M. How is P related to M?

- A) Sister
- B) Daughter
- C) Cousin
- D) Aunty

3) छः छात्र M, N, O, P, Q और R ट्यूशन क्लास में हैं, M और Q भाई हैं, R Q की बहन है, O M के चाचा का एकमात्र बेटा है जबकि N और P दोनों O के चाचा की बेटियाँ हैं, जहाँ M के पिता नहीं हैं, P M की क्या लगती है?

- A) बहन
- B) बेटी
- C) चचेरी बहन
- D) चाची

4) Which of the following statements can be used to take a decision on this problem: What is the radius of the circle P?

- A) Problem cannot be solved
- B) Its area is 12 square cm less than a square with side length equal to its diameter
- C) Its diameter is longest chord of circle
- D) Its diameter is twice the radius

4) निम्न में से कौन सा कथन इस समस्या पर निर्णय लेने के लिए उपयोग किया जा सकता है: वृत्त P की त्रिज्या क्या है?

- A) समस्या हल नहीं की जा सकती है
- B) इसका क्षेत्रफल 12 वर्ग cm कम है उस वर्ग से जिसके किनारे की लम्बाई उसके व्यास से बराबर है
- C) इसका व्यास वृत्त की सबसे लंबी जीवा है
- D) इसका व्यास त्रिज्या का दो गुना है

5) A set of statements is given.

- A) P is a perfect square,
- B) P is greater than 2000.

Which of the given set of statements should be used to decide the solution to problem: Is P a prime number if  $P > 1$ ?

- A) Both A and B together
- B) Not possible to decide even with both A and B
- C) Only A
- D) Only B

5) कथनों का एक समूह दिया गया है।

- A) P एक पूर्ण वर्ग है,
- B) P 2000 से अधिक है।

अगर  $P > 1$  है तो क्या P एक अभाज्य संख्या है: इस समस्या का समाधान करने के लिए निर्धारित बयानों में से किसका उपयोग किया जाना चाहिए?

- A) A और B दोनों एक साथ
- B) A और B दोनों के साथ भी तय करना संभव नहीं है
- C) केवल A
- D) केवल B

6) Below four different alphabetical sequences are given.

Three of them follow the same pattern as: CJM. Identify the one sequence that does NOT follow this pattern.

- A) GSX
- B) PAQ
- C) JOY
- D) RDV

6) नीचे चार अलग-अलग अक्षरात्मक क्रम दिए गए हैं। उनमें से तीन

CJM के जैसे समान पैटर्न का अनुसरण करते हैं। उस अनुक्रम की पहचान करें जो इस पैटर्न का पालन नहीं करता है?

- A) GSX
- B) PAQ
- C) JOY
- D) RDV

7) Which figure is similar to the one given in figure 5?

Figure 5:



(X) (a) (b) (c) (d)

- A) b
- B) d
- C) a
- D) c

7) चित्र 5 में दी गई आकृति के समरूप कौन सा आकृति है?

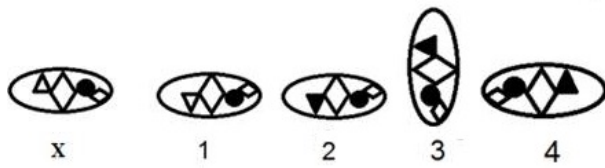
चित्र 5:



(X) (a) (b) (c) (d)

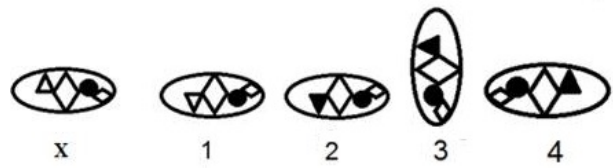
- A) b
- B) d
- C) a
- D) c

8) Which of the images amongst 1, 2, 3 and 4 is the correct water image of the figure X?



- A) Image 2  
B) Image 3  
C) Image 4  
D) Image 1

8) निम्न चित्र X के लिए दिये गये 1, 2, 3 और 4 प्रतिबिम्बों में से कौन सा सही जल प्रतिबिम्ब है?



- A) प्रतिबिम्ब 2  
B) प्रतिबिम्ब 3  
C) प्रतिबिम्ब 4  
D) प्रतिबिम्ब 1

9) A chart is given here. Using this chart choose the alternative which resembles most closely the mirror-image of the string ZEBRA1.

Letters	Mirror Images	Letters	Mirror images	Numbers	Mirror images
A	V	N	M	1	*
B	O	O	O	2	@
C	U	P	Q	3	&
D	I	Q	P	4	%
E	F	R	S	5	#
F	E	S	R	6	!
G	g	T	I	7	L
H	N	U	U	8	B
I	H	V	V	9	P
J	P	W	M	0	?
K	V	X	X		
L	P	Y	V		
M	N	Z	N		

- A) NEUSO\*  
B) NFVSO\*  
C) MFVSO\*  
D) MFVRO\*

9) यहाँ एक चार्ट दिया गया है। इस चार्ट का उपयोग करते हुए उस विकल्प का चयन करें जो दर्पण-प्रतिबिम्ब के ZEBRA1 स्ट्रिंग के सबसे निकट दिखता है।

Letters	Mirror Images	Letters	Mirror images	Numbers	Mirror images
A	V	N	M	1	*
B	O	O	O	2	@
C	U	P	Q	3	&
D	I	Q	P	4	%
E	F	R	S	5	#
F	E	S	R	6	!
G	g	T	I	7	L
H	N	U	U	8	B
I	H	V	V	9	P
J	P	W	M	0	?
K	V	X	X		
L	P	Y	V		
M	N	Z	N		

- A) NEUSO\*  
B) NFVSO\*  
C) MFVSO\*  
D) MFVRO\*

10) The next term in the series 17, 37, 65, 101, 145, 197, \_\_\_\_ is

- A) 253  
B) 257  
C) 227  
D) 254

10) श्रृंखला 17, 37, 65, 101, 145, 197, \_\_\_\_ में अगली संख्या है

- A) 253  
B) 257  
C) 227  
D) 254

11) In the game of chess, a queen has 9 points, a rook has 5 points, a bishop and a knight have 3 points each and a pawn has 1 point. Losing any of these pieces has proportional impact as their points. Which of these is a favourable exchange?

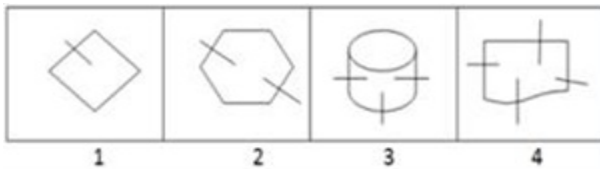
- A) Queen in place of Rook
- B) Pawn in place of Rook
- C) Bishop in place of Knight
- D) Knight in place of Bishop

11) एक खेल में, एक रानी 9 अंकों की है, एक हाथी 5 अंकों का है, एक ऊँट और एक घोड़ा 3 अंक प्रत्येक और एक प्यादा 1 अंक का है। इन टुकड़ों में से किसी एक का खोना उनके अंक के रूप में आनुपातिक प्रभाव करता है। इनमें से कौन सा अनुकूल विनिमय है?

- A) हाथी की जगह पर रानी
- B) हाथी की जगह पर प्यादा
- C) घोड़ा की जगह पर ऊँट
- D) ऊँट की जगह पर घोड़ा

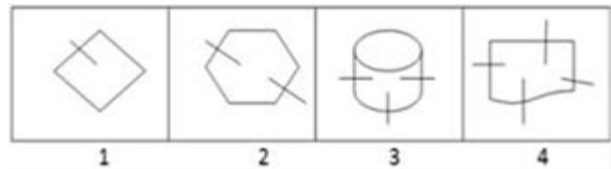
12) Which picture is different from the other pictures in fig 23?

Figure 23:



- A) 4
- B) 3
- C) 2
- D) 1

12) चित्र 23 में कौन सी आकृति अन्य आकृतियों से भिन्न है?  
चित्र 23:



- A) 4
- B) 3
- C) 2
- D) 1

13) What are the minimum number of cuts required to form 64 small cubes from a bigger cube?

- A) 9
- B) 5
- C) 10
- D) 7

13) एक बड़े घन से 64 छोटे घन बनाने के लिए न्यूनतम कितनी आकृतियों की आवश्यकता होगी?

- A) 9
- B) 5
- C) 10
- D) 7

14) The next two consecutive terms in the series 30, 68, 130, 222, \_\_\_\_, \_\_\_\_, are

- A) 231, 364 respectively
- B) 238, 375 respectively
- C) 350, 520 respectively
- D) 289, 440 respectively

14) श्रृंखला 30, 68, 130, 222, \_\_\_\_, \_\_\_\_, में अगले दो क्रमागत संख्या हैं

- A) 231, 364 क्रमशः
- B) 238, 375 क्रमशः
- C) 350, 520 क्रमशः
- D) 289, 440 क्रमशः

15) If SHIFT is written as RFFBO, the decoded string for LKUMB is

- A) MBTLA
- B) MMXQG
- C) KJTLA
- D) MJVLC

15) यदि SHIFT को RFFBO के रूप में लिखा गया है, तो LKUMB के लिए कूटानुवादित की गई श्रृंखला क्या होगी?

- A) MBTLA
- B) MMXQG
- C) KJTLA
- D) MJVLC

16) If  $L > M$ ,  $M = N$  and  $D < M$ , then which of the following relations will be false?

- A)  $L > N$
- B)  $N < D$
- C)  $L > D$
- D)  $M < L$

16) यदि  $L > M$ ,  $M = N$  और  $D < M$ , तो निम्न में से कौन सा संबंध गलत है?

- A)  $L > N$
- B)  $N < D$
- C)  $L > D$
- D)  $M < L$

17) Below four different alphanumerical sequences are given. Three of them follow the same pattern as: J40. Identify the one sequence that does NOT follow this pattern.

- A) M56
- B) Y100
- C) H32
- D) P64

17) नीचे चार अलग-अलग अक्षरांकीय क्रम दिए गए हैं। उनमें से तीन J40 के जैसे समान पैटर्न का अनुसरण करते हैं। उस अनुक्रम की पहचान करें जो इस पैटर्न का पालन नहीं करता है?

- A) M56
- B) Y100
- C) H32
- D) P64

18) Which of these options can be judged from one of the remaining three options?

- A) Q is sister of P
- B) R and T are wife and husband
- C) R is brother of W
- D) P, Q and R are sisters

18) इनमें से कौन सा विकल्प शेष तीन विकल्पों में से एक से आंका जा सकता है?

- A) Q, P की बहन है
- B) R और T पत्नी और पति है
- C) R, W का भाई है
- D) P, Q और R बहनें हैं

19) In each of the pair given in options, a theoretical concept and its real life example is paired. Identify and answer where this pairing is incorrect?

- A) Fiction-Novels
- B) Literature-Poems
- C) Calculation-History
- D) Science-Geography

19) विकल्पों में दी गई प्रत्येक जोड़ी में, एक सैद्धांतिक अवधारणा और उसका वास्तविक जीवन उदाहरण दिया गया है। पहचानें और जवाब दें कि ये पेयरिंग जोड़ियों में कहाँ गलत है?

- A) काल्पनिक कहानी - उपन्यास
- B) साहित्य - कविता
- C) गणना - इतिहास
- D) विज्ञान - भूगोल

20) Four pairs of related terms are given. One of them, does NOT have the relation between terms that others have. Which one is it?,,,

- A) Rain-Cloud
- B) Light-Sun
- C) Sleep-Chair
- D) Disease-Bacteria

20) संबंधित पदों के चार जोड़े दिए गए हैं। दूसरे पदों के बीच जो सम्बन्ध है वो इनमें से एक में नहीं है। वो पद कौनसा है?

- A) बारिश-बादल
- B) प्रकाश-धूप
- C) नींद-कुर्सी
- D) बीमारी-जीवाणु

21) 27 workers can finish a piece of work in 48 days. Only 21 of them worked for 12 days. How many workers should work for the remaining days so as to finish the work on time?

- A) 33
- B) 25
- C) 29
- D) 31

21) 27 श्रमिक 48 दिनों में एक काम को खत्म कर सकते हैं। उनमें से केवल 21 श्रमिक 12 दिनों के लिए काम किये हैं। समय पर काम खत्म करने के लिए कितने श्रमिकों को शेष दिनों के लिए काम करना चाहिए?

- A) 33
- B) 25
- C) 29
- D) 31

22) If 35796 is decoded as 44887, then decoded number for 46823 is

- A) 55934
- B) 55914
- C) 55714
- D) 57914

22) यदि 35796 को 44887 के रूप में कूटानुवादित किया गया है, तो 46823 के लिए कूटानुवादित संख्या क्या होगी?

- A) 55934
- B) 55914
- C) 55714
- D) 57914

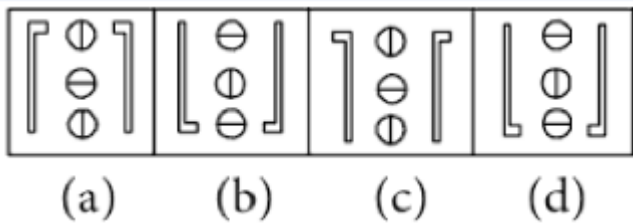


- 
- 27) The next term in the series 66, 54, 44, 36, 30, 26, \_\_\_\_ is
- A) 22  
B) 25  
C) 23  
D) 24
- 
- 28) Which of these relations will give a similar result as the following relation: My sister?
- A) Sister of my brother's wife  
B) Daughter of the my paternal grandfather's only son  
C) Mother of my brother  
D) Wife of my only brother in law
- 
- 29) Among the given triads of terms, identify the terms in which triad are similar to each other?
- A) India - Mars - Pool  
B) Haiti - Indonesia - USA  
C) Mumbai - Dhaka - Germany  
D) Zimbabwe - Kenya - Nigeria
- 
- 30) Rani and Raja are playing a game. They have equal positive amounts of money with them. Rani gave half of her money to Raja, and then Raja gives half of money to Rani. This process is repeated infinitely. After at least how many rounds they will have equal amounts of money again?
- A) 11  
B) 1  
C) Never  
D) Depends on the amount of money
- 
- 27) श्रृंखला 66, 54, 44, 36, 30, 26, \_\_\_\_ में अगली संख्या है
- A) 22  
B) 25  
C) 23  
D) 24
- 
- 28) इनमें से कौन से संबंध निम्नलिखित संबंध के समान परिणाम देता है: मेरी बहन?
- A) मेरे भाई की पत्नी की बहन  
B) मेरे दादाजी के इकलौते बेटे की बेटी  
C) मेरे भाई की माँ  
D) मेरे एकमात्र बहनोई की पत्नी
- 
- 29) दिए गए तीन पदों में से, उन शब्दों की पहचान करें जिसमें तीनों एक दूसरे के समान हैं?
- A) भारत - मंगल - पूल  
B) हैती - इंडोनेशिया - यू एस ए  
C) मुंबई - ढाका - जर्मनी  
D) जिम्बाब्वे - केन्या - नाइजीरिया
- 
- 30) रानी और राजा एक खेल खेल रहे हैं। उनके पास बराबर सकारात्मक धन है रानी ने अपने पैसे का आधा राजा को दिया, और तब राजा रानी को आधा पैसा देते हैं। इस प्रक्रिया को अनन्त रूप से दोहराया गया है। कम से कम कितने मोड़ के बाद उनके पास समान धन फिर से होगी?
- A) 11  
B) 1  
C) कभी नहीं  
D) धन की मात्रा पर निर्भर करता है
-



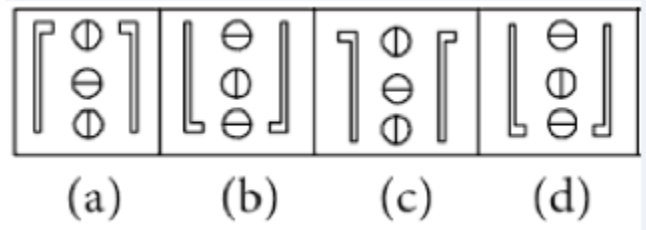
31) Which figure is different from the other pictures in fig 36?

Figure 36:



- A) a
- B) d
- C) c
- D) b

31) चित्र 36 में कौन सी आकृति अन्य आकृतियों से भिन्न है? चित्र 36:



- A) a
- B) d
- C) c
- D) b

32) Adding two natural numbers gives a three-digit number. Both numbers have same number of digits. What could be the minimum value of their product?

- A) 900
- B) 2500
- C) Cannot be determined
- D) 1200

32) दो प्राकृतिक संख्याओं को जोड़ने पर एक तीन अंकीय संख्या बनती है। दोनों संख्याओं में समान अंक है। उनके गुणनफल का न्यूनतम मान क्या हो सकता है?

- A) 900
- B) 2500
- C) निर्धारित नहीं किया जा सकता है
- D) 1200

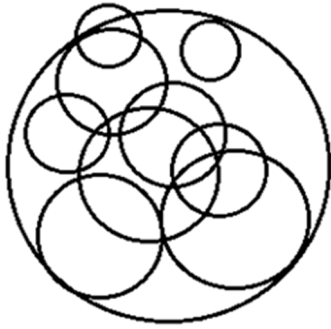
33) There are 4 boys, P, Q, R and S. The priority given to them in taking a defending position in football game is  $P > R > Q > S$ , in taking an attacking position is  $S > R > Q > P$  and in taking mid field position is  $P > S > Q > R$ . If all four are available, then who will take defending position provided P takes midfield?

- A) P
- B) Q
- C) S
- D) R

33) 4 लड़के, P, Q, R और S हैं। फुटबॉल के खेल में एक बचाव की स्थिति देने में उन्हें दी गई प्राथमिकता  $P > R > Q > S$  है, हमले की स्थिति में  $S > R > Q > P$  और मध्य क्षेत्र की स्थिति  $P > S > Q > R$  ले रही है। यदि चारों उपलब्ध हैं, तो कौन बचाव की स्थिति ले लेगा अगर P मध्य क्षेत्र लेता है?

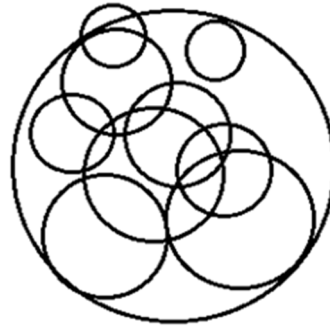
- A) P
- B) Q
- C) S
- D) R

34) How many circles are there in the following figure?



- A) 11
- B) 10
- C) 8
- D) 14

34) निम्नलिखित चित्र में कितने वृत्त हैं?



- A) 11
- B) 10
- C) 8
- D) 14

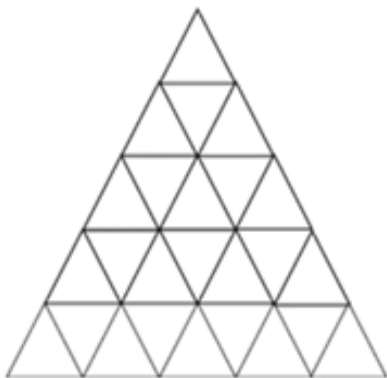
35) The average marks of the students of a class was 52 where the average marks of the 20 percent most brilliant students was 80 while the average marks of the poorest 25 percent students was 31. What was the average score of the remaining 55 percent of the students?

- A) 53.33 approx
- B) 51.40 approx
- C) 54.87 approx
- D) 52.67 approx

35) एक कक्षा के छात्रों का औसत अंक 52 था, जहां 20 प्रतिशत सबसे अधिक प्रतिभाशाली छात्रों का औसत अंक 80 था, जबकि सबसे खराब 25 प्रतिशत छात्रों का औसत अंक 31 था। शेष 55 प्रतिशत छात्रों का औसत स्कोर क्या था ?

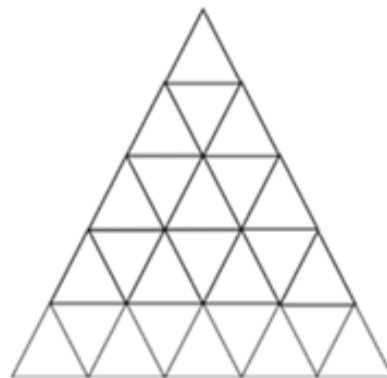
- A) लगभग 53.33
- B) लगभग 51.40
- C) लगभग 54.87
- D) लगभग 52.67

36) What are the total number of triangles in the given figure?



- A) 48
- B) 65
- C) 50
- D) 30

36) दिए गए चित्र में त्रिकोण की कुल संख्या क्या है?



- A) 48
- B) 65
- C) 50
- D) 30

- 
- |   |   |
|---|---|
| <p>37) Which of these options can be judged from one of the remaining three options?</p> <p>A) Kiran is brother of Radha</p> <p>B) Neetu is mother of both Radha and Madhu</p> <p>C) Kiran and Radha are siblings</p> <p>D) Radha and Madhu are sisters</p> | <p>37) इनमें से कौन सा विकल्प शेष तीन विकल्पों में से एक से आंका जा सकता है?</p> <p>A) किरण राधा का भाई है</p> <p>B) नीतू राधा और मधु दोनों की माँ है</p> <p>C) किरण और राधा एक ही माँ के संतान हैं</p> <p>D) राधा और मधु बहनें हैं</p> |
|---|---|
- 
- |  |   |
|--|---|
| <p>38) The difference of two numbers is 830 and one number is 60 percent of the other. What is the largest number?</p> <p>A) 2075</p> <p>B) 1385</p> <p>C) 1245</p> <p>D) 1825</p> | <p>38) दो संख्याओं का अंतर 830 है और एक संख्या दूसरे का 60 प्रतिशत है। तो सबसे बड़ी संख्या क्या है?</p> <p>A) 2075</p> <p>B) 1385</p> <p>C) 1245</p> <p>D) 1825</p> |
|--|---|
- 
- |  |  |
|--|--|
| <p>39) Ravi has answered twice as many sums wrong as against the one he has done correct in a test. If he attempted all the 54 questions in the test, how many did he solve correctly?</p> <p>A) 24</p> <p>B) 12</p> <p>C) 18</p> <p>D) 36</p> | <p>39) एक परीक्षा में रवि ने एक सही जवाब का दोगुना गलत जवाब दिया है। अगर उसने परीक्षा में सभी 54 प्रश्नों को हल करने का प्रयास किया, तो उसने कितने प्रश्नों का सही तरीके से हल किया?</p> <p>A) 24</p> <p>B) 12</p> <p>C) 18</p> <p>D) 36</p> |
|--|--|
- 
- |   |   |
|---|---|
| <p>40) Look at this series: 0, 6, 20, 42, 72. What number should come next in this series?</p> <p>A) 90</p> <p>B) 87</p> <p>C) 92</p> <p>D) 110</p> | <p>40) इस श्रृंखला को देखिए: 0, 6, 20, 42, 72 इस श्रृंखला में आगे कौन सी संख्या आनी चाहिए?</p> <p>A) 90</p> <p>B) 87</p> <p>C) 92</p> <p>D) 110</p> |
|---|---|
-

41) What can be the coded form of the string DDCA from the following figure?

Figure:

	0	1	2	3	4
0	D	K	A	E	C
1	C	D	K	A	E
2	K	C	E	A	D
3	K	C	D	E	A
4	E	D	A	K	C

- A) 32, 24, 01, 43  
 B) 24, 11, 44, 33  
 C) 00, 32, 31, 22  
 D) 00, 11, 31, 42

41) निम्न चित्र से श्रृंखला DDCA का कूट बद्ध किया हुआ रूप क्या हो सकता है?

चित्र:

	0	1	2	3	4
0	D	K	A	E	C
1	C	D	K	A	E
2	K	C	E	A	D
3	K	C	D	E	A
4	E	D	A	K	C

- A) 32, 24, 01, 43  
 B) 24, 11, 44, 33  
 C) 00, 32, 31, 22  
 D) 00, 11, 31, 42

42) While introducing Ravi to her Husband, Sunita said, "His brother's father is the only child of my grandfather." How is Sunita related to Ravi?

- A) Mother  
 B) Daughter  
 C) Aunt  
 D) Sister

42) रवि का अपने पति से परिचय देते हुए सुनीता ने कहा, "उनके भाई के पिता मेरे दादा के एकमात्र बेटे हैं।" सुनीता रवि की क्या लगती है?

- A) माता  
 B) बेटी  
 C) चाची  
 D) बहन

43) In a certain code language '123' is written as 'hot filtered coffee', '356' is written as 'very hot day' and '589' is written as 'day and night'. Which digit in that code does mean 'very'?

- A) 5  
 B) 9  
 C) 3  
 D) 6

43) एक निश्चित कूट भाषा में '123' को 'hot filtered coffee' के रूप में, '356' को 'very hot day' के रूप में और '589' को 'day and night' के रूप में लिखा गया है। उस कूट की कौन सी संख्या का मतलब 'very' है?

- A) 5  
 B) 9  
 C) 3  
 D) 6

- 
- 44) First 25 letters of the alphabet series are arranged in 5 rows. Each row has 5 letters. The alphabets diagonal with E are
- A) HMRQ  
B) OSRV  
C) IMQU  
D) JNRV
- 
- 45) In an office, out of 30 employees, 14 can read Bengali while 16 can read Hindi but 6 of them cannot read either Bengali or Hindi. How many can read both Bengali and Hindi?
- A) 0  
B) 4  
C) 8  
D) 6
- 
- 46) If 'bcd' is written as 'def', then what is the code for 'true'?
- A) vtwg  
B) fjmw  
C) kpuz  
D) dcek
- 
- 47) Select one of the following four options that will make the second pair analogous to the first pair given as:  
Soldiers : Army :: Nomads : \_\_\_\_\_ .
- A) Herd  
B) Bundle  
C) Heap  
D) Horde
- 
- 44) वर्णमाला श्रृंखला के पहले 25 अक्षरों को 5 पंक्तियों में व्यवस्थित किया जाता है। प्रत्येक पंक्ति में 5 अक्षर हैं। E के साथ विकर्ण में कौन से अक्षर हैं?
- A) HMRQ  
B) OSRV  
C) IMQU  
D) JNRV
- 
- 45) एक कार्यालय में, 30 कर्मचारियों में से 14 बंगाली पढ़ सकते हैं, जबकि 16 हिंदी पढ़ सकते हैं, लेकिन उनमें से 6 या तो बंगाली या हिंदी नहीं पढ़ सकते हैं। कितने बंगाली और हिंदी दोनों पढ़ सकते हैं?
- A) 0  
B) 4  
C) 8  
D) 6
- 
- 46) यदि 'bcd' को 'def' के रूप में लिखा गया है, तो 'true' के लिए क्या कोड होगा?
- A) vtwg  
B) fjmw  
C) kpuz  
D) dcek
- 
- 47) निम्नलिखित चार विकल्पों में से एक का चयन करें जो दूसरी जोड़ी को पहली जोड़ी के अनुरूप बना देगा:  
सैनिक: सेना :: बंजारे : \_\_\_\_\_।
- A) झुंड  
B) गट्टा  
C) ढेर  
D) गिरोह
-

48) If KNOWLEDGE is written as 256535475, what is written for GENERAL?

- A) 7552291
- B) 7559913
- C) 6789912
- D) 7555913

48) यदि KNOWLEDGE को 256535475 के रूप में लिखा गया है, तो GENERAL के लिए क्या लिखा जाएगा?

- A) 7552291
- B) 7559913
- C) 6789912
- D) 7555913

49) Select one of the following four options that will make the second pair analogous to the first pair given as:

Absence : Presence :: Elementary : \_\_\_\_\_ .

- A) Basic
- B) Advanced
- C) Fundamental
- D) Critical

49) निम्नलिखित चार विकल्पों में से एक का चयन करें जो दूसरी जोड़ी को पहली जोड़ी के अनुरूप बना देगा:

अनुपस्थिति: उपस्थिति :: मौलिक: \_\_\_\_\_


- A) मूलभूत
- B) उन्नत
- C) सारभूत
- D) महत्वपूर्ण

50) Find the odd one out.



- A) C
- B) D
- C) B
- D) A

50) विषम पद को खोजें।



- A) C
- B) D
- C) B
- D) A

51) If  $B > C > D$ ,  $D = T$ ,  $P < T$ , then which of the following relations will be true?

- A)  $C > P$
- B)  $P = D$
- C)  $B < P$
- D)  $B = C$

51) यदि  $B > C > D$ ,  $D = T$ ,  $P < T$ , तो निम्नलिखित संबंधों में से कौनसा सच होगा?

- A)  $C > P$
- B)  $P = D$
- C)  $B < P$
- D)  $B = C$

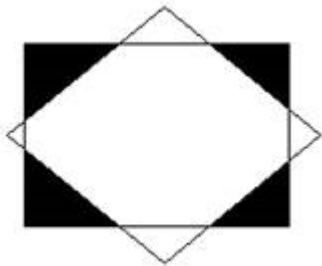
52) Seema introduced Ravi as the brother of her uncle's daughter. Who is Ravi to Seema?

- A) Paternal Uncle
- B) Son
- C) Cousin
- D) Nephew

52) सीमा ने अपने चाचा की बेटी के भाई के रूप में रवि का परिचय कराया है। रवि सीमा का क्या लगता है?

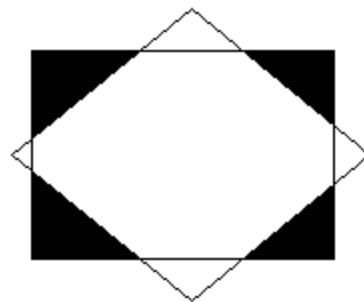
- A) चाचा
- B) बेटा
- C) चचेरा भाई
- D) भतीजा

53) How many triangles are there in the given figure?



- A) 6
- B) 10
- C) 8
- D) 4

53) दिए गए चित्र में कितने त्रिकोण हैं?



- A) 6
- B) 10
- C) 8
- D) 4

54) Select one of the following four options that will make the second pair analogous to the first pair given as:

Precipitate : Catalyst :: Placate : \_\_\_\_\_ .

- A) Satisfy
- B) Replenish
- C) Renew
- D) Aggravate

54) निम्नलिखित चार विकल्पों में से एक का चयन करें जो दूसरी जोड़ी को पहली जोड़ी के अनुरूप बना देगा: अनपेक्षित :: आवेजक :: शांत करना : \_\_\_\_\_।

- A) संतुष्ट करना
- B) पूर्ति करना
- C) नवीकरण
- D) भड़का देना

55) The missing term in the series 41, 85, 145, 221, 313, \_\_\_\_\_, 545 is

- A) 401
- B) 469
- C) 421
- D) 441

55) श्रृंखला 41, 85, 145, 221, 313, \_\_\_\_\_, 545 में अनुपस्थित संख्या है

- A) 401
- B) 469
- C) 421
- D) 441

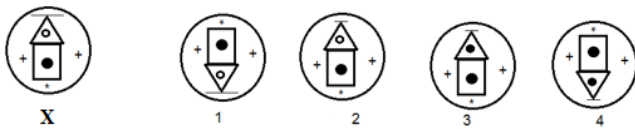
56) Which of these options can be judged from one of the remaining three options?

- A) If P is doubled, it becomes a perfect square
- B) If P is made thrice, it becomes a perfect square
- C) P is not odd
- D) P is prime

56) इनमें से कौन सा विकल्प शेष तीन विकल्पों में से एक से आंका जा सकता है?

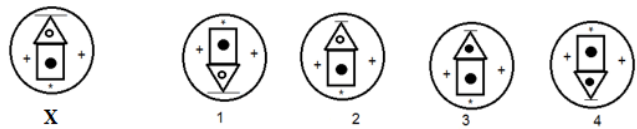
- A) यदि P को दोगुना किया जाता है, तो वह एक शुद्ध वर्ग बन जाता है
- B) अगर P को तिगुना किया जाता है, तो वह एक शुद्ध वर्ग बन जाता है
- C) P विषम संख्या नहीं है
- D) P अभाज्य संख्या है

57) Which of the images amongst 1, 2, 3 and 4 is the correct water image of the following figure X?



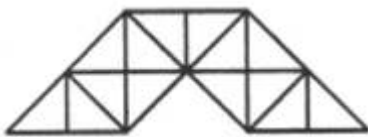
- A) Image 4
- B) Image 1
- C) Image 2
- D) Image 3

57) निम्न चित्र X के लिए दिये गये 1, 2, 3 और 4 प्रतिबिम्बों में से कौन सा सही जल प्रतिबिम्ब है?



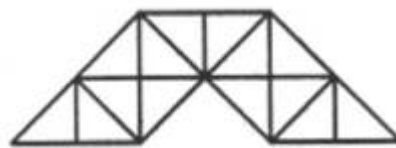
- A) प्रतिबिम्ब 4
- B) प्रतिबिम्ब 1
- C) प्रतिबिम्ब 2
- D) प्रतिबिम्ब 3

58) How many triangles can you count in the given figure?



- A) 35
- B) 27
- C) 29
- D) 31

58) दिए गए चित्र में कितने त्रिकोण हैं?



- A) 35
- B) 27
- C) 29
- D) 31



59) Find the odd one out.

- A) Loyal
- B) Treacherous
- C) Unswerving
- D) Faithful

59) विषम पद को खोजें।

- A) निष्ठावान
- B) विश्वासघाती
- C) अटल
- D) भरोसेमंद

---

60) Two dices are always placed on a floor in such a way that the sum on the top of their faces should be 7. In how many different ways, they can be kept?

- A) 4
- B) 5
- C) 3
- D) 6

60) दो पासे हमेशा एक फर्श पर ऐसे रखे जाते हैं कि उनके फलकों के ऊपरी भाग का योग 7 हो। कितने अलग-अलग तरीकों से, उन्हें रखा जा सकता है?

- A) 4
- B) 5
- C) 3
- D) 6

Section 2 - Part B-General Awareness

- 
- |   |  |
|---|--|
| <p>61) Which of the following organizations has indigenously developed Drishti, an instrument that will provide real time visibility information to pilots?</p> <p>A) Indian Space Research Organization<br/>B) Center for Industrial and Scientific Research<br/>C) Defence Research and Development Organization<br/>D) India Meteorological Department</p> | <p>61) निम्नलिखित संगठनों में से किसने स्वदेशी रूप से 'दृष्टि' नामक उपकरण विकसित किया है, जो पायलटों को वास्तविक समय दृश्यता जानकारी प्रदान करेगा?</p> <p>A) भारतीय अंतरिक्ष अनुसंधान संगठन<br/>B) वैज्ञानिक एवं औद्योगिक अनुसंधान परिषद<br/>C) रक्षा अनुसंधान और विकास संगठन<br/>D) भारतीय मौसम विज्ञान विभाग</p> |
|---|--|
- 
- |  |   |
|--|---|
| <p>62) What is the chemical name of Vitamin B2?</p> <p>A) Niacin<br/>B) Cyanocobalamin<br/>C) Riboflavin<br/>D) Folic acid</p> | <p>62) विटामिन B2 का रासायनिक नाम क्या है?</p> <p>A) नियासिन<br/>B) साइनोकोबालमिन<br/>C) राइबोफ्लेविन<br/>D) फोलिक एसिड</p> |
|--|---|
- 
- |   |  |
|---|--|
| <p>63) The Eighth Schedule of the Indian Constitution speaks about:</p> <p>A) State Legislatures<br/>B) Allocation of seats in the Council of States<br/>C) Provisions for the President and Governor of States<br/>D) Indian Languages</p> | <p>63) भारतीय संविधान की आठवीं अनुसूची किसके बारे में है:</p> <p>A) राज्य विधानपालिका<br/>B) राज्यों की परिषद में सीटों का आवंटन<br/>C) राज्यों के राष्ट्रपति और राज्यपाल के लिए प्रावधान<br/>D) भारतीय भाषाएं</p> |
|---|--|
- 
- |  |   |
|--|---|
| <p>64) Who among the following holds the highest elective office of India?</p> <p>A) President<br/>B) Prime Minister<br/>C) Election Commissioner<br/>D) Supreme Court Judge</p> | <p>64) निम्नलिखित में से कौन भारत का उच्चतम निर्वाचित कार्यालय रखता है?</p> <p>A) राष्ट्रपति<br/>B) प्रधान मंत्री<br/>C) चुनाव आयुक्त<br/>D) सुप्रीम कोर्ट जज</p> |
|--|---|
-

65) Who among the following constructed the city, Tughluqabad (the third of the seven cities of Delhi)?

- A) Ghiyasuddin Tughluq
- B) Muhammad bin Tughluq
- C) Ghiasuddin Balban
- D) Firoz Tughluq

65) निम्नलिखित में से किसने तुगलकाबाद शहर(दिल्ली के सात शहरों में से तीसरा) का निर्माण किया?

- A) गीयासुद्दीन तुगलक
- B) मुहम्मद बिन तुगलक
- C) गयासुद्दीन बलबान
- D) फिरोज़ तुगलक

66) As per the Constitution (73rd Amendment) Act, 1992, one-third of the total number of seats are reserved for women in which of the following political institutions of India?

- A) Rajya Sabha
- B) Lok Sabha
- C) Vidhan Sabha
- D) Panchayats

66) संविधान (73 वां संशोधन) अधिनियम, 1992 के अनुसार, भारत की निम्नलिखित राजनीतिक संस्थाओं में से किस में एक तिहाई सीटें महिलाओं के लिए आरक्षित हैं?

- A) राज्य सभा
- B) लोक सभा
- C) विधान सभा
- D) पंचायत

67) Who won the men's title in the IBSF World Snooker Championship in 2014 and became the youngest player to do so?

- A) Tang Jun
- B) He Guoqiang
- C) Yan Bingtao
- D) Lin Shuai

67) 2014 में IBSF वर्ल्ड स्नूकर चैम्पियनशिप में पुरुष का खिताब किसने जीता और ऐसा करने के लिए सबसे कम उम्र के खिलाड़ी बन गए?

- A) तांग जून
- B) ही गुओकिआंग
- C) यान बिंगटाओ
- D) लिन शुआई

68) Which term for a public good indicates that it is either costly or impossible for one user to exclude others from using it?

- A) Rivalrous
- B) Nonexcludable
- C) Excludable
- D) Nonrivalrous

68) किसी सार्वजनिक वस्तु (पब्लिक गुड) के लिए कौन सा शब्द यह इंगित करता है कि वो या तो महंगा है या दूसरों को उसका पयोग करने से वर्जित करना एक प्रयोक्ता के लिए असंभव है?

- A) राइवलरस
- B) नॉन एक्सक्लूडेबल
- C) एक्सक्लूडेबल
- D) नॉन राइवलरस

69) What does CASA mean, with relation to the Banking sectors in India?

- A) Capital Account and Securities Account
- B) Consumer Account and Supplier Account
- C) Capital Account and Savings Account
- D) Current Account and Savings Account

69) भारत में बैंकिंग क्षेत्रों से संबंधित CASA क्या है?

- A) कैपिटल अकाउंट एंड सिक्योरिटीज अकाउंट
- B) कंस्यूमर अकाउंट एंड सप्लायर अकाउंट
- C) कैपिटल अकाउंट एंड सेविंग्स अकाउंट
- D) करंट अकाउंट एंड सेविंग्स अकाउंट

70) In June 2017, Indian Meteorological Department and which organization developed the weather portal for power sector known as 'MERIT'?

- A) BHEL
- B) POSOCO
- C) Bharat Electronics Ltd
- D) Reliance Power

70) जून 2017 में, भारतीय मौसम विज्ञान विभाग और किस संगठन ने 'MERIT' नामक मौसम पोर्टल ऊर्जा क्षेत्र के लिए विकसित किया?

- A) BHEL
- B) POSOCO
- C) भारत इलेक्ट्रॉनिक्स लिमिटेड
- D) रिलायंस पावर

71) Who among the following established the India House in London?

- A) Shyamji Krishnavarma
- B) Madan Lal Dhingra
- C) Bikaji Rustam Cama
- D) V.D. Savarkar

71) निम्नलिखित में से किसने लंदन में भारत हाउस स्थापित किया?

- A) श्यामजी कृष्णवर्मा
- B) मदन लाल धिंग्रा
- C) बीकाजी रुस्तम कामा
- D) वी.डी. सावरकर

72) The coloured dots on the squash balls denotes which of the following?

- A) Surface finish
- B) Material of the ball
- C) Level of bounce
- D) Shape of the ball

72) स्क्वैश गेंदों पर रंगीन डॉट्स निम्नलिखित में से क्या निर्दिष्ट करता हैं?

- A) सतह का परीसज्जा
- B) गेंद का पदार्थ
- C) बाउंस का स्तर
- D) गेंद का आकार

73) What do the pneumatic bones in Avians indicate about the bone structure?

- A) Heavy weight bones
- B) Light weight bones
- C) Coarse bones
- D) Multiple bones

73) एवियन (पक्षी संबंधी) में वायवीय हड्डियां (न्युमेटिक बोन्स), हड्डी की संरचना के बारे में क्या दर्शाते हैं?

- A) हड्डियों का वजन भारी
- B) हल्के वजन की हड्डियां
- C) मोटे हड्डियां
- D) कई हड्डियां

74) Which is the second largest river of West Bengal on whose bank lies the town of Jalpaiguri?

- A) Yamuna
- B) Ganges
- C) Brahmaputra
- D) Teesta

74) पश्चिम बंगाल की दूसरी सबसे बड़ी नदी कौन सी है जिसके तट पर जलपाईगुड़ी शहर स्थित है?

- A) यमुना
- B) गंगा
- C) ब्रह्मपुत्र
- D) तीस्ता

75) The dance drama known as Ankiya-naat, its actual performance being called Bhaona is from which state of India?

- A) Assam
- B) Chhattisgarh
- C) Odisha
- D) Kerala

75) अंकिया-नाट जो एक नृत्य नाटक है जिसका वास्तविक प्रदर्शन को भाओना कहते हैं, भारत के किस राज्य से है?

- A) असम
- B) छत्तीसगढ़
- C) ओडिशा
- D) केरल

76) During the Presidentship of Mr Pranab Mukherjee, who among the following served as the Vice-President of India from August 2007 to July 2017?

- A) K. R. Narayanan
- B) Dr. Hamid Ansari
- C) Shankar Dayal Sharma
- D) Bhairon Singh Shekhawat

76) जब श्री प्रणव मुखर्जी राष्ट्रपति के पद पर आसीन थे, तो अगस्त 2007 से जुलाई 2017 तक भारत के उपराष्ट्रपति के रूप में कार्य किया?

- A) के. आर. नारायणन
- B) डॉ. हामिद अंसारी
- C) शंकर दयाल शर्मा
- D) भैरों सिंह शेखावत

77) Through which of the following straits does the International Date Line pass through?

- A) Gibraltar Strait
- B) Bering Strait
- C) Florida Strait
- D) Malacca Strait

77) निम्नलिखित में से किस जलग्रीवा से होकर अन्तर्राष्ट्रीय तिथि रेखा गुजरती है?

- A) जिब्राल्टर स्ट्रेट
- B) बेरिंग स्ट्रेट
- C) फ्लोरिडा स्ट्रेट
- D) मलक्का स्ट्रेट

78) Who among the following was the Abyssinian slave of Razia?

- A) Bilal ibn Rabah
- B) Kabir Khan
- C) Altunia
- D) Yakut

78) निम्नलिखित में से कौन रज़ीया का अबयसिनियन गुलाम था?

- A) बिलाल इब्न रबा
- B) कबीर खान
- C) अलतुनिया
- D) याकुट

79) Who among the following is the constitutional head of the Executive of the Union?

- A) Prime Minister
- B) President
- C) Chief Justice of Supreme Court
- D) Speaker of Lok Sabha

79) निम्नलिखित में से संघ के कार्यकारी का संवैधानिक प्रमुख कौन है?

- A) प्रधान मंत्री
- B) राष्ट्रपति
- C) उच्चतम न्यायालय के मुख्य न्यायाधीश
- D) लोक सभा के अध्यक्ष

80) Which of the following is NOT one of the designations previously held by the President of India, Shri Pranab Mukherjee?

- A) Minister for Commerce
- B) Minister of External Affairs
- C) Minister of Civil Aviation
- D) Minister of Defence

80) निम्नलिखित पदों में से, कौन सा एक भारत के राष्ट्रपति श्री प्रणव मुखर्जी द्वारा पूर्व में प्रतिष्ठित नहीं है?

- A) वाणिज्य मंत्री
- B) विदेश मंत्री
- C) नागरिक विमानन मंत्री
- D) रक्षा मंत्री

- 
- |  |   |
|--|---|
| <p>81) Which among the following dams is one of the four major dams on the river Chambal in Madhya Pradesh?</p> <p>A) Nangal Dam</p> <p>B) Rana Pratap</p> <p>C) Gandhi Sagar</p> <p>D) Hodal Dam</p>  | <p>81) निम्नलिखित में से कौन मध्य प्रदेश में चंबल नदी के चार प्रमुख बाँधों में से एक है?</p> <p>A) नंगल बांध</p> <p>B) राणा प्रताप</p> <p>C) गांधी सागर</p> <p>D) होदल बांध</p>                                     |
| <hr/>  |   |
| <p>82) In which of the following countries, the office of the Prime Minister first originated?</p> <p>A) America</p> <p>B) England</p> <p>C) Canada</p> <p>D) Ireland</p>  | <p>82) निम्नलिखित में से किस देश में प्रधान मंत्री का कार्यालय पहली बार स्थापित हुआ था?</p> <p>A) अमेरिका</p> <p>B) इंग्लैंड</p> <p>C) कनाडा</p> <p>D) आयरलैंड</p>  |
| <hr/>  |   |
| <p>83) Dadra and Nagar Haveli is one of the Union Territories of India. Its capital is</p> <p>A) Diu</p> <p>B) Silvassa</p> <p>C) Kavaratti</p> <p>D) Daman</p>  | <p>83) दादरा और नगर हवेली भारत के केंद्रशासित प्रदेशों में से एक है। इसकी राजधानी क्या है?</p> <p>A) दीव</p> <p>B) सिल्वासा</p> <p>C) कवरत्ती</p> <p>D) दमन</p>   |
| <hr/>  |   |
| <p>84) The concepts of 'Liberty, Equality and Fraternity' in the Indian Constitution were inspired by the:</p> <p>A) Constitution of the United States of America</p> <p>B) Constitution of the Soviet Union</p> <p>C) French Constitution</p> <p>D) Canadian Constitution</p> | <p>84) भारतीय संविधान में 'स्वतंत्रता, समानता और बंधुता' की अवधारणा किससे प्रेरित है?</p> <p>A) संयुक्त राज्य अमेरिकी संविधान</p> <p>B) सोवियत संघ के संविधान</p> <p>C) फ्रेंच संविधान</p> <p>D) कनाडाई संविधान</p> |
-

85) Who among the following was one of the members of the Drafting Committee of the Constitution of India?

- A) Womesh Chunder Bonnerjee
- B) Vinoba Bhave
- C) N. Gopalaswami Ayyangar
- D) Lal Bahadur Shastri

85) निम्नलिखित में से कौन भारत के संविधान की निर्मात्री समिति के सदस्य थे?

- A) वमेश चंदर बोनर्जी
- B) विनोबा भावे
- C) एन। गोपालस्वामी अय्यंगार
- D) लाल बहादुर शास्त्री

86) The river Cauvery reaches the Bay of Bengal at which of the following places?

- A) Krishnapatnam
- B) Kanyakumari
- C) Kaveripattinam
- D) Mahendragiri

86) इनमें से किन स्थानों पर कावेरी नदी बंगाल की खाड़ी में पहुँचती है?

- A) कृष्णापट्टनम
- B) कन्याकुमारी
- C) कावेरीपट्टिनम
- D) महेन्द्रगिरी

87) The 14th Chief Minister of Assam, Sarbananda Sonowal launched the 'Chief Minister's Award' to promote which of the following activities in Assam?

- A) Adopting digital payments
- B) Improving literacy rate
- C) Saving girl child
- D) Abolishing child labour

87) असम के 14 वें मुख्यमंत्री, सरबानंद सोनोवाल ने असम में निम्नलिखित में से किस गतिविधि को बढ़ावा देने के लिए 'चीफ़ मिनिस्टर'स अवार्ड' लॉन्च किया?

- A) डिजिटल भुगतान को अपनाना
- B) साक्षरता दर में सुधार
- C) बेटी बचाओ
- D) बाल श्रम को खत्म करना

88) Om Prakash Kohli was appointed as the Governor of which state on 16th July 2014?

- A) Haryana
- B) Rajasthan
- C) Bihar
- D) Gujarat

88) 16 जुलाई 2014 को ओम प्रकाश कोहली को किस राज्य के गवर्नर के पद पर नियुक्त किया गया था?

- A) हरियाणा
- B) राजस्थान
- C) बिहार
- D) गुजरात



89) Which of the following contains the Subject of Criminal Law and procedures?

- A) Union List
- B) State List
- C) Residual Powers
- D) Concurrent List

89) निम्नलिखित में से किसमें आपराधिक कानून और प्रक्रियाओं का विषय शामिल है?

- A) संघ सूची
- B) राज्य सूची
- C) अवशिष्ट शक्तियाँ
- D) समवर्ती सूची

90) From April 1st 2017, the Supreme Court of India banned the sale of alcohol along the National and State highways located within a distance of

- A) 100 m from highway
- B) 700 m from highway
- C) 300 m from highway
- D) 500 m from highway

90) 1 अप्रैल 2017 से, भारतीय उच्च न्यायालय ने राष्ट्रीय और राज्य राजमार्गों से कितनी दूरी के भीतर शराब की बिक्री पर प्रतिबंध लगा दिया है?

- A) राजमार्ग से 100 मी. पर
- B) राजमार्ग से 700 मी. पर
- C) राजमार्ग से 300 मी. पर
- D) राजमार्ग से 500 मी. पर

91) Which one of the following is related to the Education system in India?

- A) Saddler Commission
- B) Mahalwari System
- C) Regulating Act
- D) Ryotwari System

91) इनमें से कौन सी भारत में शिक्षा प्रणाली से संबंधित है?

- A) सैडलर कमीशन
- B) महलवारी प्रणाली
- C) रेगुलेटिंग एक्ट
- D) रयोटवारी प्रणाली

92) In which state is Kaveripattinam located?

- A) Karnataka
- B) Odisha
- C) Assam
- D) Tamil Nadu

92) कावेरीपट्टिनम किस राज्य में स्थित है?

- A) कर्नाटक
- B) ओडिशा
- C) असम
- D) तमिलनाडु

93) When did Nadir Shah invade India?

- A) 1742
- B) 1740
- C) 1739
- D) 1741

93) नादिर शाह ने भारत पर आक्रमण कब किया था?

- A) 1742
- B) 1740
- C) 1739
- D) 1741

94) In economic terms, which of the following is the best definition suitable for Normal Profit?

- A) The payment made to the marginal entrepreneur for his abilities
- B) The minimum level of profit required for a company to remain competitive in the market
- C) The surplus profit made by the least efficient firms to remain competitive in the market
- D) The profit made by marginal entrepreneur in a normal year

94) आर्थिक दृष्टि से, निम्न में से कौन सी परिभाषा सामान्य लाभ के लिए उपयुक्त है?

- A) उनकी क्षमता के लिए सीमांत उद्यमी को दिया गया भुगतान
- B) बाजार में प्रतिस्पर्धी बने रहने के लिए कंपनी के लिए आवश्यक न्यूनतम स्तर लाभ
- C) बाजार में प्रतिस्पर्धी बने रहने के लिए कम से कम कुशल कंपनियों द्वारा किए गए अधिशेष लाभ
- D) एक सामान्य वर्ष में सीमांत उद्यमी द्वारा किए गए लाभ

95) When was the Asian Games held in Delhi for the first time?

- A) 1982
- B) 1951
- C) 1963
- D) 1971

95) पहली बार दिल्ली में एशियाई खेलों का आयोजन कब हुआ था?

- A) 1982
- B) 1951
- C) 1963
- D) 1971

96) The difference between the government's total expenditure and its total receipts excluding borrowing in a given period of time is termed as

- A) Revenue Deficit
- B) Primary Deficit
- C) Fiscal Deficit
- D) Monetary Deficit

96) किसी भी काल अवधि में उधार लेने को छोड़कर सरकार की कुल व्यय और इसकी कुल रसीदों में अंतर को क्या कहा जाता है?

- A) रेवेन्यू डेफिसिट
- B) प्राइमरी डेफिसिट
- C) फिसकल डेफिसिट
- D) मॉनीटरी डेफिसिट

97) Who among the following was the head of Shivaji's Ashta Pradhan (council of ministers)?

- A) Amatya
- B) Sumant
- C) Sachiv
- D) Peshwa

97) निम्नलिखित में से शिवाजी के अष्ट प्रधान (मंत्रि परिषद्) का प्रमुख कौन था?

- A) अमात्य
- B) सुमंत
- C) सचिव
- D) पेशवा

98) Who was the captain of the Indian team in the Kabaddi World Cup 2016?

- A) Mohit Chhillar
- B) Anup Kumar
- C) Meraj Sheykh
- D) Rohit Kumar

98) कबड्डी विश्व कप 2016 में भारतीय टीम का कप्तान कौन था?

- A) मोहित चिल्लर
- B) अनुप कुमार
- C) मेरज शेख
- D) रोहित कुमार

99) Who beat Stephan Hansen in the final of the compound men's shoot-off at the 2017 Hyundai Archery World Cup in Salt Lake?

- A) Mike Schloesser
- B) Bridger Deaton
- C) Rodolfo Gonzalez
- D) Linda Ochoa-Anderson

99) साल्ट लेक में 2017 हुंडई तीरंदाजी विश्व कप में मिश्रित पुरुषों की शूट-ऑफ फाइनल में स्टीफन हैनसेन को किसने हराया था?

- A) माइक श्लोसेर
- B) ब्रिजर डेटन
- C) रॉडोल्फो गोंजालेज
- D) लींडा ओचो-एंडरसन

100) In May 2018, in a railway station beautification competition organized by Indian Railways, two stations of Maharashtra became the nation's "most beautiful" railway stations by securing the first position. One of them is Ballarpur. What is the other one?

- A) Makudi
- B) Lonavala
- C) Khandala
- D) Chandrapur

100) मई 2018 में, भारतीय रेलवे द्वारा आयोजित रेलवे स्टेशन सौंदर्यीकरण की एक प्रतियोगिता में, महाराष्ट्र के दो स्टेशन पहली स्थिति को हासिल करके राष्ट्र के "सबसे खूबसूरत" रेलवे स्टेशन बन गए। उनमें से एक बल्लारपुर है। दूसरा कौन सा है?

- A) मकुडी
- B) लोनावाला
- C) खंडाला
- D) चंद्रपुर

101) Preservation and protection of livestock' is one of the items in the few types of lists, discussed under the Seventh Schedule of the Indian Constitution. Identify the list among the following which states about this item.

- A) The Centre List
- B) The List III
- C) The List I
- D) The State List

101) भारतीय संविधान की सातवीं अनुसूची के तहत चर्चा की गई कुछ प्रकार की सूचियों में से, 'पशुओं के संरक्षण और सुरक्षा' एक हिस्सा है। इस मद के बारे में बताने वाले सूची को पहचानें।

- A) केंद्र सूची
- B) सूची III
- C) सूची I
- D) राज्य सूची

102) As per the 44th Amendment of the Indian Constitution, the President of India shall act in accordance with advice tendered by the:

- A) Council of Ministers
- B) High Court Judge
- C) Supreme Court Judge
- D) Governor of the Maharashtra State

102) भारतीय संविधान के 44 वें संशोधन के अनुसार, निम्न में से किसके द्वारा प्रस्तुत सलाह के अनुसार, भारत के राष्ट्रपति कार्य करेगा:

- A) मंत्रिमंडल
- B) उच्च न्यायालय के न्यायाधीश
- C) सुप्रीम कोर्ट के न्यायाधीश
- D) महाराष्ट्र राज्य के राज्यपाल

103) Kamsale a martial and ritual dance form similar in many ways to stick dances but instead of stick, the participants hold in one hand a sharp-edged bronze cymbal and in the other they hold a bowl-shaped bronze instrument, is practised in which state of India?

- A) Uttar Pradesh
- B) Karnataka
- C) West Bengal
- D) Assam

103) कम्साले जो एक सामरिक और अनुष्ठान नृत्य रूप है जो कई तरह से छड़ी नृत्य के समान हैं और प्रतिभागियों के एक हाथ में एक तेज धार वाली कांस्य झांझनी होती है और दूसरे में वे एक कटोरे के आकार का कांसे का यंत्र रखते हैं, यह भारत के किस राज्य में अभ्यास की जाती है?

- A) उत्तर प्रदेश
- B) कर्नाटक
- C) पश्चिम बंगाल
- D) असम

104) Which of the following is an example of a non-rechargeable battery commonly used in toys, calculators, watches etc.?

- A) Lithium-ion
- B) Nickel-cadmium
- C) Silver-oxide
- D) Lead-acid

104) निम्न में से कौन सा एक गैर-रिचार्जबल बैटरी का उदाहरण है जो खिलौने, कैलकुलेटर, घड़ियां आदि में सामान्यतः इस्तेमाल किया जाता है?

- A) लिथियम-आयन
- B) निकल-कैडमियम
- C) सिल्वर-ऑक्साइड
- D) लेड-एसिड

105) Who invented basketball?

- A) Ralph Baer
- B) Frank Zamboni
- C) Milton Bradley
- D) James Naismith

105) किसने बास्केटबॉल का आविष्कार किया?

- A) राल्फ बायर
- B) फ्रैंक ज़ांबोनी
- C) मिल्टन ब्राडली
- D) जेम्स नैस्मिथ

106) Ashtavadhanam is a form of art that literally means

- A) Eighth day after death
- B) Eighth day after birth
- C) Eight-fold concentration
- D) Eight-fold path of yoga

106) अष्टावदानम कला का एक रूप है जिसका शाब्दिक मतलब है

- A) मृत्यु के आठवें दिन बाद
- B) जन्म के आठवें दिन बाद
- C) आठ गुना एकाग्रता
- D) योग का आठ गुना मार्ग

107) The solar cells used to generate electricity work on which of the following phenomena?

- A) Barnett effect
- B) Faraday effect
- C) Bridgman effect
- D) Photovoltaic effect

107) सौर सेल जो बिजली पैदा करने के लिए इस्तेमाल किए जाते हैं, निम्नलिखित में से किस प्रक्रिया के अनुसार काम करते हैं?

- A) बार्नेट प्रभाव
- B) फैराडे प्रभाव
- C) ब्रिजमैन प्रभाव
- D) फोटोवोल्टिक प्रभाव

108) Which of the following is a bowed stringed musical instrument from Bengal?

- A) Chikara
- B) Shehnai
- C) Jaltarang
- D) Sundari

108) निम्नलिखित में से बंगाल की घुमावदार तार संगीत वाद्ययंत्र कौन सा है?

- A) चिकारा
- B) शहनाई
- C) जलतरंग
- D) सुंदरी

109) What is the function of a thermostat in an electric water heater?

- A) It prevents the heater from explosion during abnormal conditions
- B) It helps in heating the cold water
- C) It holds the water
- D) It controls the temperature within the tank

109) इलेक्ट्रिक वॉटर हीटर में थर्मोस्टैट का क्या कार्य है?

- A) यह असामान्य स्थितियों के दौरान, हीटर को विस्फोट से रोकता है
- B) यह ठंडे पानी को गर्म करने में मदद करता है
- C) यह पानी धारण किए रखता है
- D) यह टैंक के भीतर का तापमान नियंत्रित करता है

110) Which of the following is the newly discovered Earth-like planet orbiting the closest star to the sun?

- A) Proxima B
- B) 19P/Borrelly
- C) Shoemaker-Levy 9
- D) Hale-Bopp

110) इनमें से कौन सा नया खोजा गया पृथ्वी की तरह का ग्रह है जो सूर्य के निकटतम तारे की परिक्रमा करता है?

- A) प्रोक्सिमा B
- B) 19P/बोरेली
- C) शूमेकर-लेवी 9
- D) हेल-बॉप

111) Who is the present Chief Election Commissioner of India, as of April 2018?

- A) Umesh Sinha
- B) Om Prakash Rawat
- C) Sudeep Jain
- D) Chandra Bhushan Kumar

111) अप्रैल 2018 तक भारत के वर्तमान मुख्य निर्वाचन आयुक्त कौन हैं?

- A) उमेश सिन्हा
- B) ओम प्रकाश रावत
- C) सुदीप जैन
- D) चंद्र भूषण कुमार

112) Which among the following is considered as the longest Constitution of the world?

- A) New Zealand Constitution
- B) Indian Constitution
- C) American Constitution
- D) United Kingdom Constitution

112) निम्नलिखित में से कौन सा दुनिया का सबसे लंबा संविधान माना जाता है?

- A) न्यूज़ीलैंड का संविधान
- B) भारतीय संविधान
- C) अमेरिकी संविधान
- D) यूनाइटेड किंगडम का संविधान

113) Bangalore-based firm Halli Labs which focuses on Artificial Intelligence (AI) and Machine Learning (ML) was acquired by which of the following global organizations?

- A) Instagram
- B) Facebook
- C) Google
- D) Twitter

113) बेंगलूर स्थित फर्म हल्ली लैब्स, जो आर्टिफिशियल इंटेलिजेंस (AI) और मशीन लर्निंग (ML) पर केंद्रित करता है, इसको निम्नलिखित किस वैश्विक संगठन ने संप्राप्त किया था?

- A) इंस्टाग्राम
- B) फेसबुक
- C) गूगल
- D) ट्विटर

114) Which chemical is used as a preservative in acidic foods such as pickles, carbonated drinks?

- A) Sodium benzoate
- B) Sodium nitrite
- C) Sodium propionate
- D) Sulfur dioxide

114) अम्लीय खाद्य पदार्थ जैसे कि अचार, कार्बोनेटेड पेय में परिरक्षक के रूप में किस रसायनिक पदार्थ का उपयोग किया जाता है?

- A) सोडियम बेंजोएट
- B) सोडियम नाइट्राइट
- C) सोडियम प्रोपियोनेट
- D) सल्फर डाइऑक्साइड

115) Which among the following is the CORRECT option for the correct location of the Indo - Gangetic Plain?

- A) Deccan Plateau and the Narmada Range
- B) Himalayas and the Peninsular Plateau
- C) Narmada Range and the Peninsular Plateau
- D) Deccan Plateau and the Aravallis

115) निम्नलिखित में से कौन सिन्धु-गंगा के मैदान के सही स्थान के लिए सही विकल्प है?

- A) देक्कन पठार और नर्मदा पर्वत शृंखला
- B) हिमालय और प्रायद्वीपीय पठार
- C) नर्मदा पर्वत शृंखला और प्रायद्वीपीय पठार
- D) देक्कन पठार और अरावली

- 
- |  |   |
|--|---|
| <p>116) Sher-i-Panjab', this title is associated with which Indian political leader?</p> <p>A) Babasaheb Bhimrao Ambedkar</p> <p>B) Dadabhai Naoroji</p> <p>C) Lala Lajpat Rai</p> <p>D) Gopal Krishna Gokhale</p> | <p>116) शेर-आई-पंजाब ', यह शीर्षक किस भारतीय राजनीतिक नेता से जुड़ा हुआ है?</p> <p>A) बाबासाहेब भीमराव अम्बेडकर</p> <p>B) दादाभाई नौरोजी</p> <p>C) लाला लाजपत राय</p> <p>D) गोपाल कृष्ण गोखले</p> |
|--|---|
- 
- |  |  |
|--|--|
| <p>117) The place where bankers meet and settle their mutual claims and accounts is known as</p> <p>A) Clearing house</p> <p>B) Treasury</p> <p>C) Dumping ground</p> <p>D) Collection and clearing centre</p> | <p>117) वह जगह जहां बैंकर मिलते हैं और उनके पारस्परिक दावों और खातों को व्यवस्थित करते हैं, इस जगह को क्या कहा जाता है?</p> <p>A) क्लियरिंग हाउस</p> <p>B) ट्रेजरी</p> <p>C) डम्पिंग ग्राउंड</p> <p>D) कलेक्शन एंड क्लियरिंग सेंटर</p> |
|--|--|
- 
- |   |   |
|---|---|
| <p>118) What is the fullform of ENSO related to weather phenomenon?</p> <p>A) East North South Oscillation</p> <p>B) Electric Navigational Southern Observatory</p> <p>C) Effect of Northern and Southern Oceanic currents</p> <p>D) El Nino Southern Oscillation</p> | <p>118) मौसमी दृष्टिसे संबंधित ENSO का पूरा रूप क्या है?</p> <p>A) ईस्ट नार्थ साउथ ऑसिलेशन</p> <p>B) इलेक्ट्रिक नेविगेशनल साउथर्न ऑब्जर्वेटरी</p> <p>C) इफेक्ट ऑफ नॉर्थर्न एंड साउथर्न ओशनिक करंट</p> <p>D) एल नीनो साउथर्न ऑसिलेशन</p> |
|---|---|
- 
- |  |  |
|--|--|
| <p>119) Who of the following claims to be the creator of Bitcoin, initially identified under pseudonym Satoshi Nakamoto?</p> <p>A) Tikashi Masuka</p> <p>B) Cheng Lee</p> <p>C) John Wilbur</p> <p>D) Craig Wright</p> | <p>119) निम्नलिखित में से कौन Bitcoin के निर्माता होने का दावा करता है जो आरम्भ में सातोशी नाकामातो के उपनाम से जाना जाता था?</p> <p>A) टिकाशी मासुका</p> <p>B) चेंग ली</p> <p>C) जॉन विलबर</p> <p>D) क्रेग राइट</p> |
|--|--|
-



- 120) Which of the following is INCORRECT with respect to the characteristics of sound waves?
- A) The pitch, loudness and tone are the basic properties of sound waves
- B) They are mechanical waves
- C) They always propagate as longitudinal waves through a solid medium
- D) They consist of areas of high and low pressure called compressions and rarefactions
- 120) निम्न में से कौन सा ध्वनि तरंगों की विशेषताओं के संबंध में असत्य है?
- A) पिच, लाउडनेस और टोन ध्वनि तरंगों के मूल गुण हैं
- B) वे यांत्रिक तरंग हैं
- C) वे हमेशा एक ठोस माध्यम के जरिये अनुदैर्घ्य तरंगों के रूप में प्रचार होते हैं
- D) वे उच्च और निम्न दबाव वाले क्षेत्र से बने हुए होते हैं जिन्हें कम्पेशन्स और दुर्लभ प्रतिक्रिया (रेयरफैक्शंस) कहा जाता है।

---

Section 3 - Part C-English Language

121) Choose the option that best completes the sentence :

The professor has been given a year's \_\_\_\_\_ and will resume teaching from June 2018.

- A) sabbatical
  - B) time off
  - C) recess
  - D) employment
- 

122) Fill in the blanks with the correct option:

Shakespeare was born \_\_\_\_\_ the 23rd \_\_\_\_\_ April.

- A) on, of
  - B) of, on
  - C) of, in
  - D) on, at
- 

123) Fill in the blanks with the correct option:

Heart surgery \_\_\_\_\_ tremendous skill and concentration.

- A) were exacting
  - B) have exacted
  - C) exacts
  - D) exact
- 

124) Fill in the blanks with the correct option:

My mother \_\_\_\_\_ me of negligence unless I phone her every day.

- A) accusing
- B) accuse
- C) accuses
- D) was accused

125) Fill in the blanks with the correct option:

Comets \_\_\_\_\_ at regular intervals.

- A) appearing
  - B) appears
  - C) appear
  - D) is appearing
- 

126) Identify the synonym of the italicised word:

They were asked to rewrite the *chronology* of events occurred in America in the 19th century.

- A) Catastrophe
  - B) Completion
  - C) Drubbing
  - D) Time sequence
- 

127) Fill in the blanks with the correct option:

Have \_\_\_\_\_ shifted from Jaipur to Delhi?

- A) Them
  - B) Who
  - C) They
  - D) Their
- 

128) Identify the meaning of the underlined Idiom/Phrase:

There are no cut and dried rules to improve the sales of the company.

- A) redundant
- B) ready-made
- C) motivational
- D) obsolete

129) Fill in the blanks with the correct option:

I cannot \_\_\_\_\_ you tomorrow. I \_\_\_\_\_ cricket.

- A) meet, will play
  - B) meeting, am playing
  - C) meet, am playing
  - D) met, will play
- 

130) Fill in the blanks with the correct option:

\_\_\_\_\_ Himalayas are \_\_\_\_\_ highest mountains.

- A) The, the
  - B) The, No Article
  - C) An, the
  - D) No Article, the
- 

131) Choose the correct spelling from the four options:

- A) deiquiri
  - B) daiquieri
  - C) daequiri
  - D) daiquiri
- 

132) Fill in the blanks with the correct option:

\_\_\_\_\_ have endangered your life, forgive me.

- A) I
- B) She
- C) He
- D) Me

133) Fill in the blanks with the correct option:

I \_\_\_\_\_ not to repeat the mistake again.

- A) promised
  - B) am promising
  - C) have promised
  - D) promise
- 

134) Identify the error in the following sentence. The error, if any, will be in one part of the sentence, the number of that part is your answer. If there is no error, mark your answer as D:

(A) He made / (B) his points by/ (C) admirable clarity./ (D) No error

- A) C
  - B) D
  - C) A
  - D) B
- 

135) Identify the Simple sentence.

- A) The bee turns nectar into honey.
  - B) They'd eaten nearly everything before we had arrived.
  - C) Juliana had a lovely nature so everyone liked her.
  - D) She tries to be neat, but her husband is a slob.
- 

136) Fill in the blanks with the correct option:

People first flew in \_\_\_\_\_ balloon in 1783.

- A) No Article
- B) a
- C) the
- D) an

137) Identify the synonym of the italicised word:

United States of America *emerged* as a super power in the world after 1945.

- A) Dissipated
  - B) Came forth
  - C) Captured
  - D) Continued
- 

138) Choose the correct spelling from the four options:

- A) parallel
  - B) paralell
  - C) parallell
  - D) paralel
- 

139) Identify the synonym of the italicised word:

A.R. Rahman is labelled as *exemplary* in Indian music.

- A) Puzzling
  - B) Excellent
  - C) Simple
  - D) Blundering
- 

140) Identify the synonym of the italicised word:

The *lack* of Calcium gives rise to severe pain in human bones and causes Beriberi.

- A) Dearth
- B) Presence
- C) Moderate
- D) Excess

141) Identify the correct statement:

- (A) Most of the crowd were rooting out for the home team.
- (B) Good manners were rooted out in him like a second nature.
- (C) We were rooted out to the spot by surprise.
- (D) I've rooted out an old pair of shoes that might fit you.

- A) A
  - B) C
  - C) D
  - D) B
- 

142) Identify the Complex sentence.

- A) Holders of shares in the company receive various benefits.
  - B) He made a mistake, but I don't hold it against him.
  - C) She sounded a bit hoarse.
  - D) The villagers were very hospitable to anyone who passed through.
- 

143) Identify the correct statement:

- (A) We put your mistakes down to nervousness.
- (B) He was put down as a chronic complainer.
- (C) I don't think I managed to put down myself across very well in my interview.
- (D) I've put a deposit down on a new car.

- A) B
- B) C
- C) A
- D) D

144) Identify the Complex sentence.

- A) If you feed your dog on cakes and biscuits, he will become fat.
  - B) We moved house last January.
  - C) He had always felt himself to be inferior to his brothers.
  - D) The nationalists believe fervently in Independence for their country.
- 

145) Choose the antonym of the underlined word.

Sky is the limit.

- A) Firmament
  - B) Earth
  - C) Heaven
  - D) Azure
- 

146) Identify the synonym of the italicised word:

The foreigner felt *abashed* because she knew that she had been wrong in her dealing with a seller.

- A) Vibrant
  - B) Untidy
  - C) Ashamed
  - D) Cleared
- 

147) Fill in the blanks with the correct option:

\_\_\_\_\_ construction will be finished in \_\_\_\_\_ next few months.

- A) An, the
- B) An, a
- C) The, the
- D) No Article, an

148) Choose the antonym of the underlined word.

The structure of the newly bought art piece is fragile.

- A) Brittle
  - B) Feeble
  - C) Weak
  - D) Strong
- 

149) Choose the antonym of the underlined word.

After the terror attack, citizens were warned to be vigilant all the time.

- A) Cautious
  - B) Acute
  - C) Ignorant
  - D) Circumspect
- 

150) Fill in the blanks with the correct option:

\_\_\_\_\_ annual arts festival is \_\_\_\_\_ monument to her vision and hard work.

- A) A, an
  - B) An, No Article
  - C) The, a
  - D) No Article, an
- 

151) Fill in the blanks with the correct option:

\_\_\_\_\_ team created ripples in entrepreneurship and won \_\_\_\_\_ first prize in the category.

- A) My, its
- B) Her, there
- C) Her, his
- D) Its, my

152) Identify the synonym of the italicised word:

Many nations currently ceased the export of *genuine* artifacts.

- A) Outdated
  - B) Old
  - C) Real
  - D) Costly
- 

153) Fill in the blanks with the correct option:

He \_\_\_\_\_ a tune as he dried the dishes.

- A) humming
  - B) was humming
  - C) hum
  - D) hums
- 

154) Fill in the blanks with the correct option:

She \_\_\_\_\_ staying in Singapore since 2016.

- A) is been
  - B) has been
  - C) have been
  - D) had been
- 

155) Fill in the blanks with the correct option:

\_\_\_\_\_ name is Dr. John and I work in an institution.

- A) Their
- B) My
- C) I
- D) Him

156) Identify the meaning of the underlined Idiom/Phrase:

If you had half an eye you would have detected her handwriting in the account book.

- A) been observant
  - B) been indiscreet
  - C) been blindfolded
  - D) been accountable
- 

157) Choose the correct spelling from the four options:

- A) handkerchief
  - B) handerchief
  - C) hankerchief
  - D) handkarchief
- 

158) Choose the antonym of the underlined word.

If you want to speak impeccable English, it is suggested you study subject-verb agreement.

- A) Ornate
  - B) Flawed
  - C) Alluring
  - D) Perfect
- 

159) Choose the antonym of the underlined word.

My friend's newly built home is palatial.

- A) Grand
- B) Cramped
- C) Elegant
- D) Stately

160) Fill in the blanks with the correct option:

She does \_\_\_\_\_ lot of work for charity.

- A) an
  - B) No Article
  - C) the
  - D) a
- 

161) Identify the Complex sentence.

- A) The tunnel was dug with the aid of heavy machinery.
  - B) This chapter is very difficult to understand.
  - C) The company publishes a monthly report of its activities.
  - D) The coach, who is very strict, issued an order that all team members must attend early morning practice.
- 

162) Fill in the blanks with the correct option:

Many parents \_\_\_\_\_ to bring their children up on a low income.

- A) has struggled
  - B) struggle
  - C) struggles
  - D) is struggling
- 

163) Fill in the blanks with the correct option:

Everything in this store is \_\_\_\_\_ sale.

- A) at
- B) on
- C) in
- D) of

164) Fill in the blanks with the correct option:

His friends \_\_\_\_\_ the party before he entered the room.

- A) plan
  - B) have planned
  - C) had planned
  - D) planned
- 

165) Choose the antonym of the underlined word.

The caretaker used to sleep in the garret.

- A) Attic
  - B) Turret
  - C) Loft
  - D) Basement
- 

166) Fill in the blanks with the correct option:

He is a new student \_\_\_\_\_ Brazil.

- A) to
  - B) from
  - C) of
  - D) for
- 

167) Fill in the blanks with the correct option:

Many people regard him \_\_\_\_\_ their hero.

- A) as
- B) for
- C) at
- D) to

168) Fill in the blanks with the correct option:

Mary said that she was very pleased \_\_\_\_\_  
my work.

- A) of
  - B) on
  - C) at
  - D) with
- 

169) Fill in the blanks with the correct option:

I noticed that some students had \_\_\_\_\_ close  
after the exhibition.

- A) come
  - B) came
  - C) coming
  - D) comes
- 

170) Choose the option that best completes the  
sentence:

The revolt of the tribal chief was \_\_\_\_\_ before  
it could spread to other places.

- A) suppressed
  - B) fuelled
  - C) roused
  - D) encouraged
- 

171) Fill in the blanks with the correct option:

These flowers generally grow on sloping \_\_\_\_\_  
river banks and near streams.

- A) an
- B) the
- C) a
- D) No Article

172) Fill in the blanks with the correct option:

The Olympic Games \_\_\_\_\_ tomorrow.

- A) opens
  - B) will be opening
  - C) opening
  - D) is opening
- 

173) Identify the meaning of the underlined  
Idiom/Phrase:

The rebels surrendered at discretion.

- A) secretly
  - B) reluctantly
  - C) unconditionally
  - D) wisely
- 

174) Fill in the blanks with the correct option:

He forgot my birthday \_\_\_\_\_ purpose.

- A) for
  - B) with
  - C) of
  - D) on
- 

175) Identify the correct statement:

(A) Sushma has been plugging away at her  
homework for hours.

(B) That interview was just a way for him to plug  
away his new book.

(C) I want to plug away the kettle into the right-hand  
socket

(D) You may plug away the keyboard at the back of  
the computer.

- A) B
- B) A
- C) C
- D) D



176) Choose the correct spelling from the four options:

- A) threshould
  - B) thrashold
  - C) thrreshold
  - D) threshold
- 

177) Identify the meaning of the underlined Idiom/Phrase:

I was determined to speak out.

- A) to speak incoherently
  - B) to speak freely
  - C) to speak quietly
  - D) to speak myself
- 

178) Choose the option that best completes the sentence:

The policeman's family was filled with \_\_\_\_\_ when their son was killed.

- A) consternation
  - B) veneration
  - C) despondency
  - D) awe
- 

179) Choose the option that best completes the sentence:

The Brooklyn Bridge's \_\_\_\_\_ took 14 years, involved 600 workers and cost \$15 million.

- A) construction
- B) demolition
- C) buttress
- D) extermination

180) Fill in the blanks with the correct option:

I \_\_\_\_\_ cut my hair.

- A) having
- B) have
- C) has
- D) am

Answer Keys

1	C	46	A	91	A	136	B
2	C	47	D	92	D	137	B
3	C	48	D	93	C	138	A
4	B	49	B	94	B	139	B
5	C	50	C	95	B	140	A
6	A	51	A	96	C	141	C
7	A	52	C	97	D	142	D
8	D	53	C	98	B	143	D
9	B	54	D	99	A	144	A
10	B	55	C	100	D	145	B
11	B	56	C	101	D	146	C
12	A	57	B	102	A	147	C
13	A	58	C	103	B	148	D
14	C	59	B	104	C	149	C
15	B	60	D	105	D	150	C
16	B	61	D	106	C	151	A
17	A	62	C	107	D	152	C
18	A	63	D	108	A	153	B
19	C	64	A	109	D	154	B
20	C	65	A	110	A	155	B
21	C	66	D	111	B	156	A
22	B	67	C	112	B	157	A
23	B	68	B	113	C	158	B
24	C	69	D	114	A	159	B
25	D	70	B	115	B	160	D
26	A	71	A	116	C	161	D
27	D	72	C	117	A	162	B
28	B	73	B	118	D	163	B
29	D	74	D	119	D	164	C
30	C	75	A	120	C	165	D
31	C	76	B	121	A	166	B
32	A	77	B	122	A	167	A
33	D	78	D	123	C	168	D
34	B	79	B	124	C	169	A
35	B	80	C	125	C	170	A
36	A	81	C	126	D	171	D
37	C	82	B	127	C	172	A
38	A	83	B	128	B	173	C
39	C	84	C	129	C	174	D
40	D	85	C	130	D	175	B
41	D	86	C	131	D	176	D
42	D	87	A	132	A	177	B
43	D	88	D	133	D	178	C
44	C	89	D	134	D	179	A
45	D	90	D	135	A	180	B