

Section 1 - Part A-General Intelligence

-
- | | |
|---|--|
| <p>1) The average age of 350 students in a school is 16 years while that of 210 students is 14 years. What would be the average age of the remaining students?</p> <p>A) 17 years
B) 15 years
C) 19 years
D) 18 years</p> | <p>1) स्कूल में 350 छात्रों की औसत उम्र 16 साल है जबकि 210 छात्रों की औसत उम्र 14 साल है। शेष छात्रों की औसत आयु क्या होगी?</p> <p>A) 17 वर्ष
B) 15 वर्ष
C) 19 वर्ष
D) 18 वर्ष</p> |
|---|--|
-
- | | |
|---|---|
| <p>2) Among the given pairs of terms, which pair of terms are similar to each other?</p> <p>A) PS-QR
B) KL-MP
C) AC-DE
D) MN-ST</p> | <p>2) दिए गए पदों में से कौन सा जोड़ा एक दूसरे के समान है?</p> <p>A) PS-QR
B) KL-MP
C) AC-DE
D) MN-ST</p> |
|---|---|
-
- | | |
|---|--|
| <p>3) Find the odd one out.</p> <p>A) Transient
B) Eternal
C) Abiding
D) Imperishable</p> | <p>3) विषम पद को खोजें।</p> <p>A) क्षणिक
B) अनन्त
C) स्थायी
D) अविनाशी</p> |
|---|--|
-
- | | |
|--|---|
| <p>4) Select one of the following four options that will make the second pair analogous to the first pair given as:
Kashmir : Valley :: Andaman : _____ .</p> <p>A) Island
B) Mangrove
C) Ghat
D) Hill</p> | <p>4) निम्नलिखित चार विकल्पों में से एक का चयन करें जो दूसरी जोड़ी को पहली जोड़ी के अनुरूप बना देगा:
कश्मीर: घाटी :: अंडमान: _____</p> <p>A) द्वीप
B) मैंग्रोव
C) घाट
D) पहाड़ी</p> |
|--|---|
-

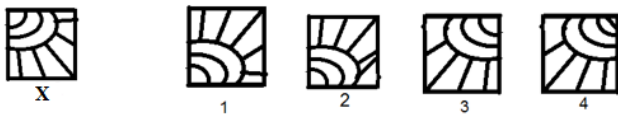
5) A two digit number has, sum of its digits half of its value. Find the number.

- A) 27
- B) 16
- C) 18
- D) 36

5) दो अंकों की संख्या में, उसके अंकों का आधा हिस्सा उसके मूल्य का है। संख्या ढूँढें।

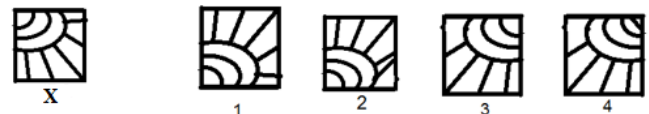
- A) 27
- B) 16
- C) 18
- D) 36

6) Which of the images amongst 1, 2, 3 and 4 is the correct water image of the following figure X?



- A) Image 1
- B) Image 4
- C) Image 2
- D) Image 3

6) निम्न चित्र X के लिए दिये गये 1, 2, 3 और 4 प्रतिबिम्बों में से कौन सा सही जल प्रतिबिम्ब है?



- A) प्रतिबिम्ब 1
- B) प्रतिबिम्ब 4
- C) प्रतिबिम्ब 2
- D) प्रतिबिम्ब 3

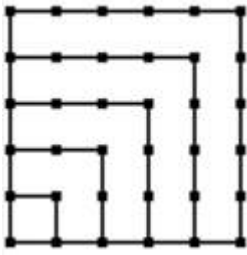
7) Reema introduced Ravi as: "His mother is the only daughter of my mother." How is Reema related to Ravi?

- A) Sister
- B) Grand Daughter
- C) Daughter
- D) Mother

7) रीमा ने रवि का परिचय करते हुए कहा है "उनकी माँ मेरी माँ की एकमात्र बेटी है।" रीमा रवि की क्या लगती है?

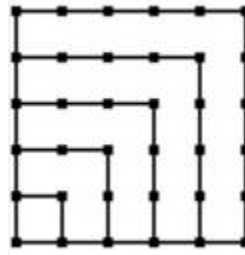
- A) बहन
- B) नवासी
- C) बेटी
- D) माता

8) How many dots are there in the given figure?



- A) 30
- B) 36
- C) 24
- D) 34

8) दिए गए चित्र में कितने बिंदु हैं?



- A) 30
- B) 36
- C) 24
- D) 34

9) Below four different numerical sequences are given. Three of them follow the same pattern as: 482482. Identify the one sequence that does NOT follow this pattern.

- A) 7236123
- B) 9648164
- C) 6030103
- D) 241241

9) नीचे चार अलग-अलग संख्यात्मक क्रम दिए गए हैं। उनमें से तीन 482482 के जैसे समान पैटर्न का अनुसरण करते हैं। उस अनुक्रम की पहचान करें जो इस पैटर्न का पालन नहीं करता है?

- A) 7236123
- B) 9648164
- C) 6030103
- D) 241241

10) If DELHI is written as 73541 and CALCUTTA is written as 82589662, what is the coded number for CALICUT?

- A) 5978213
- B) 8251896
- C) 8543691
- D) 5279431

10) यदि DELHI को 73541 के रूप में और CALCUTTA को 82589662 के रूप में लिखा गया है, तो CALICUT के लिए कूट बद्ध संख्या क्या होगी?

- A) 5978213
- B) 8251896
- C) 8543691
- D) 5279431

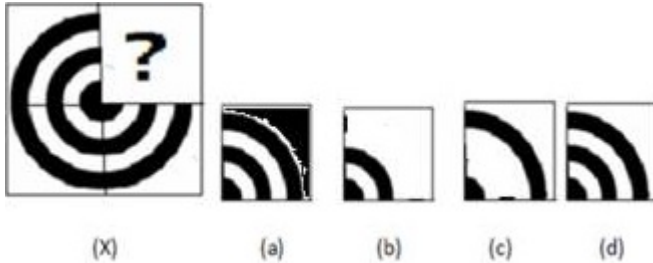
11) The sum of two natural numbers is 123. Exactly one of them is a prime and the other is a perfect square. Their product is less than 300. Find the square of the larger number.

- A) 19382
- B) 12127
- C) 14641
- D) 17328

11) दो प्राकृतिक संख्याओं का योग 123 है। उनमें से एक अभाज्य संख्या है और दूसरा एक पूर्ण वर्ग है। उनका गुणनफल 300 से कम है। इनमें से बड़ी संख्या का वर्ग का पता लगाएं।

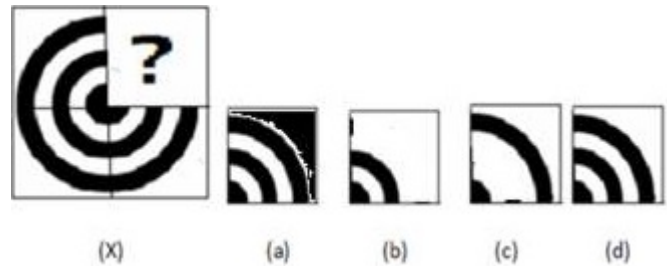
- A) 19382
- B) 12127
- C) 14641
- D) 17328

12) Which of the following is the CORRECT option to complete the picture in the following figure?



- A) a
- B) b
- C) c
- D) d

12) चित्र में आकृति को पूरा करने का सही विकल्प कौन सा है?



- A) a
- B) b
- C) c
- D) d

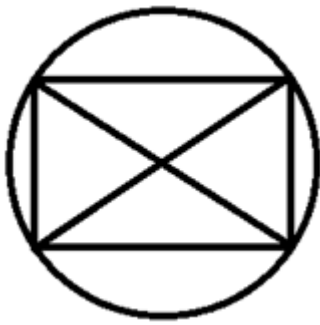
13) If $P \geq Q \geq R$, $A > C$, $C = D$, $F > D$ then which of the following relations will be false?

- A) Cannot be determined
- B) $F > C$
- C) $A < D$
- D) $P \geq R$

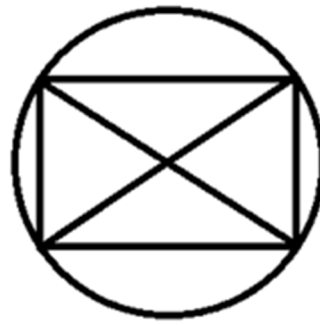
13) यदि $P \geq Q \geq R$, $A > C$, $C = D$, $F > D$ तो निम्नलिखित में से कौन सा संबंध गलत है?

- A) निर्धारित नहीं किया जा सकता है
- B) $F > C$
- C) $A < D$
- D) $P \geq R$

14) How many triangles are there in the following figure? 14) निम्नलिखित चित्र में कितने त्रिकोण हैं?



- A) 7
- B) 8
- C) 5
- D) 4



- A) 7
- B) 8
- C) 5
- D) 4

15) To pass in English, Science, Maths and Geography, minimum marks (out of 80) required are 32, 30, 25 and 20, respectively. John scored equal marks in all subjects and he passed in exactly three subjects. Which of these could be his marks in each subject?

- A) 28
- B) 32
- C) 31
- D) 29

15) अंग्रेजी, विज्ञान, गणित और भूगोल में उत्तीर्ण होने के लिए, न्यूनतम अंक (80 में से) की आवश्यकता क्रमशः 32, 30, 25 और 20 है। जॉन ने सभी विषयों में बराबर अंक प्राप्त किए हैं और वह सिर्फ तीन विषयों में ही उत्तीर्ण हुआ है। इनमें से कौन प्रत्येक विषय में उसके अंक हो सकते हैं?

- A) 28
- B) 32
- C) 31
- D) 29

16) Look at this series: 100, 92, 85, 79, 74, _____. What number should come next in this series?

- A) 70
- B) 69
- C) 60
- D) 65

16) इस श्रृंखला को देखिए: 100, 92, 85, 79, 74, ____ इस श्रृंखला में आगे कौन सी संख्या आनी चाहिए?

- A) 70
- B) 69
- C) 60
- D) 65

17) In a game of chess, a queen has 9 points, a rook has 5 points, a bishop and a knight have 3 points each and a pawn has 1 point. Losing any of these pieces has proportional impact as their points. If Emma CANNOT lose more than 12 points, and she has already lost queen, then which of these she CANNOT lose?

- A) Pawn
- B) Knight
- C) Bishop
- D) Rook

17) एक खेल में, एक रानी 9 अंकों की है, एक हाथी 5 अंकों का है, एक ऊँट और एक घोड़ा 3 अंक प्रत्येक और एक प्यादा 1 अंक का है। इन टुकड़ों में से किसी एक का खोना उनके अंक के रूप में अनुपातिक प्रभाव करता है। यदि एमा 12 अंक से अधिक नहीं खो सकती है, और वह पहले से ही रानी खो चुकी है तो इनमें से किसे वह नहीं खो सकती है?

- A) प्यादा
- B) घोड़ा
- C) ऊँट
- D) हाथी

18) Four numbers 3, 4, 5 and 6 are to be matched to four letters, P, Q, R and S. The following conditions are to be followed: P and Q do not match to even numbers, R and P match to consecutive numbers, S matches to 4. Then, to which of these letters 3 will be matched?

- A) R
- B) P
- C) Q
- D) S

18) चार नंबर 3, 4, 5 और 6 को चार अक्षर P, Q, R और S से मिलान किया जाता है। निम्नलिखित शर्तों का पालन करना है: P और Q सम संख्याएं से मेल नहीं होते, R और P लगातार संख्या से मेल होते हैं, S, 4 से मेल होते हैं। इनमें से कौन से अक्षर 3 से मिलान होगा?

- A) R
- B) P
- C) Q
- D) S

19) Which of these terms is NOT similar to others in respect to positive difference between unique number of consonants and unique number of vowels in the given word?

- A) CHROME
- B) SCENERY
- C) SCRIBE
- D) BLAZER

19) इनमें से कौन सी पद अपने व्यंजन (कान्सनन्ट) की अनूठी संख्या और स्वरों (वाउअल) की अनूठी संख्या के बीच सकारात्मक अंतर के संबंध में दूसरे पदों के समान नहीं है?

- A) CHROME
- B) SCENERY
- C) SCRIBE
- D) BLAZER

20) The missing term in the series 19, 44, ____, 169, 269, 394, 544 is

- A) 54
- B) 94
- C) 84
- D) 64

20) श्रृंखला 19, 44, ____, 169, 269, 394, 544 में अनुपस्थित संख्या है

- A) 54
- B) 94
- C) 84
- D) 64

21) What can be the coded form of the string INTENET from figure 1 and figure 2?

Figure 1:

MATRIX 1

	0	1	2	3	4
0	F	A	N	O	I
1	I	O	F	A	N
2	A	N	O	I	F
3	O	F	I	N	A
4	N	I	A	F	O

Figure 2:

MATRIX 2

	5	6	7	8	9
5	S	E	H	B	T
6	H	S	E	T	B
7	B	T	S	E	H
8	E	H	T	B	S
9	T	S	E	H	B

- A) 23, 14, 78, 12, 44, 55, 86
 B) 10, 21, 68, 54, 32, 55, 78
 C) 41, 33, 45, 67, 34, 56, 47
 D) 32, 14, 87, 78, 21, 85, 68

21) चित्र 1 और चित्र 2 से श्रृंखला INTENET का कूट बद्ध रूप क्या हो सकता है?

चित्र 1:

MATRIX 1

	0	1	2	3	4
0	F	A	N	O	I
1	I	O	F	A	N
2	A	N	O	I	F
3	O	F	I	N	A
4	N	I	A	F	O

चित्र 2:

MATRIX 2

	5	6	7	8	9
5	S	E	H	B	T
6	H	S	E	T	B
7	B	T	S	E	H
8	E	H	T	B	S
9	T	S	E	H	B

- A) 23, 14, 78, 12, 44, 55, 86
 B) 10, 21, 68, 54, 32, 55, 78
 C) 41, 33, 45, 67, 34, 56, 47
 D) 32, 14, 87, 78, 21, 85, 68

22) Look at this series: 3, 21, 42, 294. What number should come next in this series?

- A) 588
 B) 2058
 C) 1991
 D) 1818

22) इस श्रृंखला को देखिए: 3, 21, 42, 294। इस श्रृंखला में आगे कौन सी संख्या आनी चाहिए?

- A) 588
 B) 2058
 C) 1991
 D) 1818

23) In an animal husbandry farm, there are certain number of goats and ducks where the total number of legs exceeds double the number of heads by 18. How many ducks were there?

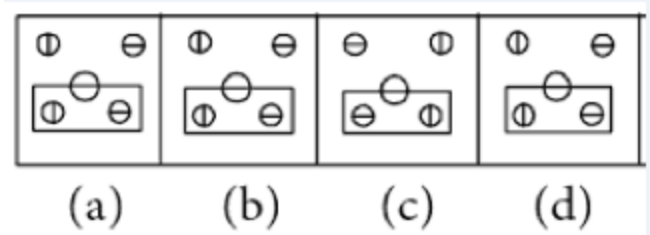
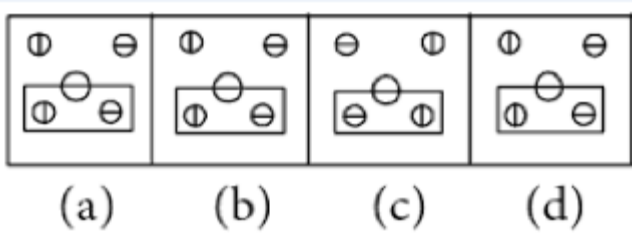
- A) 11
 B) 7
 C) 9
 D) Cannot be determined

23) एक पशुपालन खेत में, बकरी और बतख की एक निश्चित संख्या है, जहां पैर की कुल संख्या, सिर की संख्या के दोगुने से 18 अधिक है। वहाँ कितने बतख थे?

- A) 11
 B) 7
 C) 9
 D) निर्धारित नहीं किया जा सकता है

-
- | | |
|---|--|
| <p>24) From the word DESTROY, the alphabet that comes first in dictionary is taken out and moved to left, if it is NOT already in the left. Then, this process is repeated for remaining alphabets, and so on. After how many steps, the word will have its letters in dictionary order?</p> <p>A) 4
B) 2
C) 3
D) 7</p> | <p>24) DESTROY शब्द से, वर्णमाला में शब्दकोश में पहले जो आता है उसे बाहर ले जाया जाता है और बाईं ओर स्थानांतरित किया जाता है, यदि वह पहले से ही बाएं में नहीं है। फिर, इसी तरह इस प्रक्रिया को शेष वर्णों के लिए दोहराया जाता है। कितने क्रमों के बाद उस शब्द का अक्षर शब्दकोष क्रम के अनुसार होगा?</p> <p>A) 4
B) 2
C) 3
D) 7</p> |
| <hr/> | |
| <p>25) The 1st missing term in the series ____, 175, 25, 9, 108, 12, 7, 133, 19, 12, 72, 6 is</p> <p>A) 11
B) 7
C) 9
D) 5</p> | <p>25) श्रृंखला में पहली अनुपस्थित संख्या है ____, 175, 25, 9, 108, 12, 7, 133, 19, 12, 72, 6</p> <p>A) 11
B) 7
C) 9
D) 5</p> |
| <hr/> | |
| <p>26) Among the given triads of terms, identify the terms in which triad are similar to each other?</p> <p>A) AMU, BOY and DOT
B) LOT, HAT and FUR
C) TEA, ROD and WIN
D) GIN, MAT and WIT</p> | <p>26) दिए गए तीन पदों में से, उन शब्दों की पहचान करें जिसमें तीनों एक दूसरे के समान हैं?</p> <p>A) AMU, BOY और DOT
B) LOT, HAT और FUR
C) TEA, ROD और WIN
D) GIN, MAT और WIT</p> |
| <hr/> | |
| <p>27) If a five-digit number P is divided by 100, then the remainder left is 37. What will be the last digit of (P^{29})?</p> <p>A) 9
B) 7
C) 5
D) 3</p> | <p>27) यदि पांच अंक संख्या P को 100 से विभाजित किया जाता है, तो बाकी शेष 37 है। (P^{29}) का अंतिम अंक क्या होगा?</p> <p>A) 9
B) 7
C) 5
D) 3</p> |
-

28) Which picture is different from the other pictures in the following figure? 28) चित्र में कौन सी आकृति अन्य आकृतियों से भिन्न है?



- A) c
B) b
C) d
D) a

- A) c
B) b
C) d
D) a

29) Below four different alphanumerical sequences are given. Three of them follow the same pattern as: GH56. Identify the one sequence that does NOT follow this pattern.

- A) YZ650
B) JK110
C) BC8
D) MN182

29) नीचे चार अलग-अलग अक्षरांकीय क्रम दिए गए हैं। उनमें से तीन GH56 के जैसे समान पैटर्न का अनुसरण करते हैं। उस अनुक्रम की पहचान करें जो इस पैटर्न का पालन नहीं करता है?

- A) YZ650
B) JK110
C) BC8
D) MN182

30) You are given a pair of statements.

- A) This is the month of June.
B) First day of this month was Sunday.

Which of the following questions can be answered by using the given statements?

- A) What was the first day of this year?
B) What date is today?
C) What will be the last day of this month?
D) Is this a leap year?

30) आपको कथनों की एक जोड़ी दी गई है।

A) यह जून का महीना है।

B) इस महीने का पहला दिन रविवार था।

दिए गए कथनों का उपयोग करके निम्न में से किस सवाल का उत्तर दिया जा सकता है?

- A) इस साल का पहला दिन क्या था?
B) आज क्या तारीख है?
C) इस महीने का अंतिम दिन क्या होगा?
D) क्या यह एक लीप वर्ष (अधि वर्ष) है?

31) You are given a statement.

A) P is a four-digit perfect cube.

Which of the following questions can be answered by using the given statement?

A) Is $P = 8000$?

B) Is P a perfect square?

C) Is cube root of P less than 22?

D) Is $P = 4096$?

31) आपको एक कथन दिया गया है।

A) P चार अंकों वाला का शुद्ध घन है।

दिए गए कथनों का उपयोग करके निम्न में से किस सवाल का उत्तर दिया जा सकता है?

A) क्या $P = 8000$?

B) क्या P एक शुद्ध वर्ग है?

C) क्या P का घनमूल 22 से कम है?

D) क्या $P = 4096$?

32) Given are some sentences that look similar and provide some information.

A. $P > Q$

B. $Q < P$

C. $P \geq Q$

Identify and answer which of them provide equivalent information?

A) A and B

B) B and C

C) All provide different information

D) C and A

32) समान दिखने वाले कुछ वाक्य दिए गए हैं जो कुछ जानकारी प्रदान करते हैं।

A. $P > Q$

B. $Q < P$

C. $P \geq Q$

पहचानें और बताएं कि उनमें से कौन सा समकक्ष जानकारी प्रदान करता है।

A) A और B

B) B और C

C) सभी अलग-अलग जानकारी प्रदान करते हैं

D) C और A

33) What is the decoded string of 879341 from the following figure?

Digit	7	2	1	5	3	9	8	6	4
Letter	W	L	M	S	I	N	D	J	B

A) DWNBIM

B) NDWBIM

C) DWNIBM

D) DWNIBS

33) निम्न चित्र से 879341 का कूटानुवादित श्रृंखला क्या होगा?

Digit	7	2	1	5	3	9	8	6	4
Letter	W	L	M	S	I	N	D	J	B

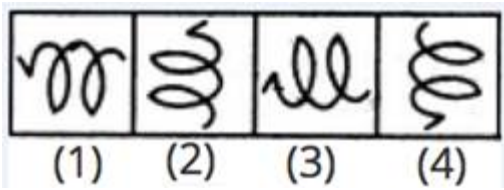
A) DWNBIM

B) NDWBIM

C) DWNIBM

D) DWNIBS

34) Which picture is different from the other pictures in the following figure?



- A) 2
- B) 3
- C) 1
- D) 4



- A) 2
- B) 3
- C) 1
- D) 4

35) You are given a statement.

A) Today is NOT Monday.

Which of the following questions can be answered by using the given statement?

- A) Is it a Wednesday tomorrow?
- B) Is it a Tuesday tomorrow?
- C) Was it a Saturday yesterday?
- D) Was it a Friday yesterday?

35) आपको एक कथन दिया गया है।

A) आज सोमवार नहीं है।

दिए गए कथन का उपयोग करके निम्न में से कौन से सवाल का उत्तर दिया जा सकता है?

- A) क्या कल बुधवार है?
- B) क्या कल मंगलवार है?
- C) क्या कल शनिवार था?
- D) क्या कल शुक्रवार था?

36) In a family of six persons, P, Q, R, S, T and U, there are two married couples where S is the grandmother of P and mother of Q. R is the wife of Q and mother of U while U is the granddaughter of T. Which one of the following relationships is definitely TRUE?

- A) P is the brother of U
- B) P is the sister of U
- C) S has two grand children
- D) Q has two sons

36) एक परिवार में छः सदस्य P, Q, R, S, T और U हैं। दो विवाहित जोड़े हैं जहाँ S P की दादी और Q की माँ है। R Q की पत्नी और U की माँ है जबकि U T की पोती है। निम्न रिश्तों में से कौन सा निश्चित रूप से सही है?

- A) P U का भाई है
- B) P U की बहन है
- C) S के दो नवासा-नवासी/पोता-पोती हैं
- D) Q के दो बेटे हैं

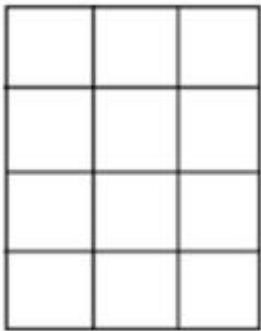
37) Identify the odd one out that does NOT satisfy the property: 37) उस अकेले विषम को पहचाने जो इस गुण को पूरा नहीं करता है: अक्षरों की स्थानों का योग एक तीन अंकों की संख्या है।

Sum of positions of letters is a three-digit number

- A) STREAKISH
- B) STATIONARY
- C) STYLISH
- D) LIGHTS

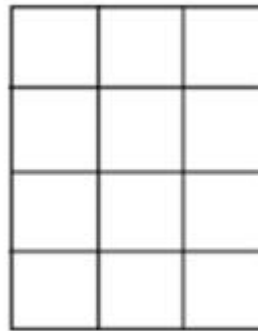
- A) STREAKISH
- B) STATIONARY
- C) STYLISH
- D) LIGHTS

38) How many squares are there in the given figure?



- A) 20
- B) 40
- C) 30
- D) 15

38) दिए गए चित्र में कितने वर्ग हैं?



- A) 20
- B) 40
- C) 30
- D) 15

39) To appear in an exam P, at least three out of these four conditions are to be satisfied:

- 1) At least 60% marks in 10th,
- 2) At least 55% marks in 12th,
- 3) Age more than 18 years,
- 4) Weight more than 60 kgs.

To appear in exam Q, at least two out of these four conditions are to be satisfied:

- 1) At least 70% marks in 10th
- 2) At least 50% marks in 12th
- 3) Age more than 17 years
- 4) Weight more than 50 kgs.

Sarang has 75% marks in 10th, 64% marks in 12th, is 22 years of age, and a weight of 67 kgs. For which of these exams is he eligible?

- A) Only Q
- B) Both P and Q
- C) Only P
- D) Neither P nor Q

39) एक परीक्षा P में उपस्थित होने के लिए, इन चार शर्तों में से कम से कम तीन संतुष्ट होने चाहिए:

- 1) 10 वीं में कम से कम 60% अंक,
- 2) 12 वीं में कम से कम 55% अंक,
- 3) आयु 18 वर्ष से अधिक,
- 4) वजन 60 किलो से अधिक।

परीक्षा Q में उपस्थित होने के लिए, इन चार शर्तों में से कम से कम दो आवश्यक हैं:

- 1) 10 वीं में कम से कम 70% अंक,
- 2) 12 वीं में कम से कम 50% अंक,
- 3) आयु 17 वर्ष से अधिक
- 4) वजन 50 किलो से अधिक।

सारंग की 10 वीं में 75% अंक हैं, 12 वीं में 64% अंक हैं, 22 वर्ष की उम्र और 67 किलो वजन है। इनमें से किस परीक्षा के लिए वह योग्य है?

- A) केवल Q
- B) P और Q दोनों
- C) केवल P
- D) न तो P और न ही Q

40) What can be the coded form of the string COLD from figure 1 and figure 2?

Figure 1:

	0	1	2	3	4
0	D	K	A	E	C
1	C	D	K	A	E
2	K	C	E	A	D
3	K	C	D	E	A
4	E	D	A	K	C

Figure 2:

	5	6	7	8	9
5	P	L	O	T	N
6	T	P	N	L	O
7	P	N	T	O	L
8	O	N	T	P	L
9	L	O	P	N	T

40) चित्र 1 और चित्र 2 से श्रृंखला COLD का कूट बद्ध किया हुआ रूप क्या हो सकता है?

चित्र 1:

	0	1	2	3	4
0	D	K	A	E	C
1	C	D	K	A	E
2	K	C	E	A	D
3	K	C	D	E	A
4	E	D	A	K	C

चित्र 2:

	5	6	7	8	9
5	P	L	O	T	N
6	T	P	N	L	O
7	P	N	T	O	L
8	O	N	T	P	L
9	L	O	P	N	T

- A) 31, 99, 77, 22
- B) 30, 66, 86, 43
- C) 10, 85, 79, 24
- D) 44, 96, 95, 22

- A) 31, 99, 77, 22
- B) 30, 66, 86, 43
- C) 10, 85, 79, 24
- D) 44, 96, 95, 22

41) Mr. Datta used 40 percent of his savings to procure furniture while 20 percent of the remaining fund was given to his wife. The half of the remaining sum was spent while the remaining amount of Rs.18,000 was deposited in the bank. How much money did Mr. Datta have initially?

- A) Rs.200,000
- B) Rs.150,000
- C) Rs.250,000
- D) Rs.75,000

41) श्री दत्ता ने अपनी बचत का 40 प्रतिशत हिस्सा फर्नीचर खरीदने के लिए जबकि शेष राशि का 20 प्रतिशत अपनी पत्नी को दिया था। शेष राशि का आधा खर्च किया गया था, जबकि Rs.18,000 की शेष राशि बैंक में जमा की गई थी। श्री दत्ता के पास शुरू में कितने पैसे थे?

- A) Rs.200,000
- B) Rs.150,000
- C) Rs.250,000
- D) Rs.75,000

42) P speaks truth in 60 percent of the cases while Q speaks truth in 70 percent of cases. In what percentage of cases, are they likely to contradict each other?

- A) 46 percent
- B) 54 percent
- C) 30 percent
- D) 40 percent

42) P 60 प्रतिशत मामलों में सच बोलता है, जबकि Q 70 प्रतिशत मामलों में सच बोलता है। कितने प्रतिशत मामलों में, वे एक-दूसरे के विरोध में होने की संभावना रखते हैं?

- A) 46 प्रतिशत
- B) 54 प्रतिशत
- C) 30 प्रतिशत
- D) 40 प्रतिशत

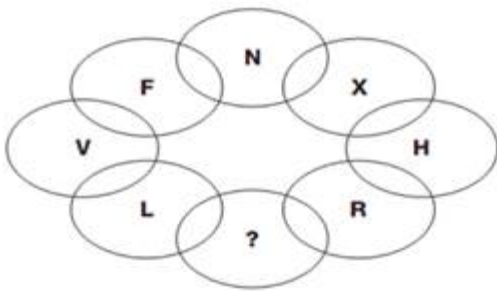
43) T is the son of P, S is the son of Q, T got married to R who is the daughter of Q. How is S related to T?

- A) Brother-in-law
- B) Brother
- C) Paternal Uncle
- D) Father-in-law

43) T P का बेटा है, S Q का बेटा है, T ने R से शादी की है जो Q की बेटी है। S T का क्या लगता है?

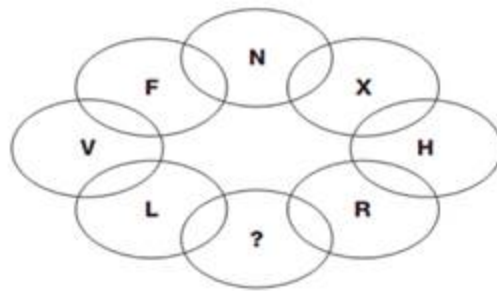
- A) साला
- B) भाई
- C) चाचा
- D) ससुर

44) Find the missing letter in the given figure.



- A) X
- B) K
- C) H
- D) B

44) दिए गए चित्र में अनुपस्थित अक्षर हूँगे।



- A) X
- B) K
- C) H
- D) B

45) P is the brother of Q, R is the father of P, S is the brother of T and T is the daughter of Q. Who is the uncle of S?

- A) P
- B) Q
- C) T
- D) R

45) P Q का भाई है, R P का पिता है, S T का भाई है और T Q की बेटी है। S का चाचा कौन है?

- A) P
- B) Q
- C) T
- D) R

46) If ADVISOR is coded as DGYLVURU then RELATION is written as

- A) DKPXWLKD
- B) UHODWLRQ
- C) MHRDWLRR
- D) WNDOTSUI

46) यदि ADVISOR को DGYLVURU के रूप में कूट बद्ध किया गया है तो RELATION को कैसे लिखा जाएगा?

- A) DKPXWLKD
- B) UHODWLRQ
- C) MHRDWLRR
- D) WNDOTSUI

47) What can be the coded form of the string FANOIFOONO from the following figure?

MATRIX 1

	0	1	2	3	4
0	F	A	N	O	I
1	I	O	F	A	N
2	A	N	O	I	F
3	O	F	I	N	A
4	N	I	A	F	O

- A) 2234000604
B) 345123400
C) 123444565
D) 123401234

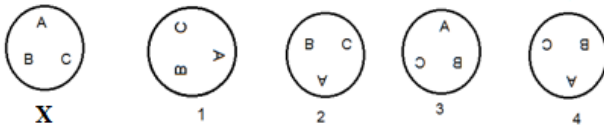
47) निम्न चित्र से श्रृंखला FANOIFOONO का कूट बद्ध किया हुआ रूप क्या हो सकता है?

MATRIX 1

	0	1	2	3	4
0	F	A	N	O	I
1	I	O	F	A	N
2	A	N	O	I	F
3	O	F	I	N	A
4	N	I	A	F	O

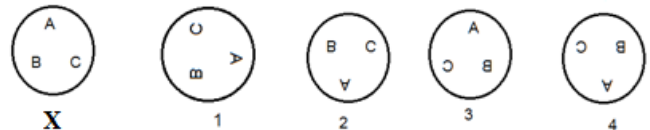
- A) 2234000604
B) 345123400
C) 123444565
D) 123401234

48) Which of the images amongst 1, 2, 3 and 4 is the correct water image of the following figure X?



- A) Image 2
B) Image 4
C) Image 3
D) Image 1

48) निम्न चित्र X के लिए दिये गये 1, 2, 3 और 4 प्रतिबिम्बों में से कौन सा सही जल प्रतिबिम्ब है?



- A) प्रतिबिम्ब 2
B) प्रतिबिम्ब 4
C) प्रतिबिम्ब 3
D) प्रतिबिम्ब 1

49) Select one of the following four options that will make the second pair analogous to the first pair given as:

Dispassionate : Fervid :: Uneducated : _____ .

- A) Naïve
B) Ignorant
C) Arrogant
D) Erudite

49) निम्नलिखित चार विकल्पों में से एक का चयन करें जो दूसरी जोड़ी को पहली जोड़ी के अनुरूप बना देगा:

आवेगहीन: आवेशपूर्ण :: अशिक्षित: _____

- A) निष्कपट
B) अबोध
C) अभिमानी
D) विद्वत्तापूर्ण

50) Select one of the following four options that will make the second pair analogous to the first pair given as:

Firm : Powerful :: Feeble : _____ .

- A) Potent
- B) Blunt
- C) Frail
- D) Solid

50) निम्नलिखित चार विकल्पों में से एक का चयन करें जो दूसरी जोड़ी को पहली जोड़ी के अनुरूप बना देगा:

दृढ़ : शक्तिशाली :: कमज़ोर : _____

- A) प्रबल
- B) कुंठित
- C) निर्बल
- D) ठोस

51) A triangle is formed by natural numbers from 1 to 21. First row has 1st number, 2nd row has next two numbers and so on. Which number represents the intersection of 4th row and 4th slant column from the left end?

- A) 9
- B) 19
- C) 10
- D) 11

51) एक त्रिकोण को 1 से 21 तक की प्राकृतिक संख्या लेकर बनाया गया है। पहली पंक्ति में पहली संख्या है, दूसरी पंक्ति में अगली दो संख्या हैं और इसी तरह क्रमशः आगे है। कौन सी संख्या बाएं छोर से चौथी पंक्ति और चौथे तिरछे स्तंभ के प्रतिच्छेदन को दर्शाती है?

- A) 9
- B) 19
- C) 10
- D) 11

52) The missing term in the series 9, 30, 105, _____, 2195, 13182 is

- A) 324
- B) 436
- C) 258
- D) 378

52) श्रृंखला 9, 30, 105, _____, 2195, 13182 में अनुपस्थित संख्या है

- A) 324
- B) 436
- C) 258
- D) 378

53) Two dices are rolled on the floor. The numbers appeared on the top faces are added. What is the probability that the sum is a prime number?

- A) 5/12
- B) 3/8
- C) 4/29
- D) 1/3

53) दो पासों को फर्श पर लुढ़काया जाता है। ऊपरी भाग पर दिखाई देने वाले नंबर जोड़े जाते हैं। योग एक अभाज्य संख्या है, इसकी संभावना क्या है?

- A) 5/12
- B) 3/8
- C) 4/29
- D) 1/3

54) Find the odd one out.

- A) Triumph
- B) Defeat
- C) Success
- D) Subservience

54) विषम पद को खोजें।

- A) विजय
- B) हार
- C) सफलता
- D) चापलूसी

55) If 3 coins are rolled at a time, then how many possibilities are available for getting 2 heads and 1 tail?

- A) 3
- B) 1
- C) 4
- D) 6

55) यदि 3 सिक्के एक साथ लुढ़काए जाते हैं, तो 2 हेड और 1 टेल मिलने की कितनी संभावनाएं हैं?

- A) 3
- B) 1
- C) 4
- D) 6

56) Select one of the following four options that will make the second pair analogous to the first pair given as:

Man : Uncle :: Woman : _____ .

- A) Neighbour
- B) Brother-in-law
- C) Sister-in-law
- D) Nephew

56) निम्नलिखित चार विकल्पों में से एक का चयन करें जो दूसरी जोड़ी को पहली जोड़ी के अनुरूप बना देगा:

पुरुष : अंकल :: महिला: _____

- A) पड़ोसी
- B) देवर
- C) ननद
- D) भतीजा

57) A set of statements is given.

- A) Radha always lies.
- B) Hari always speaks truth.

Which of the given set of statements should be used to decide the solution to problem: What will be the answer if Radha is asked, "Will you lie while giving the answer to this question"?

- A) Only B
- B) Not possible to decide even with both A and B
- C) Both A and B together
- D) Only A

57) कथनों का एक समूह दिया गया है।

- A) राधा हमेशा झूठ बोलती हैं।
- B) हरि हमेशा सच बोलता है।

अगर राधा से पूछा जाए तो इसका उत्तर क्या होगा, "इस सवाल का जवाब देते समय क्या तुम झूठ बोलोगी?" : इस समस्या का समाधान करने के लिए निर्धारित कथनों में से किसका प्रयोग किया जाना चाहिए?

- A) केवल B
- B) A और B दोनों के साथ भी तय करना संभव नहीं है
- C) A और B दोनों
- D) केवल A

58) The next term in the series 2, 7, 14, 23, 34, ____ is

- A) 46
- B) 56
- C) 47
- D) 53

58) श्रृंखला 2, 7, 14, 23, 34, ____ में अगली संख्या है

- A) 46
- B) 56
- C) 47
- D) 53

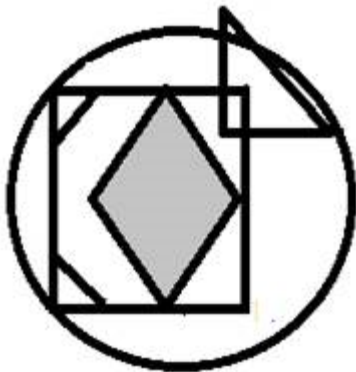
59) Find the odd one out.

- A) 484
- B) 117128
- C) 262
- D) 10648

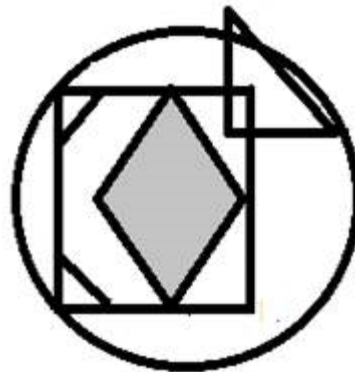
59) विषम पद को खोजें।

- A) 484
- B) 117128
- C) 262
- D) 10648

60) How many triangles are there in the following figure? 60) निम्नलिखित चित्र में कितने त्रिकोण हैं?



- A) 5
- B) 4
- C) 6
- D) 3



- A) 5
- B) 4
- C) 6
- D) 3

Section 2 - Part B-General Awareness

-
- | | |
|--|---|
| <p>61) When and where did India play its first ever one day international cricket match?</p> <p>A) Taunton, 1942</p> <p>B) Oval, 1956</p> <p>C) Headingley, 1974</p> <p>D) Lords, 1968</p> | <p>61) कब और कहाँ भारत ने अपना पहला एक दिवसीय अंतरराष्ट्रीय मैच खेला था?</p> <p>A) टाउनटन, 1942</p> <p>B) ओवल, 1956</p> <p>C) हेडिंग्ले, 1974</p> <p>D) लॉर्ड्स, 1968</p> |
|--|---|
-
- | | |
|--|--|
| <p>62) The minimum age of a candidate for election to the post of Governor of any State in India is:</p> <p>A) 25 years</p> <p>B) 30 years</p> <p>C) 40 years</p> <p>D) 35 years</p> | <p>62) भारत में किसी भी राज्य के राज्यपाल के पद के चुनाव के लिए उम्मीदवार की न्यूनतम आयु है:</p> <p>A) 25 वर्ष</p> <p>B) 30 वर्ष</p> <p>C) 40 वर्ष</p> <p>D) 35 वर्ष</p> |
|--|--|
-
- | | |
|--|---|
| <p>63) ASTRO-H space observation satellite has been launched by which of the following space organizations in the world?</p> <p>A) National Aeronautics and Space Administration</p> <p>B) Indian Space Research Organization</p> <p>C) Japan Aerospace Exploration Agency</p> <p>D) European Space Agency</p> | <p>63) ASTRO - H अंतरिक्ष पर्यवेक्षक उपग्रह को दुनिया के किस अंतरिक्ष संगठन द्वारा प्रक्षेपित किया गया है?</p> <p>A) नैशनल एरोनॉटिक्स एंड स्पेस एडमिनिस्ट्रेशन</p> <p>B) भारतीय अंतरिक्ष अनुसंधान संगठन</p> <p>C) जापानी वान्तारिक्ष अन्वेषण अभिकरण</p> <p>D) यूरोपीय अंतरिक्ष अभिकरण</p> |
|--|---|
-
- | | |
|---|--|
| <p>64) Soaps are made from fats and oils, or their fatty acids, by treating them chemically with a strong alkali. Which of the following is the commonly used alkali?</p> <p>A) Aspartame</p> <p>B) Baking soda</p> <p>C) Sodium caseinate</p> <p>D) Caustic soda</p> | <p>64) साबुन वसा और तेल और उसके फैटी एसिड से बने होते हैं, जिसे कृत्रिम रूप से मजबूत क्षार के साथ शोधन करते हैं। निम्न में से कौन सा आमतौर पर इस्तेमाल होनेवाला क्षार है?</p> <p>A) एस्पार्टेम</p> <p>B) बेकिंग सोडा</p> <p>C) सोडियम कैसिनेट</p> <p>D) कास्टिक सोडा</p> |
|---|--|
-

65) The condition for occurrence of Spring Tides:

- A) The Sun is between the Earth and the Moon
- B) The Moon, the Earth and the Sun are not in the same alignment
- C) The Moon, the Earth and the Sun are in the same alignment, and the Moon is directly between the Earth and the Sun
- D) The Moon, the Sun and the Earth make right angles with each other at the apex

65) स्प्रिंग टाइड्स की घटना की स्थिति:

- A) सूर्य, पृथ्वी और चंद्रमा के बीच है
- B) चंद्रमा, पृथ्वी और सूर्य समान संरेखण में नहीं हैं
- C) चंद्रमा, पृथ्वी और सूर्य एक ही संरेखण में हैं, और चंद्रमा सीधे पृथ्वी और सूर्य के बीच है
- D) चंद्रमा, सूर्य और पृथ्वी सर्वोच्च पर एक दूसरे के साथ सही कोण बनाते हैं

66) DBT is associated with the subsidy system in India. What is the full form of DBT?

- A) Direct Benefit Transfer
- B) Digital Banking Transaction
- C) Direct Benefit Transport
- D) Digital Banking Transfer

66) DBT भारत में सब्सिडी प्रणाली के साथ जुड़ा हुआ है। DBT का पूरा रूप है

- A) डायरेक्ट बेनिफिट ट्रांसफर
- B) डिजिटल बैंकिंग ट्रांसैक्शन
- C) डायरेक्ट बेनिफिट ट्रांसपोर्ट
- D) डिजिटल बैंकिंग ट्रांसफर

67) Identify the written document among the following that defines the functioning of the Indian Government.

- A) The Constitution of India
- B) National Anthem of India
- C) The Indian Contract Act, 1872
- D) Memorandum of Association

67) निम्नलिखित में, लिखित दस्तावेज को पहचानें जो कि भारत सरकार के कार्य पद्धति को परिभाषित करता है।

- A) भारत का संविधान
- B) भारत का राष्ट्रगान
- C) भारतीय अनुबंध अधिनियम, 1872
- D) मेमोरंडम ऑफ असोसिएशन

68) The legal basis for the order demonetizing currency can be found in which of the following sections of the Reserve Bank of India Act, 1934?

- A) Section 26
- B) Section 12
- C) Section 45
- D) Section 90

68) डिमॉनेटाइज़िंग करेंसी के लिए कानूनी आधार रिजर्व बैंक ऑफ इंडिया अधिनियम, 1934 के निम्न अनुभाग में से किस में मिल सकता है?

- A) अनुभाग 26
- B) अनुभाग 12
- C) अनुभाग 45
- D) अनुभाग 90

69) As a result of the partition under the Mountbatten Plan of 3rd June 1947, the membership of the Constituent Assembly was reduced to

- A) 490 members
- B) 255 members
- C) 299 members
- D) 387 members

69) 3 जून, 1947 की माउन्टबेटन योजना के तहत विभाजन के परिणामस्वरूप, संविधान सभा की सदस्यता कितने सदस्यों से कम हो गई थी?

- A) 490 सदस्य
- B) 255 सदस्य
- C) 299 सदस्य
- D) 387 सदस्य

70) Which of the following is a traditional musical instrument played in Kalbelia dance?

- A) Thavil
- B) Mandolin
- C) Poongi
- D) Kuzhal

70) इनमें से कौन सा एक पारंपरिक संगीत वाद्ययंत्र है जो कल्बेलिया नृत्य में बजाया जाता है?

- A) थाविल
- B) मैन्डोलिन
- C) पुंगी
- D) कुलल

71) What is the length of the Godavari river?

- A) 1950 km
- B) 2265 km
- C) 1465 km
- D) 1250 km

71) गोदावरी नदी की कुल लम्बाई कितनी है?

- A) 1950 km
- B) 2265 km
- C) 1465 km
- D) 1250 km

72) When did India win its first Olympic hockey gold?

- A) 1928
- B) 1932
- C) 1900
- D) 1936

72) भारत ने अपना पहला ओलंपिक हॉकी स्वर्ण पदक कब हासिल किया था?

- A) 1928
- B) 1932
- C) 1900
- D) 1936

-
- | | |
|--|---|
| <p>73) MMID is a seven-digit unique number issued by the banks for financial transactions in India. What does MMID stand for?</p> <p>A) Meritorious Money Interface</p> <p>B) Mobile Money Identifier</p> <p>C) Meticulous Money Identifier</p> <p>D) Mobile Money Interface</p> | <p>73) MMID भारत में वित्तीय लेनदेन के लिए बैंकों द्वारा जारी सात अंकों की अनूठी संख्या है। MMID का मतलब क्या है?</p> <p>A) मेरिटोरियस मनी इंटरफ़ेस</p> <p>B) मोबाइल मनी आइडेंटिफायर</p> <p>C) मेटिक्युलस मनी आइडेंटिफायर</p> <p>D) मोबाइल मनी इंटरफ़ेस</p> |
|--|---|
-
- | | |
|--|--|
| <p>74) Which of the following are the financial institutions providing banking services without meeting the legal definition of a bank or without holding a banking license?</p> <p>A) DEPB</p> <p>B) NDTL</p> <p>C) NBFC</p> <p>D) FIPB</p> | <p>74) बैंक की कानूनी परिभाषा को पूरा किए बिना या बैंकिंग लाइसेंस के बिना बैंकिंग सेवाएं प्रदान करने वाली इनमें से कौन सी वित्तीय संस्थान हैं?</p> <p>A) DEPB</p> <p>B) NDTL</p> <p>C) NBFC</p> <p>D) FIPB</p> |
|--|--|
-
- | | |
|---|--|
| <p>75) Where was the brahmin sepoy Mangal Pandey posted who refused to use the greased cartridges?</p> <p>A) Barrackpore</p> <p>B) Jhansi</p> <p>C) Meerut</p> <p>D) Kanpur</p> | <p>75) ब्राह्मण सेपाय मंगल पांडे का स्थानांतरण कहा किया गया था, जिन्होंने वसा युक्त कारतूस का इस्तेमाल करने से इंकार कर दिया था?</p> <p>A) बैरकपुर</p> <p>B) झांसी</p> <p>C) मीरट</p> <p>D) कानपुर</p> |
|---|--|
-
- | | |
|--|--|
| <p>76) In July 2017, the Government of Maharashtra has launched which of the following mobile applications that will help in recording data about tree plantations in the state?</p> <p>A) My Plant</p> <p>B) One with Nature</p> <p>C) Mahaforest</p> <p>D) Edu Plant</p> | <p>76) जुलाई 2017 में, महाराष्ट्र सरकार ने निम्नलिखित में से किस मोबाइल एप्लीकेशन का प्रक्षेपण किया है जो राज्य में वृक्षारोपण के बारे में आंकड़ों को अंकित करने में मदद करेगा?</p> <p>A) माई प्लांट</p> <p>B) वन विथ नेचर</p> <p>C) महाफॉरेस्ट</p> <p>D) एडु प्लांट</p> |
|--|--|
-

77) Three Carnatic wars were fought between two foreign powers to gain supremacy over Indian politics. Who were they?

- A) Britain and Dutch
- B) Britain and Portuguese
- C) Britain and French
- D) Britain and Sweden

77) भारतीय राजनीति पर सर्वोच्च स्तर हासिल करने के लिए तीन कर्नाटक युद्धों को दो विदेशी शक्तियों के बीच लड़ा गया था। वह कौन थे?

- A) ब्रिटेन और डच
- B) ब्रिटेन और पुर्तगाली
- C) ब्रिटेन और फ्रेंच
- D) ब्रिटेन और स्वीडन

78) Which of the following is NOT an English news channel in India?

- A) Republic TV
- B) ABP News
- C) Times Now
- D) Headlines Today

78) इनमें से कौन भारत का एक अंग्रेजी समाचार चैनल नहीं है?

- A) रिपब्लिक TV
- B) ABP न्यूज़
- C) टाइम्स नाउ
- D) हेडलाइंस टुडे

79) Which of the following is one of the Federal characteristics of the Indian Constitution?

- A) Emergency provisions which make the system virtually unitary during emergencies
- B) Appointment of Governors of States by the Union
- C) Integrated judicial system
- D) The Upper House of the parliament, represents the States of the Union

79) इनमें से कौन सा भारतीय संविधान का संघीय विशेषताओं में से एक है?

- A) आपातकालीन प्रावधान जो कि आपातकाल के दौरान प्रणाली को वास्तव में एकात्मक बनाते हैं
- B) केंद्र द्वारा राज्यों के गवर्नर्स की नियुक्ति
- C) एकीकृत न्यायिक प्रणाली
- D) संसद के ऊपरी प्रतिनिधि सभा, केंद्र के राज्यों का प्रतिनिधित्व करता है

80) In August 2016, India's first touch-and-feel garden for visually impaired people was inaugurated at which of the following places?

- A) Vidhan Bhawan at Amravati
- B) Savitribai Phule University at Pune
- C) Calicut University Campus
- D) Infosys Campus at Mysuru

80) अगस्त 2016 में, नेत्रहीन लोगों के लिए भारत का पहला टच-एंड-फील गार्डन का उद्घाटन निम्न में से किस स्थान पर हुआ था?

- A) अमरावती में विधान भवन
- B) पुणे में सावित्रीबाई फुले विश्वविद्यालय
- C) कालीकट विश्वविद्यालय परिसर
- D) मैसूरु में इन्फोसिस परिसर

81) In general, Hindu scriptures may be classified into how many major divisions?

- A) 3
- B) 5
- C) 7
- D) 2

81) सामान्यतः, हिंदू शास्त्रों को कितने प्रमुख प्रभागों में वर्गीकृत किया जा सकता है?

- A) 3
- B) 5
- C) 7
- D) 2

82) In February 2018, the National Women's Parliament (NWP) was organised in which of the following states on India?

- A) Gujarat
- B) Madhya Pradesh
- C) Andhra Pradesh
- D) Kerala

82) फरवरी 2018 में, भारत के निम्नलिखित में से किस राज्य में राष्ट्रीय महिला संसद (एनडब्ल्यूपी) का आयोजन किया गया था?

- A) गुजरात
- B) मध्य प्रदेश
- C) आंध्र प्रदेश
- D) केरल

83) Who hosted the 2017 CONCACAF U-17 Championship?

- A) Panama
- B) Brazil
- C) India
- D) Russia

83) 2017 CONCACAF U-17 चैंपियनशिप की मेजबानी किसने की थी?

- A) पनामा
- B) ब्राज़िल
- C) भारत
- D) रूस

84) Which of the following is NOT a public sector undertaking company wholly or partly owned by the Government of India?

- A) HPCL
- B) GAIL
- C) BPCL
- D) Adani Group

84) इनमें से कौन सी सार्वजनिक क्षेत्र की उपक्रम कंपनी पूरी तरह या आंशिक रूप से भारत सरकार के द्वारा स्वाधिकृत नहीं है?

- A) HPCL
- B) GAIL
- C) BPCL
- D) Adani Group

85) Which among the following states does NOT share its border with Tamil Nadu?

- A) Andhra Pradesh
- B) Karnataka
- C) Odisha
- D) Kerala

85) निम्नलिखित राज्यों में से कौन तमिलनाडु से सीमा रेखा साझा नहीं करता है?

- A) आंध्र प्रदेश
- B) कर्नाटक
- C) ओडिशा
- D) केरल

86) The symbol of an elephant depicts which of the following Indian political parties?

- A) Lok Jan Shakti Party
- B) Bahujan Samaj Party
- C) Samajwadi Party
- D) Biju Janata Dal

86) हाथी का प्रतीक निम्नलिखित भारतीय राजनीतिक दलों में से किसे दर्शाता है?

- A) लोक जन शक्ति पार्टी
- B) बहुजन समाज पार्टी
- C) समाजवादी पार्टी
- D) बीजू जनता दल

87) Southern India is separated from the northern plane by

- A) Satpura Hills
- B) Himalayan Mountains
- C) Vindhyachal Hills
- D) Nilgiri Mountains

87) दक्षिणी भारत उत्तरी समतल से किन से विभाजित है?

- A) सतपुरा पहाड़ी
- B) हिमालय पर्वत
- C) विंध्याचल पहाड़ी
- D) नीलगिरि पर्वत

88) Who among the following founded the Arya Samaj?

- A) Swami Dayananda Saraswati
- B) Ishwar Chandra Vidyasagar
- C) Swami Vivekananda
- D) Ramkrishna Paramahansa

88) निम्नलिखित में से किसने आर्य समाज की स्थापना की?

- A) स्वामी दयानंद सरस्वती
- B) ईश्वर चंद्र विद्यासागर
- C) स्वामी विवेकानंद
- D) रामकृष्ण परमहंस

89) Which among the following is the correct term for 'a tract of land lying between two confluent rivers'?

- A) Dimtar
- B) Doab
- C) Convergence
- D) Satvik

89) 'दो नदियों के बीच की विस्तृत भूमि क्षेत्र' के लिए निम्नलिखित में से कौन सा सही शब्द है?

- A) दिमतार
- B) दोआब
- C) कन्वर्जेंस
- D) सात्विक

90) Whose policies were regarded as 'Political Mendicancy'?

- A) Policies of Revolutionaries
- B) Policies of Extremists
- C) Policies of Moderates
- D) Policies of British

90) किसकी नीतियों को 'राजनीतिक दरिद्रता' माना जाता है?

- A) क्रांतिकारियों की नीतियाँ
- B) चरमपंथियों की नीतियाँ
- C) नरमपंथियों की नीतियाँ
- D) अंग्रेजों की नीतियाँ

91) In which year was the Civil Disobedience Movement started?

- A) 1925
- B) 1920
- C) 1922
- D) 1930

91) किस वर्ष में सविनय अवज्ञा आंदोलन शुरू हुआ था?

- A) 1925
- B) 1920
- C) 1922
- D) 1930

92) How many subjects are included in the Union List of the Indian Constitution?

- A) 47
- B) 67
- C) 97
- D) 77

92) भारतीय संविधान की संघ सूची में कितने विषय शामिल हैं?

- A) 47
- B) 67
- C) 97
- D) 77

93) What is the majority required for election of a member as the President of India?

- A) 50% of valid votes polled + 4
- B) 50% of valid votes polled +1
- C) 50% of valid votes polled + 3
- D) 50% of valid votes polled +2

93) भारत के राष्ट्रपति के रूप में किसी सदस्य के चुनाव के लिए बहुमत क्या है?

- A) वैध वोटों का 50% वोट +4
- B) वैध वोटों का 50% वोट +1
- C) वैध वोटों का 50% वोट +3
- D) वैध वोटों का 50% वोट +2

94) Who beat Leeds Rhinos for the third time in 2017 to win their first Betfred Super League title?

- A) Castleford Tigers
- B) Zak Hardaker
- C) Adam Cuthbertson
- D) Daryl Powell

94) किसने लीड्स राइनोस को 2017 में तीसरे बार हराकर अपना पहला बेटफ्रेड सुपर लीग खिताब जीता था?

- A) कैसलफोर्ड टाइगर्स
- B) ज़ाक हार्डकर
- C) एडम क्यूथबेर्सन
- D) डेरिल पॉवेल

-
- | | |
|--|--|
| <p>95) Malik Kafur was the commander-in-chief of which ruler?</p> <p>A) Mahmud Ghazni
B) Muhammad bin Tughluq
C) Muhammad Ghori
D) Alauddin Khilji</p> | <p>95) मलिक काफुर किस शासक के प्रधान सेनापति थे?</p> <p>A) महमूद गज़नी
B) मुहम्मद बिन तुगलक
C) मोहम्मद घोरी
D) अलाउद्दीन खिलजी</p> |
|--|--|
-
- | | |
|--|--|
| <p>96) Which of the following ideas in Indian Constitution is borrowed from 'American Constitution'?</p> <p>A) Division of powers between Central and State Governments
B) Single citizenship
C) Federal structure
D) Parliamentary form of government</p> | <p>96) भारतीय संविधान में निम्नलिखित में से कौन सा विचार 'अमेरिकी संविधान' से लिया गया है?</p> <p>A) केंद्र और राज्य सरकारों के बीच अधिकारों का विभाजन
B) एकल नागरिकता
C) संघीय संरचना
D) सरकार का संसदीय स्वरूप</p> |
|--|--|
-
- | | |
|--|--|
| <p>97) According to which of the following rights, untouchability is banned in India?</p> <p>A) Right to Equality
B) Right to Freedom
C) Right to Constitutional Remedies
D) Right to Work</p> | <p>97) निम्नलिखित में से किस अधिकार के अनुसार, भारत में अस्पृश्यता पर प्रतिबंध लगा दिया गया है?</p> <p>A) समानता का अधिकार
B) स्वतंत्रता का अधिकार
C) संवैधानिक उपचारों का अधिकार
D) काम का अधिकार</p> |
|--|--|
-
- | | |
|--|--|
| <p>98) Which of the following two institutions were merged together and it was the first merger deal in the commodity exchange space in India?</p> <p>A) National Multi-Commodity Exchange and Indian Commodity Exchange
B) National Multi-Stock & Commodity Exchange and Bombay Commodity Exchange
C) Delhi Multi-Commodity Exchange and National Commodity Exchange
D) Nifty Commodity Exchange and Indian Commodity & Gold Exchange</p> | <p>98) निम्नलिखित दो संस्थानों को एक साथ विलय किया गया था और यह भारत में कमोडिटी एक्सचेंज स्पेस में पहला विलय समझौता था?</p> <p>A) नैशनल मल्टी-कमोडिटी एक्सचेंज और इंडियन कमोडिटी एक्सचेंज
B) राष्ट्रीय मल्टी-स्टॉक एंड कमोडिटी एक्सचेंज और बॉम्बे कमोडिटी एक्सचेंज
C) दिल्ली मल्टी-कमोडिटी एक्सचेंज और नैशनल कमोडिटी एक्सचेंज
D) निफ्टी कमोडिटी एक्सचेंज और इंडियन कमोडिटी एंड गोल्ड एक्सचेंज</p> |
|--|--|
-

-
- | | |
|---|--|
| <p>99) Who among the following replaced The East India company by the Proclamation of 1858, soon after the Revolt of 1857?</p> <p>A) British Crown
B) Portuguese Crown
C) French Government
D) Dutch Government</p> | <p>99) 1857 के विद्रोह के तुरंत बाद, किसने 1858 की उद्घोषणा द्वारा ईस्ट इंडिया कंपनी के सीधे प्रतिस्थापन से, भारत के संचालन पर कब्जा कर लिया?</p> <p>A) ब्रिटिश मुकुट
B) पुर्तगाली मुकुट
C) फ्रेंच सरकार
D) डच सरकार</p> |
|---|--|
-
- | | |
|--|--|
| <p>100) In which year was the judgement for the 'Mandal Case' given by the court?</p> <p>A) 1992
B) 1961
C) 1974
D) 1983</p> | <p>100) किस वर्ष में 'मंडल केस' का निर्णय अदालत ने दिया था?</p> <p>A) 1992
B) 1961
C) 1974
D) 1983</p> |
|--|--|
-
- | | |
|--|--|
| <p>101) Who among the following was the first person to make three test centuries in his first three innings as a captain?</p> <p>A) Virat Kohli
B) Mahendra Singh Dhoni
C) Hashim Amla
D) Steve Smith</p> | <p>101) निम्नलिखित में से कौन सबसे पहले व्यक्ति थे जिन्होंने कप्तान के रूप में अपनी पहली तीन पारियों में तीन टेस्ट शतक बनाए थे?</p> <p>A) विराट कोहली
B) महेन्द्र सिंह धोनी
C) हाशिम अमला
D) स्टीव स्मिथ</p> |
|--|--|
-
- | | |
|--|--|
| <p>102) Who won the 2017 FIDE World Team Championship in the Open Section held from June 17-26 in Ugra?</p> <p>A) Norway
B) China
C) Russia
D) India</p> | <p>102) उग्रा में 17 से 26 जून तक आयोजित ओपन सेक्शन में, 2017 FIDE वर्ल्ड टीम चैम्पियनशिप किसने जीता?</p> <p>A) नॉर्वे
B) चीन
C) रूस
D) इंडिया</p> |
|--|--|
-

-
- | | |
|---|--|
| <p>103) On passing the writ of Habeas Corpus, usually within how many hours of arrest, a person shall be presented before the court?</p> <p>A) 6 hours
B) 2 hours
C) 12 hours
D) 24 hours</p> | <p>103) हबीस कार्पस की प्रादेश (रिट) पारित करने पर, आम तौर पर गिरफ्तारी के कितने घंटे में, एक व्यक्ति को अदालत के सामने पेश किया जाएगा?</p> <p>A) 6 घंटे
B) 2 घंटे
C) 12 घंटे
D) 24 घंटे</p> |
|---|--|
-
- | | |
|---|---|
| <p>104) Delhi Metro Corporation received its first driverless train from which of the following countries?</p> <p>A) South Korea
B) Germany
C) Australia
D) Japan</p> | <p>104) निम्न में से किस देश से, दिल्ली मेट्रो निगम ने अपना पहला चालकहीन ट्रेन प्राप्त किया है?</p> <p>A) दक्षिण कोरिया
B) जर्मनी
C) ऑस्ट्रेलिया
D) जापान</p> |
|---|---|
-
- | | |
|--|---|
| <p>105) Under which part of the Indian Constitution, 'distribution of powers among centre and state' are discussed?</p> <p>A) X
B) III
C) XI
D) IV</p> | <p>105) भारतीय संविधान में केंद्र और राज्य के बीच अधिकारों के वितरण के तहत किस भाग में चर्चा की गई है?</p> <p>A) X
B) III
C) XI
D) IV</p> |
|--|---|
-
- | | |
|---|---|
| <p>106) Which of the following is a Sruti scripture as per the Hindu scriptures classification?</p> <p>A) Yajur veda
B) Dharma Shastras
C) Nibhandas
D) Darshanas</p> | <p>106) इनमें से कौन सा हिंदू शास्त्र वर्गीकरण के अनुसार श्रुति शास्त्र है?</p> <p>A) यजूर वेद
B) धर्म शास्त्र
C) निबंधस
D) दर्शनास</p> |
|---|---|
-

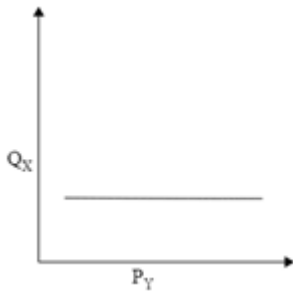
107) Which of the following cities is famous for manufacturing glassware?

- A) Bangalore
- B) Firozabad
- C) Vishakapatnam
- D) Alappuzha

107) निम्नलिखित में से कौन सा शहर कांच से बने पदार्थ के विनिर्माण के लिए प्रसिद्ध है?

- A) बेंगलोर
- B) फिरोजाबाद
- C) विशाखापटनम
- D) अलाप्पुझा

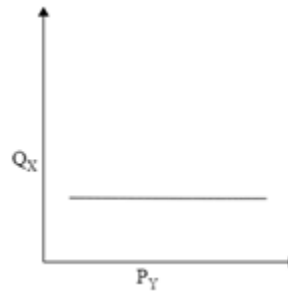
108) The given graph shows a relationship between Price and Demand of two different goods.



Which of the following types of goods depict the graph given above?

- A) Independent goods
- B) Substitute goods
- C) Dependent goods
- D) Complementary goods

108) दिया गया लेखा-चित्र (ग्राफ) दो अलग सामानों के मूल्य और माँग के बीच संबंध को दर्शाता है।



निम्न सामानों के प्रकार में से कौन सा ऊपर दिए गए ग्राफ को दर्शाता है?

- A) इंडिपेंडेंट गुड्स
- B) सबस्टीट्यूट गुड्स
- C) डिपेंडेंट गुड्स
- D) कॉम्प्लिमेंटरी गुड्स

109) Which blood group acts as universal donor?

- A) A
- B) O
- C) B
- D) AB

109) कौन सा रक्त समूह सार्वभौमिक दाता के रूप में कार्य करता है?

- A) A
- B) O
- C) B
- D) AB

110) Which of the following elements is found in highest percentage in the human body?

- A) Carbon
- B) Oxygen
- C) Nitrogen
- D) Hydrogen

110) निम्न में से कौन सा तत्व मानव शरीर में सर्वोच्च प्रतिशत में पाया जाता है?

- A) कार्बन
- B) ऑक्सीजन
- C) नाइट्रोजन
- D) हाइड्रोजन

-
- | | |
|---|---|
| <p>111) Which cell on the body of a chameleon is responsible for its blue colour?</p> <p>A) Xanthophores</p> <p>B) Erythrophores</p> <p>C) Melanophores</p> <p>D) Iridophores</p> | <p>111) एक गिरगिट के शरीर पर कौन सा कोशिका अपने नीले रंग के लिए जिम्मेदार है?</p> <p>A) सैंथोफोर्स</p> <p>B) एरीथ्रोफोर्स</p> <p>C) मेलनोफोर्स</p> <p>D) इरिडोफोर्स</p> |
|---|---|
-
- | | |
|--|--|
| <p>112) What is the area covered by the Indo - Gangetic plain?</p> <p>A) 4 lakh square kilometers</p> <p>B) 5 lakh square kilometers</p> <p>C) 6 lakh square kilometers</p> <p>D) 7 lakh square kilometers</p> | <p>112) सिन्धु-गंगा के मैदान द्वारा आवृत क्षेत्र कितना है?</p> <p>A) 4 लाख वर्ग किलोमीटर</p> <p>B) 5 लाख वर्ग किलोमीटर</p> <p>C) 6 लाख वर्ग किलोमीटर</p> <p>D) 7 लाख वर्ग किलोमीटर</p> |
|--|--|
-
- | | |
|--|--|
| <p>113) In what form is the information carried in fibre-optic cables?</p> <p>A) Sound waves</p> <p>B) Electrical pulses</p> <p>C) Light waves</p> <p>D) Electromagnetic radiation</p> | <p>113) फाइबर ऑप्टिक केबल में जानकारी किस रूप में ले जाया जाता है?</p> <p>A) ध्वनि तरंगे</p> <p>B) विद्युत पल्स</p> <p>C) प्रकाश तरंगे</p> <p>D) विद्युत चुम्बकीय विकिरण</p> |
|--|--|
-
- | | |
|--|---|
| <p>114) Which of the following countries successfully set-up its first cargo spacecraft?</p> <p>A) Australia</p> <p>B) Italy</p> <p>C) Japan</p> <p>D) China</p> | <p>114) निम्न में से किस देश ने सफलतापूर्वक अपना पहला मालवाहक अंतरिक्ष यान स्थापित किया?</p> <p>A) ऑस्ट्रेलिया</p> <p>B) इटली</p> <p>C) जापान</p> <p>D) चीन</p> |
|--|---|
-
- Page32of43

-
- | | |
|---|--|
| <p>115) Which among the following bacteria is the main cause of dental decay?</p> <p>A) Streptococcus mutans</p> <p>B) Aeromonas hydrophila</p> <p>C) Caulobacter crescentus</p> <p>D) Caulobacter vibrioides</p> | <p>115) निम्न में से कौन सा बैक्टीरिया दंत क्षय का मुख्य कारण है?</p> <p>A) स्ट्रेप्टोकोकस म्यूटान</p> <p>B) एरोमोनास हाइड्रोफिला</p> <p>C) कॉलोबक्टेर क्रेसेंटस</p> <p>D) कॉलोबक्टेर विब्रियोइड्स</p> |
|---|--|
-
- | | |
|--|--|
| <p>116) For his contributions to which of the following fields did Charles Kao win the Nobel prize in 2009?</p> <p>A) Design and synthesis of molecular machines</p> <p>B) Development and use of fiber optics in telecommunications</p> <p>C) Seminal discoveries of cosmic sources of X-rays</p> <p>D) Discoveries concerning a novel therapy against infections caused by roundworm parasites</p> | <p>116) निम्नलिखित में से किस क्षेत्र में योगदान के लिए चार्ल्स काओ ने 2009 में नोबेल पुरस्कार जीता था?</p> <p>A) आणविक मशीनों के डिजाइन और संकलन</p> <p>B) दूरसंचार में फाइबर ऑप्टिक्स का विकास और उपयोग</p> <p>C) एक्स-रे के ब्रह्मांडीय स्रोतों की प्रभावपूर्ण खोज</p> <p>D) केचुआ परजीवी के कारण संक्रमण के खिलाफ एक अनूठा चिकित्सा से संबंधित खोज</p> |
|--|--|
-
- | | |
|--|--|
| <p>117) As on June 2017, Eighth Schedule of the Indian Constitution comprises of how many languages?</p> <p>A) 22</p> <p>B) 18</p> <p>C) 14</p> <p>D) 10</p> | <p>117) जून 2017 तक, भारतीय संविधान की आठवीं अनुसूची में कितनी भाषाएं शामिल हैं?</p> <p>A) 22</p> <p>B) 18</p> <p>C) 14</p> <p>D) 10</p> |
|--|--|
-
- | | |
|---|---|
| <p>118) Which of the following states shares its border with Bangladesh and Myanmar?</p> <p>A) Assam</p> <p>B) Meghalaya</p> <p>C) Mizoram</p> <p>D) Nagaland</p> | <p>118) निम्नलिखित राज्यों में से कौन बांग्लादेश और म्यांमार के साथ अपनी सीमा को साझा करता है?</p> <p>A) असम</p> <p>B) मेघालय</p> <p>C) मिज़ोरम</p> <p>D) नागालैण्ड</p> |
|---|---|
-

119) Which of the following is the objective of Thor experiment?

- A) Study the behaviour of honey bees with respect to radio waves
- B) Study the effect of zero gravitation on bacteria and viruses in space
- C) To investigate electrical activity from thunderstorms
- D) To understand the nature of gravitational waves

119) थोर प्रयोग का उद्देश्य निम्न में से कौन सा है?

- A) रेडियो तरंगों के संबंध में मधुमक्खियों के व्यवहार का अध्ययन करना
- B) अंतरिक्ष में जीवाणु और विषाणु पर शून्य गुरुत्वाकर्षण के प्रभाव का अध्ययन करना
- C) तड़ितझंझा की विद्युत गतिविधि की जांच करना
- D) गुरुत्वाकर्षण तरंगों की प्रकृति को समझना

120) If there are large number of firms producing homogeneous products, the competition generally is said to be:

- A) Monopolistic competition
- B) Perfect competition
- C) Imperfect competition
- D) Oligopolistic competition

120) अगर सजातीय उत्पादों के निर्माण में बड़ी संख्या में कंपनियां हैं, तो प्रतियोगिता को आमतौर पर कहा जाता है:

- A) एकाधिकार प्रतियोगिता
- B) परीपूर्ण प्रतियोगिता
- C) अपूर्ण प्रतियोगिता
- D) अल्पाधिकार प्रतियोगिता

Section 3 - Part C-English Language

121) Choose the antonym of the underlined word.

The kernel was missing in the meeting held last Tuesday.

- A) Centre
 - B) Keynote
 - C) Husk
 - D) Core
-

122) Identify the synonym of the italicised word:

Almonds are *extensively* grown in Russia.

- A) Narrowly
 - B) Widely
 - C) Permanently
 - D) Openly
-

123) Choose the option that best completes the sentence :

My parents were quite strict but I had a happy _____.

- A) friends
 - B) upbringing
 - C) tradition
 - D) relatives
-

124) Fill in the blanks with the correct option:

He lives _____ the Arthur Road _____ Mumbai.

- A) at, in
- B) on, at
- C) in, at
- D) at, on

125) Identify the correct statement:

(A) The sofa went on against that wall.

(B) I bought some flowers that were going on cheap.

(C) We don't go on to the cinema very often these days.

(D) This war has been going on for years.

- A) B
 - B) A
 - C) D
 - D) C
-

126) Fill in the blanks with the correct option:

He was very tired when he _____ home. He _____ working very hard the whole day.

- A) arrive, has been
 - B) arrived, had been
 - C) arrived, has had been
 - D) arriving, had been
-

127) Fill in the blanks with the correct option:

The children in the picture _____ delicate and otherworldly.

- A) look
- B) is looking
- C) looking
- D) looks

128) Identify the meaning of the underlined Idiom/Phrase:

That man's health is sure to break down as he has irons in the fire, too many.

- A) hard labour
 - B) excess work at once
 - C) limited work
 - D) challenging work
-

129) Identify the synonym of the italicised word:

Gautama Buddha worked hard for the *enlightenment* of the general public.

- A) Qualification
 - B) Insight
 - C) Bewilderment
 - D) Ignorance
-

130) Identify the Complex sentence.

- A) It's the intelligence of her writing that impresses me.
 - B) He flexed his muscles.
 - C) She made herself a large mug of cocoa and went to bed.
 - D) I was muffled up against the cold in a scarf.
-

131) Identify the synonym of the italicised word:

The Vatranas are looking for a little room in the mall, where they won't be *accessible* to their friends.

- A) Applicable
- B) Comparable
- C) Amicable
- D) Reachable

132) Fill in the blanks with the correct option:

Let _____ go for a walk.

- A) She
 - B) Your
 - C) Us
 - D) I
-

133) Fill in the blank with the correct option:

She answered _____ journalist's questions with _____ deft touch.

- A) No Article, an
 - B) an, a
 - C) the, a
 - D) No article required, the
-

134) Fill in the blanks with the correct option:

Dinesh _____ to help me so, I _____ complete my project.

- A) agrees, would
 - B) agreed, was able to
 - C) has agreed, am
 - D) has agreed, was able
-

135) Fill in the blanks with the correct option:

Endangered species _____ to be kept secure from poachers.

- A) has needed
- B) will need
- C) needs
- D) is needed

136) Fill in the blanks with the correct option:

They moved southwest in _____ attempt to find better land.

- A) the
 - B) No Article
 - C) an
 - D) a
-

137) Choose the correct spelling from the four options:

- A) dedductible
 - B) deductable
 - C) deductible
 - D) deductiable
-

138) Fill in the blanks with the correct option:

We need _____ definite answer by tomorrow.

- A) the
 - B) No Article
 - C) an
 - D) a
-

139) Choose the antonym of the underlined word.

Autocracy is very rare in the world of modern era.

- A) Socialism
- B) Despotism
- C) Anarchy
- D) Democracy

140) Fill in the blank with the correct option:

She scorned all my offers of _____ help.

- A) an
 - B) the
 - C) No Article
 - D) a
-

141) Fill in the blanks with the correct option:

You should explain this _____ them.

- A) for
 - B) with
 - C) to
 - D) at
-

142) Fill in the blanks with the correct option:

_____ hammer is _____ simple tool.

- A) A, a
 - B) No Article, an
 - C) An, No Article
 - D) No Article, No Article
-

143) Choose the antonym of the underlined word.

Her boyfriend's occasional visits infuriated her parents.

- A) Casual
- B) Rare
- C) Frequent
- D) Irregular

144) Fill in the blanks with the correct option:

I find it very tiring to do _____ same job day after day.

- A) the
 - B) an
 - C) No Article
 - D) a
-

145) Identify the error in the following sentence. The error, if any, will be in one part of the sentence, the number of that part is your answer. If there is no error, mark your answer as D:

(A) This room / (B) get very / (C) little sunshine. / (D)

No error

- A) A
 - B) B
 - C) C
 - D) D
-

146) Choose the antonym of the underlined word.

Jade was very jovial in his high school days.

- A) Gay
 - B) Chirpy
 - C) Genial
 - D) Gloomy
-

147) Identify the synonym of the italicised word:

Some luxurious 7 star hotels in the UK have imposed a *ban* on Opium.

- A) Nullification
- B) Prohibition
- C) Promotion
- D) Sale

148) Fill in the blanks with the correct option:

Why have _____ not talked to _____?

- A) You, him
 - B) Your, you
 - C) Him, he
 - D) Her, she
-

149) Identify the synonym of the italicised word:

Since 60's, the government's attempts to *curb* inflation in Egypt have been a failure.

- A) Reverse
 - B) Control
 - C) Retain
 - D) Develop
-

150) Choose the correct spelling from the four options:

- A) embarrass
 - B) embaress
 - C) emberrass
 - D) embarass
-

151) Choose the correct spelling from the four options:

- A) territorry
- B) terratory
- C) territory
- D) territtory

152) Choose the antonym of the underlined word.
The story of a greedy wolf was famous during my school days.

- A) Unselfish
 - B) Gluttonous
 - C) Grasping
 - D) Voracious
-

153) Identify the Complex sentence.

- A) She doesn't have the experience which is required for the job.
 - B) This cream is for external use only.
 - C) He just exudes confidence.
 - D) Of late, he's been working an extra two hours a day.
-

154) Fill in the blanks with the correct option:

Follow _____, if you want to finish your work fast.

- A) There
 - B) Their
 - C) Me
 - D) His
-

155) Choose the correct spelling from the four options:

- A) tigres
- B) tigress
- C) tigoress
- D) tigores

156) Identify the Complex sentence.

- A) He returned in the early hours.
 - B) You eat a massive plate of food for lunch, whereas I have just a sandwich.
 - C) She has a wide experience of teaching.
 - D) I'll meet you after the show.
-

157) Identify the synonym of the italicised word:

Indo-Pak bilateral summit has been *called off* due to terrorist infiltration in Jammu and Kashmir.

- A) Cancelled
 - B) Dejected
 - C) Postponed
 - D) Rejected
-

158) Identify the meaning of the underlined Idiom/Phrase:

When the plague broke out in London, Dr. X did yeoman's service.

- A) secretarial work
 - B) excellent work
 - C) kind work
 - D) courageous work
-

159) Fill in the blanks with the correct option:

Peaches _____ delicate skins which are easily bruised.

- A) is having
- B) have
- C) was having
- D) has

160) Identify the Compound sentence.

- A) He made several suggestions and was very helpful to us.
 - B) The audience were expressing their disapproval clearly.
 - C) The turtle hibernates in a shallow burrow for six months of the year.
 - D) Your cake was a real hit at the party.
-

161) Choose the antonym of the underlined word.

Today's ultra-lifestyle is producing some critical issues.

- A) Excessive
 - B) Advanced
 - C) Moderate
 - D) Radical
-

162) Fill in the blanks with the correct option:

Whom are _____ reporting to?

- A) Their
 - B) You
 - C) She
 - D) He
-

163) Fill in the blanks with the correct option:

The weather _____ cold suddenly.

- A) turn
- B) have turned
- C) has turned
- D) have been turning

164) Choose the option that best completes the sentence:

I am her next of _____so, you can share the family secrets with me.

- A) buddy
 - B) adversary
 - C) offspring
 - D) kin
-

165) Fill in the blanks with the correct option:

She _____ a confident and practised speaker who always _____ the audience.

- A) is ; impressing
 - B) is ; impresses
 - C) were ; impresses
 - D) is ; impress
-

166) Fill in the blanks with the correct option:

She learnt German _____ the age of sixty.

- A) for
 - B) at
 - C) in
 - D) on
-

167) Fill in the blanks with the correct option:

We need good knowledge _____ understand what he is saying.

- A) at
- B) into
- C) from
- D) to

168) Identify the meaning of the underlined Idiom/Phrase:

In times of crisis people show their true colours.

- A) reveal their secrets
 - B) reveal their strengths
 - C) reveal their ambitions
 - D) reveal their personality
-

169) Fill in the blanks with the correct option:

India is the largest export market _____ the US.

- A) on
 - B) after
 - C) from
 - D) as
-

170) Fill in the blanks with the correct option:

Rice does not _____ in cold climate.

- A) grow
 - B) grown
 - C) grows
 - D) grew
-

171) Fill in the blanks with the correct option:

Indian education system _____ rapidly.

- A) improving
- B) improve
- C) is improving
- D) improves

172) Identify the correct statement:

- (A) The corn waved aside gently in the summer breeze.
- (B) A crowd of football fans ran down the street waving aside banners.
- (C) She waved aside all my objections.
- (D) I waved aside at him from the window but he didn't see me.

- A) B
 - B) C
 - C) D
 - D) A
-

173) Fill in the blanks with the correct option:

I read in the newspaper that 'Sachin Tendulkar _____ a Bharat Ratna.'

- A) receiving
 - B) will receive
 - C) receive
 - D) received
-

174) Choose the option that best completes the sentence :

I have advised him_____.

- A) to not resign his job
- B) not resign his job
- C) to don't resign his job
- D) not to resign his job

175) Fill in the blanks with the correct option:

The market _____ during the strike last year.

- A) closed
 - B) is closing
 - C) will close
 - D) closes
-

176) Fill in the blanks with the correct option:

The child was sleeping peacefully _____ the blanket.

- A) from
 - B) besides
 - C) under
 - D) into
-

177) Fill in the blanks with the correct option:

Last year _____ an outpour of cookery books.

- A) seeing
 - B) saw
 - C) see
 - D) sees
-

178) Identify the correct statement:

- (A) The troops fell down to their original position.
- (B) They had no savings to fall down on.
- (C) They fell down on their entrenchments.
- (D) Where do you think the plan falls down?

- A) C
- B) A
- C) D
- D) B

179) Choose the option that best completes the sentence :

The ex- minister, known for his honesty, gave _____ interview about his reasons for resigning.

- A) a candid
 - B) a job
 - C) an ambiguous
 - D) an evasive
-

180) Identify the meaning of the underlined Idiom/Phrase:

He lives cheek by jowl with this stranger who has newly come to this locality.

- A) secretly
- B) close together
- C) cordially
- D) happily

Answer Keys

1	C	46	B	91	D	136	C
2	D	47	D	92	C	137	C
3	A	48	A	93	B	138	D
4	A	49	D	94	A	139	D
5	C	50	C	95	D	140	C
6	A	51	C	96	A	141	C
7	D	52	B	97	A	142	A
8	B	53	A	98	A	143	C
9	C	54	D	99	A	144	A
10	B	55	A	100	A	145	B
11	C	56	C	101	A	146	D
12	D	57	D	102	B	147	B
13	C	58	C	103	D	148	A
14	B	59	C	104	A	149	B
15	C	60	A	105	C	150	A
16	A	61	C	106	A	151	C
17	D	62	D	107	B	152	A
18	C	63	C	108	A	153	A
19	B	64	D	109	B	154	C
20	B	65	C	110	B	155	B
21	D	66	A	111	D	156	B
22	A	67	A	112	D	157	A
23	D	68	A	113	C	158	B
24	B	69	C	114	D	159	B
25	B	70	C	115	A	160	A
26	A	71	C	116	B	161	C
27	B	72	A	117	A	162	B
28	A	73	B	118	C	163	C
29	C	74	C	119	C	164	D
30	C	75	A	120	B	165	B
31	C	76	A	121	C	166	B
32	A	77	C	122	B	167	D
33	C	78	B	123	B	168	D
34	B	79	D	124	A	169	B
35	B	80	C	125	C	170	A
36	C	81	D	126	B	171	C
37	D	82	C	127	A	172	B
38	A	83	A	128	B	173	B
39	B	84	D	129	B	174	D
40	C	85	C	130	A	175	A
41	D	86	B	131	D	176	C
42	A	87	C	132	C	177	B
43	A	88	A	133	C	178	C
44	D	89	B	134	B	179	A
45	A	90	C	135	C	180	B